



版权所有  
复制必究

## 《行政能力倾向测验》二

### 重要提示

为维护您的个人权益，确保考试的公平公正，请您协助我们监督考试实施工作。

本场考试规定：监考老师要向本考场全体考生展示题本密封情况，并邀请 2 名考生代表验封签字后，方能开启试卷袋。

(仅限华图教育教学使用)

二〇二〇年

准考证号

姓名



请将此条形码撕下，贴在答题卡指定位置



关注华图社会工作者公众号  
获取更多社区社工咨询

### 注意事项

1. 本题本由三个部分构成，共 100 题，总作答时间 90 分钟。
2. 请在题本、答题卡指定位置上用黑色字迹的钢笔或签字笔填写自己的姓名和准考证号，并用 2B 铅笔在准考证号对应的数字上填涂。
3. 请用黑色字迹的钢笔或签字笔在指定的答题区域内作答。在非指定位置作答或用铅笔作答的，成绩无效。
4. 待监考人员宣布考试开始后，你才可以开始答题。
5. 所有题目一律使用现代汉语作答。在作答时，不得使用本人姓名，答题中凡出现本人姓名者作违纪处理。
6. 监考人员宣布考试结束时，考生应立即停止作答，将题本、答案卡和草稿纸留在桌上，在考生座次表对应准考证号、姓名栏内签字确认后方可离开。

#### 严禁折叠答题卡！

停！请不要往下翻！听候监考老师的指示。  
否则，会影响你的成绩。

## 第一部分 常识判断

(共 20 题，参考时限 10 分钟)

根据题目要求，在四个选项中选出一个最恰当的答案。

1. 2019 年 4 月 1 日出版的第 7 期《求是》杂志发表了中共中央总书记、国家主席、中央军委主席习近平的重要文章《关于坚持和发展中国特色社会主义的几个问题》。下列关于这篇文章的表述错误的是（ ）

- A. 道路问题是关系党的事业兴衰成败第一位的问题
- B. 中国特色社会主义是实现中华民族伟大复兴的必由之路
- C. 只有马克思主义才能救中国和发展中国，这是人民的选择
- D. 社会主义建设有改革开放前和改革开放后两个历史时期

2. 习近平对于生态文明的“四个一”表述高度概括了生态文明建设在新时代党和国家事业中的战略定位，要保持加强生态文明建设的战略定力。以下不属于生态文明建设“四个一”的是（ ）

- A. “五位一体”的其中一位——生态文明建设
- B. 治国理政的其中一环——环境保护
- C. 新发展理念的其中一大理念——绿色
- D. 中国特色社会主义基本方略中的其中一条——坚持人与自然和谐共生

3. 刘某在自家花园里拴养了多条猎犬，因猎犬经常半夜吠叫，周围邻居向当地派出所举报刘某扰民，当地派出所多次出警处理无效后，对刘某处以警告和 400 元罚款。刘某认为自己的猎犬并没有扰民，拒绝缴纳罚款。对此，下列说法正确的是（ ）

A. 刘某的行为违反了《治安管理处罚法》的相关规定，当地派出所可以依法作出处罚决定

- B. 猎犬半夜吠叫是不可抗力，刘某具有免责情形，当地派出所不能对刘某进行处罚
- C. 刘某提出行政复议期间，无需缴纳罚款
- D. 当地派出所只是公安局的派出机关，应当由当地公安局对刘某做出处罚决定

4. 下列各项中，不适用《劳动法》的是（ ）

- A. 个人独资企业及其雇佣的人员
- B. 某公安局与其聘请的清洁工人
- C. 某家庭与其雇佣的家庭保姆

D. 某包工队招收的农民工

5. ( )，位于亚洲最东点的迭日涅夫角和美洲最西点的威尔士王子角之间的海峡，是亚洲与北美洲的分界线。

A. 白令海峡

B. 马六甲海峡

C. 保克海峡

D. 对马海峡

6. 下列绘画作品与作者对应错误的是 ( )

A. 《秋风纨扇图》—唐寅

B. 《愚公移山》—徐悲鸿

C. 《最后的晚餐》—拉斐尔

D. 《向日葵》—梵·高

7. 下列关于三大国粹说法正确的是 ( )

A. 中国画基本上可以分为四大类：人物画、山水画、野兽画、花鸟画

B. 中医所说的五脏六腑中，五脏指的是：肝、胃、脾、肺、肾

C. 京剧表演四项基本功是：唱、念、做、打

D. 京剧角色中“净”是女性角色的统称

8. 下列有关历史纪年的表述，正确的是 ( )

A. 辛丑年过后十年是辛亥年

B. 公元前 6 世纪初罗马共和国建立

C. 康熙五十年时康熙皇帝 50 岁

D. 中华民国二十七年全面抗战开始

9. 下列选项中对我国古代小说描述错误的是 ( )

A. 《聊斋志异》——中篇讽刺小说

B. 《儒林外史》——长篇讽刺小说

C. 《西游记》——明代四大奇书之一

D. 《红楼梦》——中国古代小说最高峰

10. 下列有关宪法宣誓制度表述错误的是 ( )

A. 作出该决定的是全国人民代表大会常务委员会

B. 各级人民政府任命的国家工作人员就职时应当公开进行宪法宣誓

C. 宣誓仪式根据情况，可以采取单独宣誓或者集体宣誓的形式

D. 中华人民共和国主席进行宪法宣誓时，其宣誓仪式由全国人大常委会委员长组织

11. 心脏是脊椎动物身体中最重要的一個器官，下列有关心脏的说法错误的是（ ）
- A. 其主要功能是为血液流动提供压力，把血液运行至身体各个部分
  - B. 人类的心脏通常位于胸腔中部右下方
  - C. 心脏主要由心肌构成，有左心房、左心室、右心房、右心室四个腔
  - D. 女性的心脏通常要比男性的体积小且重量轻
12. 一列质量较大的火车迎面撞向一列质量较小且静止的火车上，则两列火车受到冲击力的情况是（ ）
- A. 两列火车均未受到冲击力
  - B. 两列火车受到的冲击力一样大
  - C. 质量较大的火车受到的冲击力更大
  - D. 质量较小的火车受到的冲击力更大
13. 关于化学反应，下列说法错误的是（ ）
- A. 电解过程是一个化学变化过程
  - B. 在反应前后，催化剂的物理性质不会发生变化
  - C. 化学平衡是动态平衡，在改变条件化学反应可能会重新开始
  - D. 化学反映有时会发光，发热，生成气体沉淀物等现象
14. 关于生物的遗传，下列说法错误的是（ ）
- A. 无性生殖过程中可能会出现减数分裂
  - B. 哺乳动物雄性个体细胞的性染色体对为 XY，雌性则为 XX
  - C. 人体的一对同源染色体，一个来自父本，一个来自母本
  - D. 染色体是细胞遗传信息的主要载体
15. 航空航天发展对于国家自身发展具有重要的战略意义，下列对航空航天技术叙述正确的是（ ）
- A. 首个发射载人空间站的国家是美国
  - B. 航空技术与航天技术是同一种技术，统称为航空航天技术
  - C. 火箭按射程分为近程火箭，中程火箭，远程火箭和洲际火箭
  - D. 中国第一艘载人航天飞船是神舟六号
16. 下列有关生活中常见的物理常识的叙述正确的是（ ）
- A. 电饭煲、电炒锅、微波炉的工作原理均是将电能直接转换成热能
  - B. 在菜刀的刀刃上抹油，是为了在切菜时，使接触面光滑、减少摩擦

C. 冬天往玻璃杯中倒水，容易使杯子炸裂，是由于内外温差大，瞬间热传递的能量接近玻璃的熔化值

D. 往保温瓶里倒开水，能根据声音来判断水量的高低，是因为水位越高，水体压力越大，新加入的水所受到的冲击力也越大

17. 下列关于我国地理表述，正确的是（ ）

A. 泰山、华山、恒山、衡山和庐山被称为“五岳”

B. 南海有东沙、西沙、中沙、南沙四个群岛

C. 西藏自治区是我国面积最大的省级行政区

D. 华北平原是我国面积最大的平原

18. 豆腐是一种富含蛋白质的食品，下列关于豆腐的相关说法，错误的是（ ）

A. 豆腐是一种以黄豆为主要原料的食物

B. 豆腐可以与菠菜一起吃

C. 豆腐可以预防心血管疾病

D. 卤水点豆腐利用了电解质使胶体沉淀的过程

19. 有关能源和作为能源的物质，说法错误的是（ ）

A. 绿色植物进行光合作用，将光能转化成化学能“贮存”起来

B. 化石能源属于非再生能源

C. 汽车采用天然气作为燃料可以减少对大气的污染

D. 物质的化学能在任何情况下都可以转化成热能、电能、光能等人类所利用

20. 下列有关生活常识，错误的是（ ）

A. 夏天不宜穿深色衣服，深色比浅色更易吸收辐射热

B. 按照建筑采光要求，相同高度的住宅群，昆明的楼间距应比常州的小

C. 在汽车玻璃清洗液中加入适当比例的酒精，可使其清洗效果更好

D. 驱肠虫药若饭后服用，容易达到最好的驱虫效果

## 第二部分 言语理解与表达

（共 20 题，参考时限 20 分钟）

本部分包括表达与理解两方面的内容。请根据题目要求，在四个选项中选出一个最恰当的答案。

21. 为调和潮湿闷热的天气，东南亚菜普遍偏向重口味，无论是菜肴还是汤品，大多酸辣，很容易刺激味蕾，让人忍不住\_\_\_\_\_，在这个饮食界的酸辣帝国中，冬阴功汤堪称东南亚菜肴中的\_\_\_\_，以其独特的口感吸引着世界各国食客。

依次填入划横线部分最恰当的一项是（ ）

- A. 狼吞虎咽 翘楚  
B. 大快朵颐 翘楚  
C. 拍案叫绝 回首  
D. 食不甘味 杰作

22. 据 2008 年 7 月 18 日《中国青年报》报道，山东玫德责任有限公司为“济南市希望工程乡村教师援助计划”注入了 26 万元的\_\_\_\_资金。这笔资金除了用于为济南市乡村教师提供生活上的帮助外，还将抽调一部分资金帮助他们参加培训学习，\_\_\_\_提高乡村教师的整体素质，\_\_\_\_乡村教师的工作和生活条件。这一资助项目是济南市希望工程的创新与发展，在全国公益机构活动中尚属\_\_\_\_\_。

依次填入划横线部分最恰当的一项是（ ）

- A. 起动 从而 改善 先例  
B. 启动 从而 改善 首例  
C. 启动 进而 改进 先例  
D. 起动 进而 改进 首例

23. 汉字无论是字形的演变，还是其中的文化意蕴，都\_\_\_\_了中华民族几千年积淀下来的精神财富。认识和\_\_\_\_汉字，熟悉它们的内涵，是我们了解中华历史与文化的重要途径，对\_\_\_\_优秀的文化基因和弘扬优秀的民族文化，意义重大。

填入划横线部分最恰当的一项是（ ）。

- A. 聚集 辨析 继承  
B. 凝聚 辨别 承接  
C. 聚集 辨别 承接  
D. 凝聚 辨析 继承

24. 语文课上得简捷，课堂导入也要简捷。最好开门见山，一句话导入课题。力避繁琐、花哨、作秀、不实用。因为导入仅仅是个环节、是个铺垫、而不是课堂教学的重头戏。好多初学教学的语文教师或参评各级优质课评选的老师爱在课堂导入环节上\_\_\_\_\_，设计\_\_\_\_\_的铺陈，这是错误的。

填在横线上最恰当的词语是（ ）。

- A. 煞费苦心 繁琐  
B. 费尽心机 烦琐  
C. 挖空心思 琐碎  
D. 呕心沥血 繁杂

25. 俄罗斯今年来数次切断对邻国的天然气供应，在欧盟国家引起不小的\_\_\_\_，认为欧盟的能源安全随时可能要受到威胁。

填入划横线部分最恰当的一项是（ ）。

- A. 震惊  
B. 震动  
C. 恐惧  
D. 麻烦

26. 我们仍一如既往坚决支持第三世界国家进行的反对外来侵略和干涉、维护民族独立和国家主权的斗争，我们绝不能因考虑国家关系而对侵略干涉行为\_\_\_\_\_。

填入划横线部分最恰当的一项是（ ）。

- A. 不管不顾  
B. 姑息迁就  
C. 坐视观望  
D. 漠然处之

27. 如果说传统媒体人过去有\_\_\_\_\_的心态，现在却有不少人又开始\_\_\_\_\_。

填在横线上最恰当的词语是（ ）。

- A. 目空一切 目若无人  
B. 妄自尊大 妄自菲薄  
C. 唯我独尊 自甘堕落  
D. 自高自大 自我陶醉

28. 假如你想当网红，千万别走\_\_\_\_\_的路线，千万别当逾越道德底线和法律规定的网红。也许有人不以为然，觉得成为网红的任何途径，都符合这个时代的价值多元性。的确，我们承认并倡导价值多元，但多元不是挑战公序良俗，不能充满阴冷丑恶。

填入划横线部分最恰当的一项是（ ）。

- A. 抱残守缺  
B. 贻笑大方  
C. 哗众取宠  
D. 外强中干

29. 在对持文化遗产的问题上，如何既保护好，又利用好，从而更好地\_\_\_\_，引发很多人的思考。尤其是那些从民间生活中生长出来的，一直和人们日常生活密切相关的传统手工艺品、非物质文化遗产等，有必要加以适当改造，以符合现代人的审美情趣，重新\_\_\_\_当代生活。

填入划横线部分最恰当的一项是（ ）。

- A. 传承 融入  
B. 继承 流入  
C. 发扬 深入  
D. 弘扬 溶入

30. 近年来，影视作品里的炫富现象越来越多。这现象有其深层的社会原因：社会转型期，部分先富起来的人沉浸于自我陶醉之中，产生了强烈的优越感和排他心理。影视作品是社会思潮的反映和社会现状的缩影，部分影视作品开始迎合并助推这种思潮的\_\_\_\_。影视产业的繁荣发展让许多从业者收入渐涨、身价倍增。其中有些人发财之后就\_\_\_\_，甚至\_\_\_\_、迷失自我，陶醉在资本逻辑当中无法自拔。

填入划横线部分最恰当的一项是（ ）。



- A. 泛滥 沾沾自喜 忘乎所以
- B. 漫溢 忘乎所以 沾沾自喜
- C. 发展 趾高气扬 得意洋洋
- D. 弥漫 得意洋洋 趾高气扬

31. 有科学家认为，迁徙动物都有独特的“助航设施”，它们通过海岸线等作为参照，利用特殊的嗅觉和听觉等获得方向。也有科学家认为，迁徙动物身体中存在磁受体，可以感应地球磁场，它们有自己的生物指南针。更有趣的是，又有科学家发现即使是室内饲养的从未接触过其他同伴的年轻乌鸦，也会沿着祖辈飞过的路线进行迁徙，也就是说，它们已经从上一代遗传了迁徙的方向，它们天生就知道去哪里寻找温暖的地方过冬。

这段文字主要表达的是（ ）。

- A. 迁徙动物都有独特的“助航设施”
- B. 迁徙动物身体中存在磁受体
- C. 乌鸦从上一代遗传了迁徙的方向
- D. 关于动物如何确定迁徙路线，科学家给出多种解释，但目前仍没有定论

32. 自 20 世纪 90 年代中期以来，电子垃圾被认为是固体垃圾中发展最快的部分。目前，小型消费电子产品（如手机）几乎无处不在。由于缺乏足够的回收利用政策，这些体积小、寿命短的产品，通常因回收成本高而被随意丢弃，对环境和公众健康造成了不利的影 响。虽然目前的技术可用于从电子垃圾中回收贵重材料，但是瓶颈在于需要消费者或废品收购者收集、拆卸和分离材料组作。在回收问题提出时，工程师或科学家会本能地思考技术。当然，金属价格出是直接影响商业收集和处理效率的关键驱动因素。

这段文字主要讲述的是（ ）。

- A. 电子产品的回收方法
- B. 电子产品的回收困扰
- C. 电子产品的回收意义
- D. 电子产品回收后的资源化利用

33. 在忙碌和现实的现代社会中，人们的目光大都局限在现实社会这样一个盒子中，很少望一眼太空。现代社会同样造成了人们对数字的麻木感，没有人认真想过，1 光年到底有多远，而 150 亿光年的宇宙尺度在大多数人意识深处同 150 亿公里没有区别。对宇宙的麻木感充斥着整个社会。科幻的使命是拓宽人们的思想，如果读者因一篇科幻小说在下班的夜路上停下来，抬头若有所思地望一会儿天空，这篇小说就十分成功了。

这段文字意在说明（ ）。

- A. 人们受现实局限，对宇宙麻木
- B. 人们要打破局限就要时不时的抬头看看天空
- C. 科幻小说很容易成功
- D. 科幻可以在一定意义上拓宽人们的思想

34. 在人类社会，在日常生活中，在社会科学和自然科学中，有着大量模糊的东西。我第一次听到模糊数学这个名词的时候，曾说过几句怪话：数学比任何科学都更要求清晰，要求准确，怎么还能有什么模糊数学呢？后来我读了一些介绍文章，逐渐了解了模糊数学的内容。我一反从前的想法，觉得模糊数学真是一个了不起的发现。诸多事物的模糊性，是无论如何也无法否认的。承认这个事实，对研究学术和制订政策等等都是有好处的。

这段文字主要说明（ ）。

- A. 社会生活比科学研究更具模糊性
- B. 社会科学比自然科学更具模糊性
- C. 模糊数学并不模糊，比任何科学都更清晰准确
- D. 承认社会生活和科学研究中存在模糊性很有必要

35. 记者从科大讯飞获悉：目前该公司有望携手合肥轨道交通2号线提供语音售票服务。通过语音输入，售票终端可以智能识别乘客需求，为乘客提供购票服务。昨日，记者从轨道公司相关人士求证得知，语音售票并非遥不可及，目前国内大城市已出现类似的技术手段。例如，近日上海地铁或将实现语音购票、刷脸进站、智能客流分析系统等多项高科技服务。

这段文字主要说明的是（ ）。

- A. 轨道交通实现语音售票有很多的好处
- B. 科大讯飞将携手合肥轨道交通共同打造智能高铁
- C. 语音售票将会成为未来轨道交通的标配之一
- D. 合肥轨道交通未来或许可以实现语音购票

36. 人大代表来自人民、植根人民，是党和国家联系人民群众的重要桥梁纽带。要把密切联系人民群众作为履行代表职责的基本要求，认真履行人大代表的各项职责，反映人民呼声，集中人民智慧，维护人民权益，增进人民福祉，做到民有所呼、我有所应，更好发挥代表作用。要加强代表思想政治作风建设，提高政治素质和履职能力，自觉接受人民监督。

这段话意在说明（ ）。

- A. 人大代表是党和国家联系人民群众的重要桥梁纽带

- B. 人大代表应认真履行各项职责
- C. 人大代表要自觉接受人民监督
- D. 人大代表应密切联系人民群众，更好发挥代表作用

37. 在大型游乐公园里，现场表演是刻意用来引导人群流动的。午餐时间的表演是为了减轻公园餐馆的压力，傍晚时间的表演则有一个完全不同的目的——鼓励参观者留下来吃晚餐。表面上不同时间的表演有不同的目的，但这背后，却有一个统一的潜在目标，即\_\_\_\_\_。

填入上面划横线的语句，最恰当的一项是（ ）。

- A. 尽可能地减少各游览点的排队人数
- B. 吸引更多的人来看现场表演，以增加利润
- C. 在尽可能多的时间里最大限度地发挥餐馆的作用
- D. 尽可能多地招徕顾客，希望他们再次来公园游览

38. 把下列句子组成语意连贯的语段，正确的排列顺序是（ ）。

①真实的“自我”之所以被压抑到无意识的领域之中，这种“自我欺骗”起了重要作用  
②真正的自信者必是有勇气正视自己的人，而这样的自信也必定和对自己的怀疑及不满有着内在的联系

③软弱的人往往有意无意的欺骗自己，忘掉那些不愉快的经历和体验  
④由此造成虚假的自信，有些人的自信不过是一种“有益的盲目”  
⑤真实需要巨大的勇气，认识真实的“自我”也不例外  
⑥事实上，几乎所有伟大的天才都并非天性自信的人，相反倒有几分自卑，他们为自己的弱点苦恼，于是奋起自强，反而有了令一般人吃惊的业绩

- A. ②①③④⑤⑥
- B. ⑤③①④②⑥
- C. ②⑥⑤③①④
- D. ⑤⑥②③④①

39. 把下列句子组成语意连贯的语段，正确的排列顺序是（ ）。

①然而，我们的大脑对音乐的感知却不是这样  
②所以要有交响乐，也正是这样的“和声”才使得我们这个世界充满趣味  
③例如管弦乐的合奏，音波虽然混合，但是管乐声和弦乐声仍然保持各自的特点  
④物理学家们长期热衷于研究的现象都是整体等于所有部分的加合，声音就是这样的  
⑤整体可以大于部分之和，这一事实在对大多数人来说已经是显而易见的了，但是曾经让物理学家们感到非常窘困

⑥虽然管乐声和弦乐声独立地进入我们的耳朵，但是这两种声音的“和声”对我们的情感所产生影响却远远大于这两种乐器的单独作用

- A. ④①③⑥②⑤                      B. ④③①⑤⑥②  
C. ⑤③④①②⑥                      D. ⑤④③①⑥②

40. 当下，越来越多的家长逐渐意识到情商的重要性，对培训机构打出的“儿童情商培养”的宣传心动不已，一年动辄几万的学费也挡不住他们的热情。有专家分析其原因，有几种可能：一种是意识到要对孩子进行情商的培养；另一种则是家长感觉到自己教育孩子出了问题，宁愿将孩子送出去教育，而不从自己的教育理念上找原因，这实际上是一种推脱责任的表现；此外还有来源于白领阶层日常工作模式中铸就的“自我实现”价值观，使年轻的父母在教育子女过程中过于焦虑，也是导致培训班火热的原因。

接下来最可能讨论的是（    ）。

- A. 选择情商培训班的方法  
B. 儿童情商培训现存状态  
C. 如何理性认识情商培训  
D. 情商教育对孩子成长的重要意义

### 第三部分 数量关系

（共 10 题，参考时限 10 分钟）

在这部分试题中，每道题呈现一段表述数资关系的文字，要求你迅速、准确地计算出答案。

41. 若下列四种图形的体积都相同，则表面积最小的是哪个？（    ）

- A. 三棱锥                              B. 正方体  
C. 球                                    D. 四棱台

42. 某文具店批发一批办公笔，其中圆珠笔 2 元/支，签字笔 5 元/支，钢笔 15 元/支，购买笔的数量为 1000 支，付款 5500 元。出货时，批发市场钢笔库存仅有 120 支，从而仅能批发给文具店 120 支钢笔，得将文具店购买钢笔差额 1200 元退回，则文具店原本打算购买钢笔（    ）支。

- A. 50                                    B. 100  
C. 150                                  D. 200

43. 某中学进行义务劳动，去甲地劳动的有 30 人，去乙地的有 24 人，从乙地调一部分人到甲地，使甲地的人数是乙地人数的 2 倍，则需要调（ ）人。

- A. 6  
B. 12  
C. 18  
D. 22

44. 书店对一本精装书，按 10% 的利润来定价，卖出时为了提高销量，打八折出售，结果亏损 12 元。那么这本精装书的成本是（ ）元。

- A. 80  
B. 100  
C. 120  
D. 150

45. 某商品按定价出售每件可获利 50 元，如果按定价的八折出售 10 件，与按定价每件减少 30 元出售 12 件所获利一样多，问商品定价为（ ）元。

- A. 240  
B. 150  
C. 130  
D. 100

46. 师徒二人加工一批零件，师徒二人各负责一半，当师傅完成其负责零件的一半时，徒弟完成了 120 个。当师傅完成所有零件时，徒弟完成了  $\frac{4}{5}$ ，问这批零件一共（ ）个。

- A. 300  
B. 120  
C. 600  
D. 240

47. 某单位职工中，环保志愿者有 20 人，社区志愿者有 34 人，两者都是的有 6 人，两者都不是的有 60 人。则这个单位有职工（ ）人。

- A. 96  
B. 102  
C. 108  
D. 114

48. 一艘船正行驶在大海中央，船员突然发现船舱漏水，渗入的海水已经漫过了膝盖。船长开启紧急排水系统，若要将水排干净，开 2 个排水口需 55 分钟，开 3 个排水口需 35 分钟。若同时开 4 个排水口，则大约多久能将渗水排完？（ ）

- A. 24 分钟  
B. 26 分钟  
C. 20 分钟  
D. 21 分钟

49. 某班要组织课外活动进行分组，若以每 10 人为一组，其中有两组各少一人，若以每 11 人为一组，其中有三组各少一人，则全班总人数可能为（ ）人。

- A. 98  
B. 107  
C. 118  
D. 136

50. 某公司年会，销售部、运营部、人事部和研发部四个部门进行乒乓球友谊赛。每两

个部门之间进行一场比赛且无平局。比赛结果如下：销售部输了两场，运营部比销售部少赢一场，研发部赢了三场，则人事部排名第几？（ ）

- A. 1
- B. 2
- C. 3
- D. 4

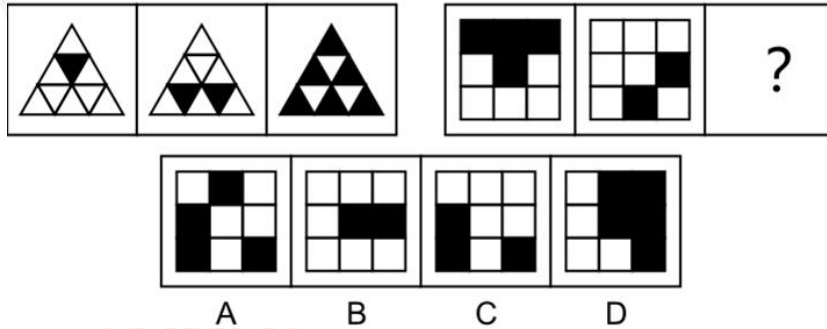
## 第四部分 判断推理

（共 35 题，参考时限 35 分钟）


一、图形推理。请按每道题的答题要求作答。

请开始答题：

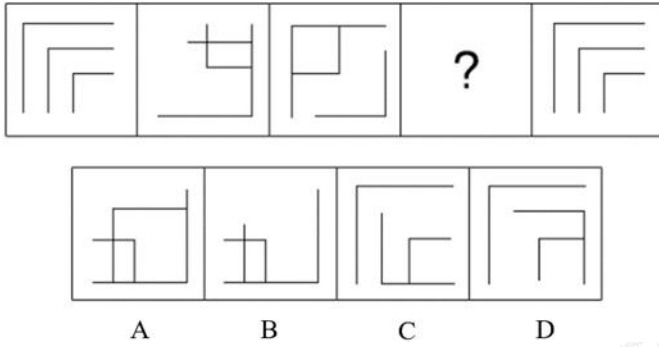
51. 从所给选项中，选择最适合的一个填入问号处，使之呈现一定的规律性（ ）。



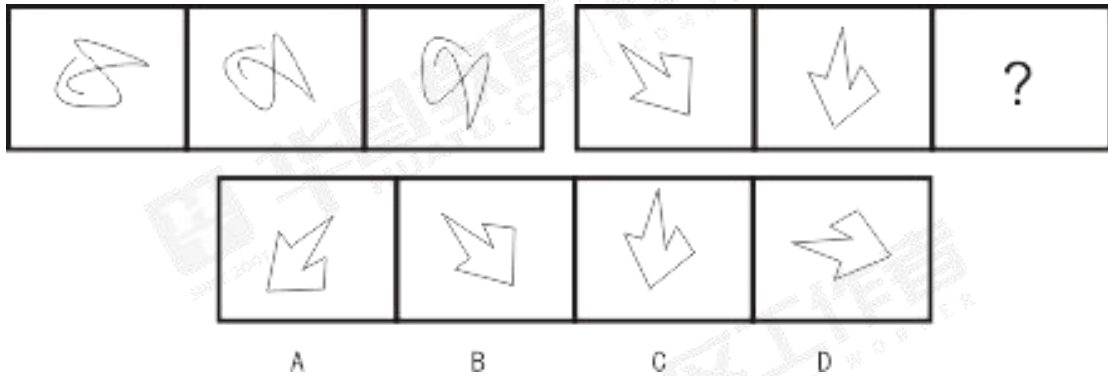
52. 从所给选项中，选择最适合的一个填入问号处，使之呈现一定的规律性（ ）。



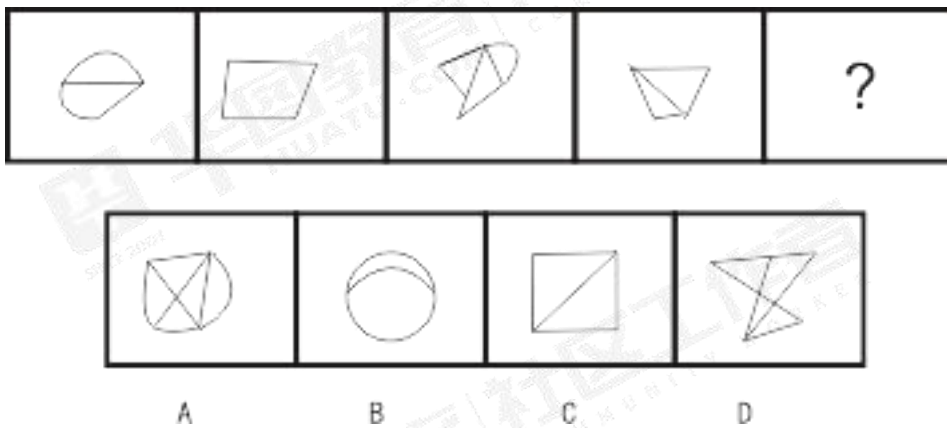
53. 从所给选项中，选择最适合的一个填入问号处，使之呈现一定的规律性（ ）。



54. 选择最合适的一项填入问号处，使之呈现一定的规律性（ ）。



55. 选择最合适的一项填入问号处，使之呈现一定的规律性（ ）。



二、定义判断。每道题先给出定义，然后列出四情况，要求你严格依据定义，从中选出一个最符合或最不符合该定义的答案。注意：假设这个定义是正确的，不容置疑的。

请开始答题：

56. 赠与合同是合同一方当事人将自己的财产无偿给予另一方当事人的合同。给予财产的一方当事人为赠与人，受领财产的一方为受赠人。

根据上述定义，下列行为形成赠与合同的是（ ）。

A. 张某将自己的一辆新车送给其外孙女作为结婚礼物

- B. 李某将自己名下的一栋房子送给答应给他养老的孙女
- C. 小张将自己的房间免费给他的外国朋友游玩期间住
- D. 小吴免费为外国的朋友介绍国外旅行线路和制作攻略

57. 从众：指个人的观念和行为由于群众的引导或压力，而向多数人相一致的方向变化的现象。以下不是从众现象的是（ ）。

- A. 入乡随俗
- B. 足球赛后的骚乱
- C. 暴乱中跟大家一起破坏
- D. 买彩票

58. 网络欺凌，是一种在网上生活中发生的欺凌事件，指人们利用互联网做出针对个人或群体的恶意、重复、敌意的伤害行为，使他人受到伤害。

下列属于网络欺凌现象的是（ ）。

- A. 某非法传销团伙借助网络发展下线
- B. 刘女士多次收到来自“妖孽”网友的性骚扰邮件
- C. 某足球俱乐部的球迷在网络上集体发表言论，要求主教练下课
- D. 网友们提议对“热干面”事件少女进行“人肉搜索”

59. 物体在运动中受力作用后，形状和大小不变，而且内部各点的相对位置不变或变形的程度相对于物体本身几何尺寸来说极为微小，在研究物体运动时变形就可以忽略不计时，该物体可以视作刚体。根据上述定义，下列现象中的物体可以视作刚体的是（ ）。

- A. 从地面弹起的排球
- B. 抛出去的铅球
- C. 吸水后的海绵
- D. 阳光下被晒软的路面

60. 生态旅游是指具有保护自然环境和维护当地人民生活双重责任的旅游活动。生态旅游具有两个要点：其一的物件是自然景物；其二是生态旅游的物件不应受到损害。

根据上述定义，下列属于生态旅游的是（ ）。

- A. 某电影剧组在浙江某影视基地搭建的仿古建筑群，成为了著名的旅游景点，吸引了很多人前去参观
- B. 某校爱心社组织社员到北京十渡自然风景区观光旅游并沿途清理景区垃圾
- C. 小张参加了某旅行社组织的“北京三日游活动，游览了故宫、天安门、长城、十三陵等多处著名的历史景点
- D. 经过政府的大力宣传，许多居民提高了环保意识，不遗余力地保护当地的自然景观

61. 蛋白质消化率，是指在消化道内被吸收的蛋白质占摄入蛋白的百分比，是反映食物被消化酶分解的程度以及消化后的氨基酸和肽被吸收的程度的指标。



根据上述定义，下列说法错误的是（ ）。

- A. 小明说：“氨基酸是蛋白质的组成部分。”
- B. 小兰说：“蛋白质消化率与人体内的酶没有关系。”
- C. 小花说：“蛋白质消化率与摄入蛋白质的多少有关。”
- D. 小欧说：“并不是摄入的所有的蛋白质都能被人体消化吸收。”

62. 差别待遇，是指一国给予外国人不同于本国人的待遇，或给予不同国家的外国人不同的待遇。前者一般是指给予外国人或外国法人的权利在有些方面小于本国国民或法人，但也包括有些时候给予外国人或法人某些方面超过本国国民或法人的待遇；后者是指基于地理、历史、民族等因素而给予某些国家的待遇比给予其他国家的更为优惠。

根据上述定义，下列属于差别待遇的是：（ ）。

- A. 由于制造成本的差异，甲国出口到乙国小汽车的价格低于丙国出口到乙国小汽车的价格
- B. 某国根据收入水平的差异，对身处该国的外国人和国人征收不同的个人所得税
- C. 某国因为加大从丁国的石油进口，降低向丁国进口石油的关税
- D. 为吸引外资，某国出台政策，规定外国资本到本国投资将会享受比本国企业更低的税率

63. 国家定价是指由县级（含县级）以上各级人民政府物价部门、业务主管部门按照国家规定权限制定的商品价格和收费标准。下列哪种情况属于国家定价？（ ）

- A. 近日市物价部门公布了几种主要蔬菜的最高限价
- B. 由于物价上涨，某商店把棉被的定价提高到了 50 元
- C. 市出租车公司准备将起步价上调 5 元，每公里运价保持不变
- D. 某大学对借阅图书逾期未还的读者每天每本书罚款 0.1 元

64. 自我设限是指个体针对可能到来的失败威胁，事先设置障碍，为失败创造一个合理的借口，从而保护自我价值，维护自我形象。

根据上述定义，下列属于自我设限的是（ ）。

- A. 面试失败的小周告诉朋友，他因应聘公司工资太低而不愿意签劳动合同
  - B. 小李由于没有复习好导致期中考试失利，回到家没等父亲问起便主动坦白
  - C. 英语演讲比赛前，小林说自己准备不充分，状态也不好，但最后他还是拿了冠军
  - D. 制定产品销售计划时，考虑到本月开始进入销售淡季，总经理将计划作出下降调整
65. M 理论认为，人的本性是懒惰的，工作越少越好，可能的话会逃避工作，因此管理

者需要以强迫、威胁、处罚、金钱利益等诱因激发人们消极的工作原始动力。而N理论则认为，人们有积极的工作源动力，工作是很自然的事，大部分人并不抗拒工作，即使没有外界的压力和处罚的威胁，他们一样会努力工作以期达到目的。

根据上述定义，下列符合N理论的是：（ ）。

- A. 甲主任相信，世界上根本没有什么一成不变的、普遍适用的最佳管理方式
- B. 乙经理主张：应趋向于设定严格的规章制度，注重“他律”在管理中的应用
- C. 丙科长指出：应趋向于对员工授予更大的权力，以此激发员工的工作积极性
- D. 丁厂长认为：应根据企业实际状况灵活加强对员工的管理

三、类比推理。每道题先给出一组相关的词，要求你在备选答案中找出一组与之在逻辑关系上最为贴近、相似或匹配的词。

请开始答题：

66. 话梅：酸

- A. 口红：粉色
- B. 冰棍：凉
- C. 手机：贵
- D. 猕猴桃：硬

67. 费解：理解

- A. 凝结：溶解
- B. 美丽：大方
- C. 行动：运动
- D. 打仗：战争

68. 苹果：平安

- A. 儿童：花朵
- B. 相思：红豆
- C. 书籍：阶梯
- D. 鸽子：和平

69. 纸：砚

- A. 松：竹
- B. 钟：水杯
- C. 笔筒：铅笔
- D. 金：沙

70. 子弹：枪膛

- A. 火箭：发射
- B. 弹簧球：弹力
- C. 长矛：盾牌
- D. 炮弹：炮筒

71. 如果“工作”相对于“挣钱”，那么“床”相对于（ ）

- A. 睡觉
- B. 卧室
- C. 木头
- D. 家具

72. 钢笔：文具

- A. 美元：货币  
B. 南瓜：水果  
C. 药品：刮痧  
D. 健身：跳绳

73. 莫高窟：敦煌

- A. 中山陵：南京  
B. 白公馆：成都  
C. 嵩山：河北  
D. 翠湖：济南

74. 电影：观众

- A. 小说：读者  
B. 村长：民工  
C. 领导：下级  
D. 汽车：轮胎

75. 遥远：附近

- A. 高大：矮小  
B. 魁梧：健康  
C. 喜欢：热爱  
D. 罗曼蒂克：浪漫

四、逻辑判断。每道题给出一段描述，这段陈述被假设是正确的，不容置疑的。要求你根据这段描述，选择一个答案。

请开始答题：

76. 一个人要受人尊敬，首先必须保持自尊；一个人，只有问心无愧，才能保持自尊；而一个人如果不恪尽操守，就不可能问心无愧。

以下哪项结论可以从题干的断定中推出？（ ）

- I. 一个受人尊敬的人，一定恪尽操守。  
II. 一个问心有愧的人，不可能受人尊敬。  
III. 一个恪尽操守的人，一定保持自尊。
- A. 只有I和II  
B. 只有I和III  
C. 只有II和III  
D. I、II和III

77. 调查显示，相对于不会玩国际象棋的孩子，喜欢下国际象棋的孩子的学习成绩要好很多。因此下国际象棋有助于提高学生的学习成绩。

以下哪个如果正确，最能削弱上述结论？（ ）

- A. 学习成绩好的孩子才能得到老师的允许学习国际象棋  
B. 下国际象棋能缓解孩子的学习压力，缓解对学习的厌倦情绪  
C. 学习成绩好的学生国际象棋也玩得好  
D. 国际象棋下的好的学生会得到老师的喜欢，就会提高学习成绩

78. 在消化过程中分解为糖的食物是人体血液内葡萄糖的来源，饮用咖啡后，在消化过程中并不能分解为糖。然而，有时人饮用不加糖和奶的咖啡后，也会引起血液葡萄糖的大量增加。

以下哪项帮助解释咖啡对血液葡萄糖水平的作用？（ ）

A. 人们常常在服食某些食物后饮食咖啡，这些食物在消化过程中可迅速地分解为葡萄糖

B. 饮用超过两杯咖啡会增加人体压力，人体对压力的反应包括释放储存的葡萄糖进入血液

C. 服食含少量细糖食物的人比服食含大量细糖食物的人的血葡萄糖水平要高

D. 对许多人而言，服食一块巧克力饼干与饮用一杯咖啡有相同的刺激作用

79. 中国医师协会近日发布的《中国医师执业状况白皮书》显示，65.9%的被调查医师对自己的收入不满，很多医师认为提高医师合法收入对治理红包、回扣，以及缓解医患关系紧张都能起到积极作用。

以下哪项为真，将严重削弱上述白皮书调查结果的正确性？（ ）

A. 高收入能够吸引更好的人才进入医学领域，提高疾病治愈率

B. 研究表明，对于高收入的期望不会因为加薪而停止

C. 部分公务员在经历减薪后工作积极性受挫，办事满意度下降

D. 根据医生的资历和技能，提供有竞争力的薪酬，能够提高医生的工作积极性

80. 张三、李四、赵五都新买了汽车，汽车的牌子是奇瑞、吉利、比亚迪，他们让陈六猜他们各自买的是什么牌子的车。陈六猜道：“张三买的是奇瑞车，赵五买的不是比亚迪车，李四买的不是奇瑞车。”事实上，陈六的上述猜想，只对了一个。

由上述断定，可推出以下哪项结论？（ ）

A. 张三买的是吉利，李四买的是奇瑞，赵五买的是比亚迪

B. 张三买的是奇瑞，李四买的是比亚迪，赵五买的是吉利

C. 张三买的是奇瑞，李四买的是吉利，赵五买的是比亚迪

D. 张三买的是比亚迪，李四买的是奇瑞，赵五买的是吉利

81. 以前有调查显示，食用海鲜过多会导致痛风，而最新的研究结果表明，食用海鲜与痛风之间没有必然的因果联系。估计此项研究将增加海鲜的食用量。

上述推论基于以下哪项假设？（ ）

A. 人们从未因担心痛风而少食用海鲜

- B. 人们从未相信海鲜会导致痛风的说法
- C. 以前很多人食用海鲜是因为没听说过海鲜会导致痛风
- D. 以前很多人不食用海鲜正是因为担心引发痛风

82. 科学家假设，一种特殊的脂肪，即“p-脂肪”，是视力发育形成过程中所必需的。科学家观察到，用含 P-脂肪低的配方奶喂养的婴儿比母乳喂养的婴儿视力要差，而母乳中 P-脂肪的含量高，于是他们提出了上述假说。此外还发现，早产 5-6 周的婴儿比足月出生的婴儿视力要差。

如果以下哪一项陈述为真，最能支持上述科学家的假设？（ ）

- A. 胎儿只是在妊娠期的最后四周里加大了从母体中获取的 P-脂肪的量
- B. 日常饮食缺乏 P-脂肪的成年人比日常饮食中 P-脂肪含量的成年人视力差
- C. 胎儿的视力是在妊娠期的最后 3 个月中发育形成的
- D. 母亲的视力差并不导致婴儿的视力差

83. 最近的一项研究报告中显示，久坐或会影响大脑健康。研究人员指出，将大脑暴露于高水平葡萄糖和低水平葡萄糖条件下将会增加个体罹患相关疾病的风险，可见，对葡萄糖进行严格控制对于大脑健康非常必要。因此，需要通过减少久坐并以低强度步行的方式替代久坐，这样或许能够改善人们饭后的机体血糖控制水平，使得机体葡萄糖水平不会升得太高也不会降得太低，从而帮助维持机体葡萄糖在一个最佳的范围内。

以下各项如果为真，最能支持上述观点的是（ ）。

- A. 大脑是一个葡萄糖“饥饿”的器官，脑细胞中葡萄糖的可用性会对大脑健康产生一定影响
- B. 降低坐着的时间或许会减缓机体认知功能下降的速度，但并不会逐步改善
- C. 久坐会损伤机体中与任务处理相关的记忆表现，从而会导致大脑可能出现大脑的认知功能障碍
- D. 步行或运动对脚的影响会通过血管发送压力波，进而增加大脑中的血流量，从而有益健康

84. 如果你的住房是 2006 年以后的新建楼房，那就带有外墙保温层。

由此可推出（ ）。

- A. 只有 2006 年以后新建的楼房才带有外墙保温层
- B. 所有 2006 年以后新建的楼房都带有外墙保温层
- C. 有些 2006 年以前新建的楼房也带有外墙保温层

D. 所有 2006 年以前新建的楼房都不带有外墙保温层

85. 李工程师：农科院最近研制了一种高效杀虫剂，通过飞机喷洒，能够大面积地杀死农田中的害虫。

张研究员：我看使用这种杀虫剂未必能达到保护农作物生长的目的，甚至可能适得其反，因为这种杀虫剂在杀死害虫的同时，也杀死了农田中的各种益虫。

李工程师：你的观点缺乏说服力，因为我们之所以要保护益虫，就在于它能消灭危害农作物的害虫，而我们的杀虫剂起到了这个作用。

以下哪项如果为真，最能加强李工程师对张研究员观点的反驳？（ ）

- A. 一般地说，害虫的生长繁殖能力和速度要高于益虫
- B. 上述杀虫剂对人畜无害
- C. 害虫比益虫更容易获得对于杀虫剂的抗药性
- D. 上述杀虫剂的有效率，在同类产品中是最高的

## 第五部分 资料分析

（共 15 题，参考时限 15 分钟）

所给出的图、表、文字或综合性资料均有若干个问题要你回答。你应根据资料提供的信息进行分析、比较、计算和判断处理。

一、根据下列资料，回答 86-90 题。

经核算，2017 年全国文化及相关产业增加值为 34722 亿元，占 GDP 的比重为 4.2%，比上年提高 0.6 个百分点；按现价计算（下同），比上年增长 12.8%。2017 年文化及相关产业增加值保持平稳快速增长，占 GDP 比重稳步上升，在加快新旧动能转换、推动经济高质量发展中发挥了积极作用。

按行业分，2017 年文化制造业增加值为 12094 亿元，比上年增长 1.7%，占文化及相关产业增加值的比重为 34.8%；文化批发零售业增加值为 3328 亿元，增长 15.9%，占比为 9.6%；文化服务业增加值为 19300 亿元，增长 20.4%，占比为 55.6%。

按活动性质分，文化核心领域创造的增加值为 22500 亿元，比上年增长 14.5%，占文化及相关产业增加值的比重为 64.8%；文化相关领域创造的增加值为 12222 亿元，增长 9.8%，占比为 35.2%。

2017年文化及相关产业增加值

类别名称	绝对额（亿元）	构成占比（%）
<b>文化及相关产业</b>	<b>34722</b>	<b>100.0</b>
<b>第一部分 文化核心领域</b>	<b>22500</b>	<b>64.8</b>
一、新闻信息服务	4864	14.0
二、内容创作生产	7587	21.9
三、创意设计服务	4537	13.1
四、文化传播渠道	2896	8.3
五、文化投资运营	190	0.5
六、文化娱乐休闲服务	2426	7.0
<b>第二部分 文化相关领域</b>	<b>12222</b>	<b>35.2</b>
七、文化辅助生产和中介服务	5973	17.2
八、文化装备生产	1981	5.7
九、文化消费终端生产	4268	12.3

注：绝对额按当年价格计算。

86. 按不同行业划分,2017年文化及相关产业增加值增速由高到低排序正确的是( )。

- A. 文化制造业,文化服务业,文化批发零售业
- B. 文化服务业,文化金融业,文化制造业
- C. 文化服务业,文化批发零售业,文化制造业
- D. 文化批发零售业,文化服务业,文化制造业

87. 2017年全国GDP值约为( )亿元。

- A. 80.3万
- B. 82.6万
- C. 85.5万
- D. 88.3万

88. 2017年文化相关领域创造的增加值较前一年增加了多少亿元?( )

- A. 1091
- B. 1280
- C. 1432
- D. 1589

89. 2017年文化六大核心领域中,增加值相差最大为( )。

- A. 7542亿元
- B. 6387亿元
- C. 7397亿元
- D. 6966亿元

90. 能够从上述资料中推出的是( )。

- A. 2015年全国文化及相关产业增加值占当年GDP比重为3.6%
- B. 内容创作生产相关行业未来发展前景最好
- C. 2017年文化服务业增加值高于另外两个行业增加值之和

D. 2017 年全国文化及相关产业增加值占 GDP 比重低于上一年

二、根据以下资料，回答 91~95 题。

2018 年，全国居民人均可支配收入 28228 元，比上年名义增长 8.7%，扣除价格因素，实际增长 6.5%，增速扩大 0.3 个百分点。全国居民人均消费支出 16402 元，比上年名义增长 8.7%，扣除价格因素，实际增长 6.5%，增速收窄 0.3 个百分点。

表 1 2018 年全国居民收支主要数据

指标	绝对量（元）	比上年增长（%）
（一）全国居民人均可支配收入	28228	8.7
按常住地分：		
城镇居民	39251	7.8
农村居民	14617	8.8
（二）全国居民人均消费支出	16402	8.4
按常住地分：		
城镇居民	22112	6.8
农村居民	10692	10.7
按消费类别分：		
食品烟酒	5631	4.8
居住	4647	13.1
生活用品及服务	1223	9.1
交通通信	2675	7.1
教育文化娱乐	2226	6.7

表 2 2018 年城乡居民收支主要数据

指标	绝对量（元）	比上年增长（%）
（一）城镇居民人均可支配收入	39251	7.8
按收入来源分：		
工资性收入	23792	7.2
经营净收入	4443	9.3
财产净收入	4028	11.7
转移净收入	6988	7.1
（二）农村居民人均可支配收入	14617	8.8
按收入来源分：		
工资性收入	5996	9.1
经营净收入	5358	6.6
财产净收入	342	12.9
转移净收入	2920	12.2
（三）农村居民人均消费支出	10019	10.7
按消费类别分：		



食品烟酒	3646	6.7
居住	2661	13.0
生活用品及服务	720	13.6
交通通信	1690	12.0
教育文化娱乐	1302	11.1

91. 按实际增长率算，2017年全国居民人均可支配收入约为（ ）

- A. 22307
- B. 23816
- C. 25132
- D. 26505

92. 根据表1，2018年，农村居民人均可支配收入按收入来源划分，增速高于全国居民人均可支配收入的有几个？（ ）

- A. 1个
- B. 2个
- C. 3个
- D. 4个

93. 若增速保持不变，2016年全国居民人均生活用品及服务支出约为多少？（ ）

- A. 1019元
- B. 1125元
- C. 1197元
- D. 1300元

94. 2017年农村居民人均消费支出占比最大的消费途径为（ ）。

- A. 食品烟酒
- B. 交通通信
- C. 居住
- D. 教育文化娱乐

95. 能够从上述资料中推出的是（ ）。

- A. 2017年全国人均可支配收入实际增长幅度大于全国人均消费支出
- B. 2018年城镇居民人均储蓄（收入-支出）高于农村居民
- C. 2017年农村居民工资性收入占全国居民可支配收入的比重低于财产净收入
- D. 2018年农村居民在食品烟酒上的支出占农村居民人均消费支出的比重近三成

**三、根据以下资料，回答96~100题。**

2017年，全年粮食种植面积11222万公顷，比上年减少81万公顷。其中，小麦种植面积2399万公顷，减少20万公顷；稻谷种植面积3018万公顷，减少0.2万公顷；玉米种植面积3545万公顷，减少132万公顷。棉花种植面积323万公顷，减少12万公顷。油料种植面积1420万公顷，增加7万公顷。糖料种植面积168万公顷，减少1万公顷。

2017年，全年粮食产量61791万吨，比上年增加166万吨，增产0.3%。其中，夏粮产量14031万吨，增产0.8%；早稻产量3174万吨，减产3.2%；秋粮产量44585万吨，增产

0.4%。全年谷物产量 56455 万吨，比上年减产 0.1%。其中，稻谷产量 20856 万吨，增产 0.7%；小麦产量 12977 万吨，增产 0.7%；玉米产量 21589 万吨，减产 1.7%。全年棉花产量 549 万吨，比上年增产 3.5%。油料产量 3732 万吨，增产 2.8%。糖料产量 12556 万吨，增产 1.7%。茶叶产量 255 万吨，增产 6.0%。

2017 年，全年猪牛羊禽肉产量 8431 万吨，比上年增长 0.8%。其中，猪肉产量 5340 万吨，增长 0.8%；牛肉产量 726 万吨，增长 1.3%；羊肉产量 468 万吨，增长 1.8%；禽肉产量 1897 万吨，增长 0.5%。禽蛋产量 3070 万吨，下降 0.8%。牛奶产量 3545 万吨，下降 1.6%。年末生猪存栏 43325 万头，下降 0.4%；生猪出栏 68861 万头，增长 0.5%。



2013-2017 年粮食产量

96. 2017 年，下列农作物中，单位面积产量最高的是（ ）。

- A. 小麦
- B. 稻谷
- C. 玉米
- D. 棉花

97. 2017 年，下列农作物种植面积缩减速度最快的是（ ）。

- A. 小麦
- B. 稻谷
- C. 玉米
- D. 糖料

98. 2017 年，下列农作物中增产量最高的是（ ）。

- A. 小麦
- B. 稻谷
- C. 玉米
- D. 棉花

99. 2017 年，下列农作物单位面积产量由高到低排列正确的是（ ）。

- A. 小麦，稻谷，玉米，棉花

- B. 棉花，玉米，小麦，稻谷
- C. 玉米，稻谷，小麦，棉花
- D. 稻谷，玉米，小麦，棉花

100. 能够从上述资料中推出的是（ ）。

- A. 2013 至 2017 年，粮食产量呈逐年上升趋势
- B. 2016 年全年，猪牛羊禽肉产量约为 7000 万吨
- C. 2016 年粮食产量为负增长
- D. 2017 年糖料产量是早稻产量的 5 倍

## 行政能力倾向测验二参考答案

1. C 【解析】《关于坚持和发展中国特色社会主义的几个问题》的文章强调，道路问题是关系党的事业兴衰成败第一位的问题，道路就是党的生命。中国特色社会主义，是科学社会主义理论逻辑和中国社会发展历史逻辑的辩证统一，是根植于中国大地、反映中国人民意愿、适应中国和时代发展进步要求的科学社会主义，是全面建成小康社会、加快推进社会主义现代化、实现中华民族伟大复兴的必由之路。AB 两项表述正确。该文章指出，历史和现实都告诉我们，只有社会主义才能救中国，只有中国特色社会主义才能发展中国，这是历史的结论、人民的选择。C 项表述错误。该文章指出，我们党领导人民进行社会主义建设，有改革开放前和改革开放后两个历史时期，这是两个相互联系又有重大区别的时期，但本质上都是我们党领导人民进行社会主义建设的实践探索。D 项表述正确。故本题选择 C。

2. B 【解析】习近平在与内蒙古代表团审议时指出，在“五位一体”总体布局中生态文明建设是其中一位，在新时代坚持和发展中国特色社会主义基本方略中坚持人与自然和谐共生是其中一条基本方略，在新发展理念中绿色是其中一大理念，在三大攻坚战中污染防治是其中一大攻坚战。这“四个一”体现了我们党对生态文明建设规律的把握，体现了生态文明建设在新时代党和国家事业发展中的地位，体现了党对建设生态文明的部署和要求。故本题的正确答案为 B 项。

3. A 【解析】本题考查的是《治安管理处罚法》的内容。A 项，《治安管理处罚法》第七十五条规定：饲养动物，干扰他人正常生活的，处警告；警告后不改正的，或者放任动物恐吓他人的，处 200 元以上 500 元以下罚款。驱使动物伤害他人的，处 10 日以上 15 日以下拘留，并处 500 元以上 1000 元以下罚款。故 A 项正确，当选。

B 项，不可抗力主要包括以下几种情形：（1）自然灾害，如台风、洪水、地震等；（2）政府行为，如征收、征用；（3）社会异常事件，如罢工、骚乱。猎犬半夜吠叫不属于不可抗力，故 B 项错误，排除。

C 项，《行政处罚法》第四十五条规定：当事人对行政处罚决定不服申请行政复议或者提起行政诉讼的，行政处罚不停止执行，法律另有规定的除外。故 C 项错误，排除。

D 项，《治安管理处罚法》第九十一条规定：治安管理处罚由县级以上人民政府公安机关决定；其中警告、五百元以下的罚款可以由公安派出所决定。故 D 项说法错误，排除。故本题正确答案为 A 项。

4. C【解析】本题考查劳动法适用范围。根据《劳动法》第二条规定：在中华人民共和国境内的企业、个体经济组织和与之形成劳动关系的劳动者，适用本法。C项属于劳务关系，不适用《劳动法》。劳务关系是由两个或两个以上的平等主体，通过劳务合同建立的一种民事权利义务关系。该合同可以是书面形式，也可以是口头形式和其它形式。其适用的法律主要是《中华人民共和国合同法》。故该题选择C。

5. A【解析】本题考查世界著名海峡。白令海峡位于亚欧大陆最东点的迭日涅夫角和美洲大陆最西点的威尔士王子角之间，约85千米宽，最窄处约37千米，深度在30-50米之间。海峡连接楚科奇海和白令海。名字来自丹麦探险家的维他斯·白令，他于1728年在俄国军队任职时穿过白令海峡，第一次穿过北极圈和南极圈。白令海峡既是俄罗斯和美国的国界线，也是亚洲和北美洲的分界线。故本题选择A。

6. C【解析】本题考查名家绘画代表作品。A项，《秋风纨扇图》由明朝唐寅创作，画中描绘了立有湖石的庭院，一仕女手执纨扇，侧身凝望，眉宇间微露幽怨怅惘神色。作品现藏于上海博物馆。选项对应正确，不符合题意，排除。B项，《愚公移山》是徐悲鸿在1940年左右抗战时期创作的作品。该画取材于《列子·汤问》中的一个神话传说。选项对应正确，不符合题意，排除。C项，《最后的晚餐》是意大利艺术家列奥纳多·达·芬奇于1494年~1498年所创作。拉斐尔的代表作是《西斯廷圣母》等，选项对应错误，符合题意，当选。D项，《向日葵》是荷兰画家梵高在阳光明媚灿烂的法国南部所作。是梵高最典型的最具代表性的作品。选项对应正确，不符合题意，排除。故本题的正确答案是C项。

7. C【解析】本题考查国粹常识。

A项，中国画基本上可以分为三大类：人物画、山水画、花鸟画。故A项说法错误，排除。

B项，五脏指肝、心、脾、肺、肾。故B项说法错误，排除。

C项，京剧表演四项基本功是：唱、念、做、打。说法正确，当选。

D项，京剧中“净”俗称花脸，大多是扮演性格、品质或相貌上有些特异的男性人物。化妆用脸谱，音色洪亮，风格粗犷。“旦”是女性角色的统称。故D项说法错误，排除。本题的正确答案为C项。

8. A【解析】本题考查纪年法。A项，辛丑年（1901）过后十年是辛亥年（1911），A项说法正确，当选。B项，罗马共和国是在公元前6世纪末建立的。故B项错误，排除。C项，康熙帝6岁登基，登基那一年为康熙元年。故康熙五十年时康熙皇帝56岁，C项说法错误，排除。D项，中华民国二十七年是1938年，全面抗战是1937年七七事变为标志。故

D项说法错误，排除。本题的正确答案为A项。

9.A【解析】本题考查文学常识。蒲松龄的《聊斋志异》是我国第一部个人创作的文言短篇小说集。它们或者揭露封建统治的黑暗，或者抨击科举制度的腐朽，或者反抗封建礼教的束缚，具有丰富深刻的思想内容。故本题选择A项。

10.D【解析】根据《全国人民代表大会常务委员会关于实行宪法宣誓制度的决定》可知，作出该决定的是全国人民代表大会常务委员会，A正确。根据《决定》一、各级人民代表大会及县级以上各级人民代表大会常务委员会选举或者决定任命的国家工作人员，以及各级人民政府、监察委员会、人民法院、人民检察院任命的国家工作人员，在就职时应当公开进行宪法宣誓，B正确。根据《决定》八、宣誓仪式根据情况，可以采取单独宣誓或者集体宣誓的形式，C正确。根据《决定》三、全国人民代表大会选举或者决定任命的中华人民共和国主席、副主席，全国人民代表大会常务委员会委员长、副委员长、秘书长、委员，国务院总理、副总理、国务委员、各部部长、各委员会主任、中国人民银行行长、审计长、秘书长，中华人民共和国中央军事委员会主席、副主席、委员，国家监察委员会主任，最高人民法院院长，最高人民检察院检察长，以及全国人民代表大会专门委员会主任委员、副主任委员、委员等，在依照法定程序产生后，进行宪法宣誓。宣誓仪式由全国人民代表大会会议主席团组织，D错。是主席团组织而不是委员长。故本题的正确答案为D项。

11.B【解析】A项，心脏是人和脊椎动物身体中最重要的一个器官，主要功能是提供压力，把血液运行至身体各个部分。故A项表述正确，排除。

B项，人类的心脏位于胸腔中部偏左。故B项表述错误，当选。

C项，心脏由心肌构成，左心房、左心室、右心房、右心室四个腔组成。故C项表述正确，排除。

D项，人体心脏体积约相当于一个拳头大小，重量约350克。女性的心脏通常要比男性的体积小且重量轻。故D项表述正确，排除。故本题正确答案为B项。

12.B【解析】力的作用是相互的，所以两列火车受到的冲击力一样大。故B项正确，当选。ACD项错误，排除。故本题正确答案为B项。

13.B【解析】在反应过程中，催化剂的特点：“一变两不变”，一变：改变化学反应速率；两不变：质量和化学性质不变。但是物理性质有可能改变，B项说法过于绝对。故本题选B。

14.A【解析】无性生殖的生物不进行减数分裂。故A说法错误。故本题答案为A。

15.C【解析】本题考查科技常识。A项，首个发射载人空间站的是前苏联。排除。B

项，航空航天技术使人类文明进入三维时代。航空是大气层内的飞行活动，航天是穿越大气层的飞行活动。航空技术与航天技术并非同一种技术，排除。C项，根据射程，火箭一般可分为近程、中程、远程和洲际火箭，当选。D项，中国第一艘载人航天飞船是神舟五号（载的是杨利伟）。排除。故本题选择C项。

16. B【解析】本题考查物理常识。A项，电饭煲和电炒锅是将电能直接转化成热能，但是微波炉是电能转化成电磁能再转化成内能，故A项说法错误，排除；B项，在菜刀的刀刃上抹油，是为了让油起润滑作用，以减少摩擦力使菜不会贴在菜刀上，说法正确，当选；C项，冬天往玻璃杯中倒开水，致使杯子破裂是由于热胀冷缩，当内层玻璃先受热，发生胀了，但她的外层还是冷的，导致玻璃杯不均膨胀。外层玻璃被挤碎。玻璃属于非晶体，没有熔点，其融化点为600摄氏度，故C项错误，排除；D项，往保温瓶里倒开水，能根据声音来判断水量的高低是因为由于水量增多，空气柱的长度减小，振动频率增大，音调升高，故D项说法错误，排除。故本题选择B。

17. B【解析】“五岳”分别是东岳泰山（海拔1545米，位于山东省泰安市泰山区）、南岳衡山（海拔1300.2米，位于湖南省衡阳市南岳区）、西岳华山（海拔2154.9米，位于陕西省渭南市华阴市）、北岳恒山（海拔2016.1米，位于山西省大同市浑源县）、中岳嵩山（海拔1491.7米，位于河南省郑州市登封市郊）。泰山和嵩山曾经是封建帝王仰天功之巍巍而封禅祭祀的地方，更是封建帝王受命于天，定鼎中原的象征。而庐山位于江西省九江市，以雄、奇、险、秀闻名于世，素有“匡庐奇秀甲天下”之美誉。A项错误。

散布在南海上的岛屿、礁、滩总称南海诸岛，为中国最南的岛屿群，依照位置不同称为东沙群岛、西沙群岛、中沙群岛和南沙群岛。B项正确。

新疆维吾尔自治区简称新疆或新。位于我国西北部，地处欧亚大陆中心。面积166多万平方公里，约占全国面积的1/6，是我国面积最大的一个省区，是我国边境线最长、对外口岸最多的一个省区。C项错误。

东北平原是中国面积最大的平原，在东北地区的中部。它包括三江平原、松嫩平原和辽河平原，是我国北方著名的“粮仓”和畜牧基地。D项错误。故本题答案为B。

18. B【解析】A项，豆腐是一种以黄豆为主要原料的食物，起源于中国，在越南、日本和朝鲜半岛也很普遍。A正确。B项，豆腐一般不能与菠菜一起吃，这是由于两者之间会发生化学反应。豆腐是生豆浆中加入盐卤或石膏做成的，盐卤中含有氯化镁，石膏中也有硝酸钙，而菠菜中含有很多草酸，草酸对人体没有好处，而且它能与氯化镁、硫酸钙发生化学反应，生成不溶于水的草酸镁或草酸钙等白色沉淀，因钙质是人体很需要的养料，一旦变成

不溶于水的沉淀后人体就不能吸收了。B 错误。C 正确，豆腐可以防治心血管疾病。D 正确，卤水点豆腐利用了电解质使胶体沉淀的过程，卤水中的电解质使得豆浆沉淀。因此，本题选择 B。

19. D 【解析】本题考查科技常识。本题题意是选出错误的选项。A 项表述正确，绿色植物进行的光合作用是将太阳能转化为化学能“贮存”起来的过程，排除；B 项表述正确，化石能源是短期内不能从自然界得到补充的能源，所以是不可再生能源，排除；C 项表述正确，汽车采用天然气作为燃料可以减少对大气的污染，天然气的主要成分是甲烷，由于天然气比较纯净，燃烧后无积炭；省钱，同样体积的压缩天然气跑的路程跟同体积的汽油差不多，最主要的是燃烧产物对环境对污染小。排除；D 项表述不正确，物质的化学能是在不同条件下发生反应，如燃料燃烧放出的热量，原电池反应提供电能，镁燃烧发出耀眼的白光，转为热能、电能、光能等为人类所利用，但非任何情况下。当选。故本题选择 D。

20. D 【解析】A 项，深色比浅色更能吸收太阳的热辐射，所以夏天不宜穿深色衣服。故 A 正确。B 项，昆明的纬度比常州低，太阳的辐射角度大，所以楼间距会更小。故 B 正确。C 项，由于酒精的凝固点低，在-10 度左右时水会结冰而酒精不会凝固，所以洗玻璃时挥发快，清洗效果更好。故 C 正确。D 项，饭后服用驱虫药，人的肠胃吸收功能旺盛，药物会被人体大量吸收，与虫体接触减少，杀虫效果不佳。故 D 错误，当选。故本题的正确答案为 D。

21. B 【解析】逻辑填空题。第一空前文给出东南亚菜品的口味酸辣刺激味蕾，应该是让人忍不住品尝。首先排除与吃无关的“拍案叫绝”，再排除不好吃的“食不甘味”，食不甘味一般形容心里有事或身体不好，吃东西也不香。剩下 A、B 对比，“狼吞虎咽”是吃的着急，“大快朵颐”是吃的痛快，文中没有着急的意思，故排除 A。第二空带入验证，“翘楚”比喻杰出的人才或事物，符合文意。

22. B 【解析】逻辑填空题。第一空，“起动”指东西开始运动、运转起来，“启动”则是指法令、规划、方案等开始实施，文中应该是指让计划开始进行的资金，排除 A、D 项，第三空，动词要同时搭配工作和生活条件，“改进”侧重于使其进步，“改善”则是侧重于使其变好，根据文段意思，这里应该是让教师工作、生活环境或条件更好一些，排除 C 项，接下来验证第四空，“首例”即第一例，对应“创新”，故本题答案为 B 选项。

23. D 【解析】逻辑填空题。“聚集”侧重强调把分散的集中到一起，而“凝聚”则强调凝结，文段中要和“精神财富”搭配，并没有从分散到集中的语义，“凝聚”更符合文义，排除 AC 选项。第三个空要选一个词和“文化基因”搭配，意为把文化代代相传，显然要用



“继承”，“承接”意为“承担、接受”，排除 B 项，故正确答案为 D 选项。

24. A 【解析】逻辑填空题。文段表述了现在语文课教学中存在铺垫过于复杂，避重就轻的问题。第一个空根据形容老师导入环节上花的心思比较多。“费尽心机”和“呕心沥血”两词语义过重，排除 BD 两项。根据第一句话可知文段强调的是课程导入要简捷，批评的是现在的课程导入设计方面太多，因此“繁琐”更符合文意，“琐碎”强调细小散碎。因此正确答案为 A。

25. A 【解析】逻辑填空题。恐惧是主动词，“引起”和“恐惧”搭配不当，且“恐惧”的语义过重，排除 C。“麻烦”是指小的问题或事故，而文段只是说欧盟各国感觉可能要受到威胁，只是一种预测，还没有带来真正的影响，不能用“麻烦”，排除 D。“震动”一般指重大的事情、消息等使人内心不平静。文中并没有体现人内心的不平静，排除 B。震惊指因受到意外刺激而感到吃惊、紧张、害怕，由提示句“认为欧盟的能源安全随时可能要受到威胁”可知欧盟国家很吃惊，因此选 A 最恰当。

26. B 【解析】逻辑填空题。文段的意思是说不能因为国家关系就对侵略行为放任或忍让。“不管不顾”意为对人不照料，也指举动莽撞，不顾及别人感受或处境，不符合文段意思，排除 A。“姑息迁就”指毫无原则的迁就、宽恕，不加以正确引导，放任他人的行为，符合文义，当选。“坐视观望”只能体现观望，不加以干涉，语义程度较轻，排除 C。“漠然处之”强调冷漠，无动于衷，文段并没有强调主观上的冷漠，不符合文义，排除 D。此题选择 B 项。

27. B 【解析】逻辑填空题。根据转折关联词“却”可知文段是对过去与现在状态的比较，前后应该填一组反义词，只有“妄自尊大”和“妄自菲薄”前后语义相反，因此本题选 B。

28. C 【解析】逻辑填空题。根据语境“千万别走”、“千万别当”可知空格填入一个用来形容网红并且是不提倡该做法的词语。“抱残守缺”一般形容思想保守，不求改进，不符合文义。“贻笑大方”形容不懂装懂，结果内行的人取笑，也不符合文义。“外强中干”形容表面强大，但实际能力低下，不符合，排除。“哗众取宠”意为用浮夸的言行迎合众人，以博取众人的好感或拥护，符合文义，突出网红通过怪异的行为，获取关注。选择 C 项。

29. A 【解析】逻辑填空题。考查的搭配关系，第一个空要和“文化遗产”搭配，“发扬”一般和“优良作风、传统”搭配使用，排除 C。第二空和“传统手工艺产品、非物质文化遗产”以及“当代生活”，意为和当代生活结合在一起，属于抽象性表达，“流入”和“流入”一般用于具体性的表达，排除 BD，选 A。

30. A 【解析】逻辑填空题。第一个空根据语境“炫富”、“迎合”这些消极表达，排除 C 的“发展”，“发展”属于中性偏积极的词。然后根据第二空和第三空之间是递进关系，可知前后语义程度加深，同时第三空的内容需要和“迷失自我”构成并列。只有 A 中的“忘乎所以”比“沾沾自喜”程度更重，选 A。B 项的后两个词语义程度由重到轻，排除；D “得意洋洋”“趾高气扬”程度相当，且没有和“迷失自我”构成并列关系，排除。此题正确答案为 A。

31. D 【解析】主旨概括题。本题考查考生通过分析行文脉络找重点的知识点。文段是“分-分”结构，分别阐述了不同科学家对于动物如何确定迁徙路线这个问题的观点，且这些观点都不一样，说明还没有定论，故选 D。A 是对“有科学家认为，迁徙动物都有独特的‘助航设施’”概括，B 是对“也有科学家认为，迁徙动物身体中存在磁受体”的概括，C 是对“又有科学家发现即使是室内饲养的从未接触过其他同伴的年轻乌鸦已经从上一代遗传了迁徙的方向”的概括，ABC 都是分述内容中某一类科学家观点的表述，是片面的表述，因此排除，选择 D 项。

32. B 【解析】主旨概括题。本题考查考生通过分析行文脉络找重点的知识点。文段首句为背景铺垫，引出电子垃圾缺乏回收利用的这一话题；接着讲到电子垃圾存在回收难的问题，并分析了问题出现的原因。文段为“分-总-分”结构，主要讲述的是电子产品回收难的问题，故选 B。A 在“虽然目前的技术可用于从电子垃圾中回收贵重材料”提到，但是在对回收难问题原因解释中的阐述，非重点；C、D 并未在文中提及，因此排除 ACD。

33. D 【解析】意图判断题。分析文段，找重点。文段前三句主要告诉我们“人们目光局限在现实生活中，对数字以及宇宙都很麻木”。接下来引出重点句“科幻的使命”，随后由“如果”引导例子来说明科幻小说怎样完成“科幻使命”。对比选项，A 项“人们受现实局限，对宇宙麻木”是对前文概括，未涉及“科幻”，B 项“要打破局限就要时不时的抬头看看天空”不是文段重点，C 项“科幻小说很容易成功”是原文举例部分，而且原文是说科幻小说成功的一个情况，排除，D 项“科幻可以在一定意义上拓宽人们的思想”这是原文表述的“科幻的使命”。故选答案 D。

34. D 【解析】主旨概括题。本文首先引出话题，讲到在社会生活和科学研究中存在大量模糊的东西，接着讲到作者起初对于该观点的疑惑，后来举例说明读了相关文章后了解到模糊数学，觉得其是个了不起的发现，认可了模糊性事物存在及其意义；最后再次重申观点，承认社会生活和科学研究中存在模糊性是有好处的。本文为“总-分-总”结构，重在强调承认模糊性的必要性，故选 D。文中并没有将社会生活和科学研究中或社会科学和自然科学中

的模糊性进行比较，因此 AB 错误，排除。C 选项的说法在文中并未提及，属于无中生有，排除。故本题选择 D 项。

35. D 【解析】主旨概括题。本文段为一则新闻短讯，首句为文段重点，即科大讯飞有望携手合肥轨道交通 2 号线提供语音售票服务，后文对语音售票进行了解释，并说明了语音售票实现的可能性及其作用，故选 D。A 阐述的是实现语音售票后的意义作用，属于分述内容，非重点；B 属于偷换概念，文段主要讲述的是“语音售票服务”，而不是“打造智能高铁”；C 在文中未提及，属于无中生有，因此排除 ABC，选择 D 项。

36. D 【解析】意图判断题。首先分析文段，找出重点。文段第一句说明了“人大代表”的来源以及在“党和国家与人民群众”之间的纽带作用。第二句“要把密切联系人民群众作为履行代表职责的基本要求，认真履行人大代表的各项职责”，第三句“自觉接受人民监督”，综合全段重点说“人民代表与人民群众之间密不可分的关系”应与人民群众紧密联系。观察选项，A、B、C 项分别对应“人民代表”与“人民群众”之间密切关系的一种，D 项表述“人大代表应密切联系人民群众，更好发挥代表作用”符合文段重点。故选 D。

37. C 【解析】语句衔接题。根据文段可以知道，大型游乐公园有“现场表演”和“公园餐馆”两个经营项目，并且前一个项目是为后一个项目服务的，即通过现场表演来引导人群的流动，在尽可能多的时间里最大限度地发挥餐馆的作用，C 是正确答案。其余各项均未谈到“现场表演”和“公园餐馆”的关系，并且其他选项所断定的都是现场表演的可能目的，但都不是题干所陈述的现场表演的直接目的。

38. B 【解析】语句排序题。首先观察选项、确定首句，本题首句不好确定，从“关联验证”的角度解题。①、③都谈到“自我欺骗”，话题一致，并且①的“自我欺骗”前出现代词“这种”，前后有所指代，故③在①之前，即③①，由此排除 A、D。④谈“虚假自信”，②谈“真正的自信者”，②是对④的转折，话题一致，故④、②放一起，且④在②之前，故排除 C 项，选择 B 项。

39. D 【解析】语句排序题。首先观察选项、确定首句：选项中首句分别为④、⑤，④是对⑤的具体解释，应放在⑤之后，故④不适合做首句，排除 A、B；⑤、④都谈到“整体和 parts 的关系”，话题一致，故应捆绑在一起，排除 C 选项，因此答案选 D。

40. C 【解析】下文推断题。文段首先讲到很多家长送孩子去培训机构进行情商培训，甚至花费高昂的学费；接着对以上行为进行分析，指出家长在看待情商培训上存在的问题。文章落脚点在问题，下文应对问题提出相应对策，故选 C。A、B、D 无法承接上文，因此排除。

41. C【解析】本题考查几何特性结论，表面积一定，球的体积最大。反之体积一定，球的表面积最小。选择 C 选项。

42. D【解析】本题考查经济利润问题。设原来钢笔有  $x$  支，根据题意找出等量关系，退回的钱为少的钢笔数，列出方程， $15 \times (x-120) = 1200$ ，解得  $x=200$ ，选择 D 选项。

43. A【解析】本题考查方程法的应用。设从乙地调  $x$  人到甲地，根据题意列出方程为， $2 \times (24-x) = 30+x$ ，解得  $x=6$ ，选择 A 选项。

44. B【解析】本题考查经济利润问题。根据题目内容可得，八折后的售价为成本的 88%： $(1+10\%) \times 80\% = 88\%$ ，所以亏本为成本的 12%： $1-88\% = 12\%$ ，所以成本为  $12 \div 12\% = 100$  元，所以定价 100 元。选择 B 选项。

45. C【解析】本题考查经济利润问题。根据题目可知，12 件衣服的总利润为  $12 \times (50-30) = 240$  元，10 件衣服的单件利润为  $240 \div 10 = 24$  元，可得  $0.8 \times \text{定价} - \text{成本} = 24$ ；根据“按定价出售每件可获利 50 元”列式： $\text{定价} - \text{成本} = 50$ ，通过两式可得，定价为 130 元。选择 C 选项。

46. C【解析】本题考查工程问题。根据题意可知师傅完成一半时徒弟完成了  $\frac{4}{5} \div 2 = \frac{2}{5}$ ，所以徒弟总任务量为  $120 \div \frac{2}{5} = 300$  个零件，因为师徒二人一起加工，每人一半，所以  $300 \times 2 = 600$  个零件。选择 C 选项。

47. C【解析】本题考查容斥问题。按两集合容斥公式：总职工人数 =  $20+34-6+60=108$ 。因此，选择 C 选项。

48. B【解析】本题考查牛吃草问题模型的变形应用。根据  $Y=(N-X) \times T$ ，代入数据联立方程组。解出  $X=\frac{1}{4}$ ， $Y=\frac{7 \times 55}{4}$ 。再将  $N=4$  代入等式即可，根据选项，选择 B 选项。破题关键在于找到哪个是  $N$ ，哪个是  $X$ 。

49. A【解析】“若以每 10 人为一组，其中有两组各少一人”，可得“总 =  $10m+18$ ”，可确定总人数为数为 8，排除 BD；再根据“若以每 11 人为一组，其中有三组各少一人”，可得“总 =  $11n+30$ ”，118 减去 30 后为 11 的倍数，确定答案为 C 选项。

50. B【解析】本题考查趣味杂题中的比赛问题。四个部门，每两个部门进行一场比赛，每个部门都进行三场比赛，研发部三场全赢，排名第一。销售部赢了一场，排名第三，运营部三场全输，排名第四。所以人事部输了一场，赢了两场，排名第二。选择 B 选项。

51. C【解析】考察的黑白叠加，由左边已知题干知，白+白=黑，黑+白=白，白+黑=白，将这个规律代入到右边题干，由此可得答案 C。

52. B【解析】元素种类数，左边元素种类依次为 1,2,3；右边元素种类为 2,3，？；故问

号处图形的元素种类应为4种，只有B项符合条件；故本题答案我B。

53. B【解析】最外围图形从第一幅至第三幅依次顺时针旋转180度，所以排除C、D选项；第二层图形从第一幅至第三幅依次顺时针旋转90度。因此，选择B选项。

54. A【解析】本题考查旋转。第一组图在顺时针旋转45度。第二组图以此规律类推得出A项。故本题答案为A。

55. A【解析】本题考查曲直性。题干中的图形的曲直性分别为：直曲、直、直曲、直、(?)，所以接下来应该寻找一个直曲图形，符合的只有A。故本题答案为A。

56. A【解析】定义判断题，定义关键信息为：将自己的财产无偿给予另一方。A项，张某将自己的车送给外孙女做结婚礼物，属于无偿给予，符合定义；B项，李某是将财产送给答应给其养老的孙女，不是无偿给予，不符合定义；C项，小张并没有把财产给对方，不符合定义；D项，小吴没有将自己财产给予对方，不符合定义；故本题答案为A。

57. D【解析】定义关键信息是：个人由于群众的引导或压力，与多数人相一致的方向变化的现象，A项，入乡随俗是根据某个地方的风俗习惯改变自己，所以是从众行为，排除；B项，足球比赛后的骚乱是大家根据他人的引导才引起的，所以也是从众行为，排除；C项，暴乱中大家一起破坏，也是从众行为，排除；D项，买彩票一般不会受大众的影响。因此，本题答案为D选项。

58. B【解析】网络欺凌的定义要点是：①网上生活中；②针对个人或群体的恶意、重复、故意的伤害行为。A项不符合①；B项符合定义要点；C项不符合②；D项不符合②；故本题答案为B。

59. B【解析】定义的关键信息为：在运动中受力作用后，形状和大小不变。A项，排球比较软，受力后会明显凹进去一些，不符合定义；B项，铅球很硬，被抛出去后，形状和大小也不会变，符合定义；C项，吸水后的海绵形状和大小都改变了排除。D项，都没有受力，不符合定义；故本题答案为B。

60. B【解析】定义强调：具有保护自然环境和维护当地人民生活双重责任的旅游活动，有两个要点：其一的物件是自然景物；其二是生态旅游的物件不应受到损害。A项中，仿古建筑群不是自然景物，不符合定义；B项中，十渡自然风景区观光旅游，并沿途清理景区垃圾，符合保护自然环境和维护当地人民生活双重责任的旅游活动，符合定义；C项中，故宫、天安门、长城、十三陵不是自然景物，不符合定义；D项中，保护当地的自然景观不是旅游活动，不符合定义。故本题答案为B选项。

61. B【解析】定义判断。消化道内被吸收的蛋白质占摄入蛋白的百分比，是反映食物

被消化酶分解的程度以及消化后的氨基酸和肽被吸收的程度的指标。A项中，蛋白质消化后会产生氨基酸，说明氨基酸是蛋白质的组成部分，说法正确；B项中，反映食物被消化酶分解的程度，说明蛋白质消化率与人体内的酶有关系，说法错误；C项中，消化率是被吸收的蛋白质占摄入蛋白的百分比，说明蛋白质消化率与摄入蛋白的多少有关，说法正确；D项中，只要蛋白质消化率不是100%，那么就说明有的蛋白质不能被人体消化吸收，说法正确。故本题答案为B选项。

62. D【解析】定义强调：一国给予外国人不同于本国人的待遇，或给予不同国家的外国人不同的待遇。A项中，该项提及的是出口小汽车的价格，不符合给与外国人不同于本国人的待遇，不符合定义；B项中，对身处该国的外国人和国人征收不同的个人所得税，依据的是收入的差异，不是因为国籍的不同，不符合给予外国人不同于本国人的待遇，不符合定义；C项中，降低向丁国进口石油的关税，不符合给与外国人不同于本国人的待遇，不符合定义；D项中，外国资本到本国投资将会享受比本国企业更低的税率，符合给与外国法人不同于本国法人的待遇，符合定义。故本题答案为D选项。

63. A【解析】定义强调：A项中，物价部门公布了几种主要蔬菜的最高限价，符合业务主管部门按照国家规定权限制定的商品价格和收费标准，符合定义；B项中，商店不是业务主管部门，不符合定义；C项中，市出租车公司不是业务主管部门，不符合定义；D项中，某大学不是业务主管部门，不符合定义。故本题答案为A选项。

64. C【解析】定义强调：可能到来的失败，事先设置障碍，目的为失败找借口，维持形象。A项中，面试已经失败了，不是可能，不符合定义；B项中，小李直接坦白失败，没找借口，不符合定义；C项中，满足条件，符合定义；D项中，制定销售计划前，考虑到进入销售淡季，是客观原因，直接下调销售计划，不是设置障碍，不符合定义。故本题答案为C选项。

65. C【解析】定义强调：N理论则认为，人们有积极的工作源动力，工作是很自然的事，大部分人并不抗拒工作，即使没有外界的压力和处罚的威胁，他们一样会努力工作以期达到目的。A项中，没有什么一成不变的、普遍适用的最佳管理方式，没有体现人有积极的工作源动力，不符合定义；B项中，设定严格的规章制度，注重“他律”在管理中的应用，符合M理论，不符合定义；C项中，对员工授予更大的权力，以此激发员工的工作积极性，体现了，人有积极的工作源动力，符合定义；D项中，根据企业实际状况灵活加强对员工的管理，没有体现人有积极的工作源动力，不符合定义。故本题答案为C选项。

66. B【解析】话梅一定是酸的考察的是必然属性。A口红不一定是粉色的，排除。B

冰棍一定是凉的，和题干的逻辑关系相符可选择。C 手机不一定是贵的，排除。D 猕猴桃不一定是硬的，熟了就软了，排除。故此题选择 B。

67. A 【解析】费解的意思是不好理解，和理解为一组反义词。A 凝结和溶解是一组反义词，可选择。B 美丽和大气没有逻辑关系，排除。C 行动和运动没有逻辑关系。D 战争是需要打仗的不是反义词，排除。故本题答案选 A。

68. D 【解析】苹果的象征意义是平安。A 儿童是祖国的花朵比喻关系和题干的逻辑关系并不一致排除。B 红豆比喻相思排除。C 书籍是知识的阶梯和题干的逻辑关系不符合。D 鸽子象征着和平和题干的逻辑关系一致，可选择。故本题答案选 D。

69. C 【解析】本题考查的是对应关系，题干中纸和砚是配套使用的关系，A 选项是并列的关系与题干的逻辑关系不符合，B 选项没有逻辑关系排除，C 选项笔筒和铅笔是配套使用的和题干逻辑关系相符故应选择 C。D 选项沙的颜色是金色的，和题干逻辑关系不相符排除。故本题答案选 C。

70. D 【解析】本题考查位置对应关系。子弹在枪膛里。A 发射火箭是动宾关系排除；B 弹簧球是有弹力的是属性关系。C 长矛和盾牌是配套使用的关系。D 炮弹在炮筒里符合题干的逻辑关系可选择。故本题答案选 D。

71. A 【解析】工作的功能是为了挣钱，A 床的作用功能就是睡觉，可选择；B 床的摆放位置是在卧室，排除；C 床的原材料是木头；D 床是家具的一种，逻辑关系不符合，排除；故此题选择 A。

72. A 【解析】钢笔是文具的一种。A 美元是货币中的一种。B 南瓜不是水果中的一种排除。C 药品和刮痧没有关系排除。D 跳绳是健身项目中的一种，但是位置关系不一致排除。故此题选择 A。

73. A 【解析】莫高窟的地理位置在敦煌是位置的对应关系。A 选项中山陵位于江苏省南京市玄武区紫金山南麓，和题干的逻辑关系相符，可以选择。B 白公馆位于重庆市沙坪坝区与题干逻辑关系不符合，排除。C 嵩山位于河南省西部，排除；D 翠湖位于云南，排除；故此题选择 A。

74. A 【解析】观众观看电影，电影的主体是观众。A 小说的主体就是读者，可选择；B 村长和民工没有逻辑关系，排除；C 领导管理下级，排除；D 汽车中有轮胎，和题干逻辑关系不符合，排除。故此题选择 A。

75. A 【解析】遥远和附近是一组反义词。A 高大和矮小是一组反义词和题干的逻辑关系相符，可选择。B 魁梧和健康不能构成一组反义词，排除。C 喜欢和热爱不是反义词，排

除 D 罗曼蒂克和浪漫是同一关系，和题干逻辑关系不一致。故本题答案为 A。

76. A 【解析】本题考查翻译推理。题干可以翻译为：受人尊敬→保持自尊→问心无愧→恪尽操守，I 翻译后，受人尊敬的人→恪尽操守，肯前必肯后，与题干翻译一致，可以推出；II 翻译后，问心有愧的人→不可能受人尊敬，否后必否前，与题干翻译一致，可以推出；III 翻译后，恪尽操守的人→保持自尊，肯后不能得必然结论，与题干翻译不一致，无法推出。故本题答案为 A 选项。

77. A 【解析】题干结论：下国际象棋有助于提高学生的学习成绩。论据：相对于不会玩国际象棋的孩子，喜欢下国际象棋的孩子的学习成绩要好很多。A 项指出会下国际象棋的孩子都是学习成绩好的孩子，并不是因为国际象棋下的好，成绩才好，说明结论因果倒置，最能质疑结论。B 项指出下象棋能缓解孩子的学习压力，在一定程度上支持结论，排除。C 项指出学习成绩好的学生国际象棋也玩得好，未说明下国际象棋能提高成绩，不能削弱结论，排除。D 项指出国际象棋下的好的学生为什么能提高成绩，支持结论，排除。故本题选 A。

78. A 【解析】需解释的原因：有时人饮用不加糖和奶的咖啡后，也会引起血液葡萄糖的大量增加。A 是因为在喝咖啡之前吃了食物，是食物在消化的过程中，产生出来了葡萄糖。所以正好解释了为什么不加糖的咖啡也会引起葡萄糖的增加。B 选项，题干中没有提到饮用超过两杯，无关选项。C 选项，描述的是服食细糖食物多少造成的不同影响，无关；D 选项，描述巧克力饼干和咖啡有相同刺激，无法解释为什么会造成题中现象。故本题答案选择 A。

79. B 【解析】题干论点是“很多医师认为提高医师合法收入对治理红包、回扣，以及缓解医患关系紧张都能起到积极作用”。A、D 项说明提高医生收入的积极作用，加强论点；B 项“对于高收入的期望不会因为加薪而停止”，说明提高收入后依然会有医生对自己的收入不满，因此提高医生合法收入对治理红包、回扣以及缓解医患关系紧张的作用是不确定的，削弱论点；C 项公务员的情况与题干论证无关。故本题选 B。

80. D 【解析】本题考查分析推理。题干信息：陈六猜道：“张三买的是奇瑞车，赵五买的不是比亚迪车，李四买的不是奇瑞车。”事实上，陈六的上述猜想，只对了一个。这时采用代入法即可，即把 ABCD 四个选项代入到题干信息当中，只要符合陈六只猜对一个就满足题意了，即为正确选项。代入后发现只有 D 选项满足题干只对一个。故本题答案为 D 选项。

81. D 【解析】题干推论：最新的研究将增加海鲜食用量。论据：以前有调查显示，食用海鲜过多会导致痛风，而最新的究结果表明，食用海鲜与痛风之间没有必然的因果联系。D 项，假设以前很多人不食用海鲜不是因为担心引发痛风，则不论食用海鲜与引发痛风之间



有没有必然的因果联系，都不会影响他们对海鲜的食用量，则推论不成立。因此 D 项是题干推论基于的假设。故本题选 D。

82. A 【解析】 本题考查加强论证。论据：用含 P-脂肪低的配方奶喂养的婴儿比母乳喂养的婴儿视力要差，而母乳中 P-脂肪的含量高，早产 5-6 周的婴儿比足月出生的婴儿视力要差；论点：一种特殊的脂肪，即“p 脂肪”，是视力发育形成过程中所必需的 A 项中，妊娠期的最后四周里加大了从母体中获取的 P-脂肪的量，说明早产 5-6 周的孩子确实无法获取 P-脂肪，能够导致视力发育不良，能支持；B 项中，饮食缺乏 P-脂肪的成年人比日常饮食中 P-脂肪含量高的成年人视力差，讨论的是成年人，而不是视力发育形成期，不能支持；C 项中，胎儿的视力是在妊娠期的最后 3 个月中发育形成的，但到底有没有吸收 P-脂肪没有涉及到，不能支持；D 项中，母亲的视力差并不导致婴儿的视力差，与论点无关，不能支持。故本题答案为 A 选项。

83. C 【解析】 本题考查加强论证。论据：将大脑暴露于高水平葡萄糖和低水平葡萄糖条件下将会增加个体罹患相关疾病的风险，减少久坐并以低强度步行的方式替代久坐，这样或许能够改善人们饭后的机体血糖控制水平，使得机体葡萄糖水平不会升得太高也不会降得太低；论点：久坐或会影响大脑健康。A 项中，脑细胞中葡萄糖的可用性会对大脑健康产生一定影响，没有提到与久坐的关系，与论点无关，不能支持；B 项中，降低坐着的时间不能说明久坐是否会影响大脑健康，与论点无关，不能支持；C 项中，久坐会导致大脑可能出现大脑的认知功能障碍，能支持；D 项中，步行或运动有益健康，与论点无关，不能支持。故本题答案为 C 选项。

84. B 【解析】 本题考查翻译推理。题干可以翻译为：2006 年以后的新建楼房→外墙保温层，A 项中，翻译后，外墙保温层→2006 年以后的新建楼房，与题干翻译不一致，无法推出；B 项中，翻译后，2006 年以后的新建楼房→外墙保温层，与题干翻译一致，可以推出；C 项中，翻译后，有些 2006 年以前的新建楼房→外墙保温层，与题干翻译不一致，无法推出；D 项中，翻译后，2006 年以前的新建楼房→不带外墙保温层，与题干翻译不一致，无法推出。故本题答案为 B 选项。

85. A 【解析】 本题考查加强论证。论据：无。论点：为了保护农作物而保护保护益虫，但保护益虫的目的是为了消灭害虫，否则保护益虫没有意义。A 项中，害虫的生长繁殖能力和速度要高于益虫，说明单靠益虫是消灭不了害虫的，所以需要杀虫剂，因此即使杀虫剂杀死了益虫，也能够保护农作物，能支持；B 项中，杀虫剂对人畜无害，说的是杀虫剂的危害性，与论点无关，不能支持；C 项中，害虫比益虫更容易获得对于杀虫剂的抗药性，说的是

杀虫剂的抗药性，与论点无关，不能支持；D项中，说的是该杀虫剂的效率，与论点无关，不能支持。故本题答案为A选项。

86. C【解析】简单比较与计算。文字材料第二段，2017年，文化服务业增加值增长率为20.4%，文化批发零售业增加值增长率为15.9%，文化制造业增加值增长率为1.7%，由高到低即为此顺序，选择C选项。

87. B【解析】比重计算。由文字材料第一段可知，2017年全国文化及相关产业增加值34722亿元，占GDP比重为4.2%，则2017年全国GDP约为 $\frac{34722}{4.2\%} = 82.6$ 万，选择B选项。

88. A【解析】增长量的计算。根据材料当中给出的已知数据，用增长量 $=\frac{\text{现期量}}{1+\text{增长率}} \times \text{增长率}$ 的公式计算。则2017年文化相关领域增加值的增长量为 $=\frac{12222}{1+9.8\%} \times 9.8\% \approx \frac{12222}{1.1} \times 0.1 = 1111$ 。结合选项，选择A选项。

89. C【解析】简单比较与计算。由表格可，2017年文化六大核心领域中，增加值最大的为内容创作生产7587亿元，最小的为文化投资运营190亿，所以相差为 $7587-190=7397$ 亿元。结合选项，选择C选项。

90. C【解析】综合分析题。

A选项，时间点陷阱，由第一段“2017年全国文化及相关产业增加值占GDP比重为4.2%，比上年提高0.6个百分点”，可知2016年比重为3.6%，而非2015年，故错误。

B选项，内容创作生产相关行业未来发展前景最好，由材料无从得知，故错误。

D选项，由材料第一段“2017年全国文化及相关产业增加值占GDP比重为4.2%，比上年提高0.6个百分点”，2017年占GDP比重高于2016年，故错误。

选择C选项。

91. D【解析】基期量的计算。根据材料给出的已知数据，用基期量 $=\frac{\text{现期量}}{1+\text{增长率}}$ 的公式计算。故2017年全国人均可支配收入约为 $\frac{28228}{1+6.5\%} = 26505$ ，选择D选项。

92. C【解析】简单读数与比较。通过表1可知，全国居民人均可支配收入增长量为8.7%，通过表2可知，农村居民人均可支配收入按收入来源不同划分为四种，增长率分别为9.1%、6.6%、12.9%和12.2%，大于8.7%的有三个，选择C选项。

93. A【解析】间隔基期量的计算。间隔基期量 $=\frac{\text{现期量}}{1+\text{间隔增长率}}$ 。故2016年全国居民人均生活消费品及服务支出约为 $\frac{1223}{1+(9.1\%+9.1\%+9.1\% \times 9.1\%)}$ ，结合选项，选择A选项。

94. A 【解析】基期比重的比较。基期比重 $=\frac{\text{现期部分}}{\text{现期整体}} \times \frac{1+\text{整体增长率}}{1+\text{部分增长率}}$ ，根据表2找出对应数据代入公式，A选项食品烟酒为 $\frac{3646}{10019} \times \frac{1+10.7\%}{1+6.7\%}$ ，B选项交通通信为 $\frac{1690}{10019} \times \frac{1+10.7\%}{1+12.0\%}$ ，C选项居住为 $\frac{2661}{10019} \times \frac{1+10.7\%}{1+13.0\%}$ ，D选项教育文化娱乐为 $\frac{1302}{10019} \times \frac{1+10.7\%}{1+11.1\%}$ ，略去相同部分，实则仅需比较 $\frac{3646}{1+6.7\%}$ ， $\frac{1690}{1+12.0\%}$ ， $\frac{2661}{1+13.0\%}$ ， $\frac{1302}{1+11.1\%}$ ，根据分子越大分母越小的分数大，明显A选项最大，选择A选项。

95. B 【解析】综合分析题。

A选项，根据文字材料可知，2017年全国人均可支配收入增速为6.5%-0.3%=6.2%，2016年全国人均消费支出增速为6.2%+0.3%=6.5%。前者小于后者，故错误。

B选项，储蓄=收入-支出，城市居民储蓄为39251-22112≈17000，农村居民储蓄为14617-10692≈4000，城镇居民人均储蓄高于农村居民，正确。

C选项，基期比重比较，根据表1和表2，2017年农村军民工资性收入占比为 $\frac{5996}{28228} \times \frac{1+8.7\%}{1+9.1\%}$ ，财产净收入占比为 $\frac{342}{28228} \times \frac{1+8.7\%}{1+12.9\%}$ ，明显工资性收入占比高于财产净收入占比，故错误。

D选项，比重计算，农村居民食品烟酒上的支出3646元，农村居民人均消费支出10019元，占比大于30%，而近三成意为不到三成，小于但接近30%，故错误。所以选择B选项。

96. B 【解析】现期平均数的比较。单位面积产量 $=\frac{\text{总产量}}{\text{总面积}}$ ，根据文字材料，找数据代入公式即可，根据第一段和第二段数据，A选项小麦为 $\frac{12977}{2399}$ ，B选项稻谷为 $\frac{20856}{3018}$ ，C选项玉米为 $\frac{21589}{3545}$ ，D选项棉花为 $\frac{549}{323}$ ，最大为B选项。

97. C 【解析】增长率的比较。根据材料给出的已知数据，采用增长率 $=\frac{\text{增量}}{\text{基期量}}$ 的公式计算。根据材料第一段找出数据，A选项小麦为 $\frac{20}{2379}$ ，B选项稻谷为 $\frac{0.2}{3017.8}$ ，C选项玉米为 $\frac{132}{3413}$ ，D选项糖料为 $\frac{1}{167}$ ，最大为C选项，选择C选项。注意所求增长率皆为负数，求缩减速度最快不考虑符号问题。

98. B 【解析】增长量的比较。位于原文第二段。排除法，玉米减产，首先排除。棉花产量于其他三项量级差别较大，也可排除。小麦和稻谷增长率相同，现期值大的，增长量大，故稻谷的增产量最大，选择B选项。

99. D 【解析】平均数的比较。单位面积产量 $=\frac{\text{总产量}}{\text{总面积}}$ ，根据第一段和第二段，小麦为 $\frac{12977}{2399}$ ，

稻谷为 $\frac{20856}{3018}$ ，玉米为 $\frac{21589}{3545}$ ，棉花为 $\frac{549}{323}$ ，最大的为稻谷，最小的为棉花，选择 D 选项。

100. C 【解析】综合分析题。

A 选项，2016 年粮食产量下降，所以并不是逐年上升，故错误。

B 选项，基期量的计算，2016 年猪牛羊禽肉产量 $=\frac{8431}{1+0.8\%} \approx 8364 > 7000$ ，故错误。

C 选项，2016 年粮食产量下降，即负增长，正确

D 选项，根据第二段，2017 年糖料产量 12556 万吨，早稻产量 3174 万吨， $12556 \div 3174 < 5$ ，不到 5 倍，故错误。

选择 C 选项。



关注华图社会工作者公众号

获取更多社区社工咨询