

2020 年事业单位笔试技巧提分班题目

截面图之秒杀技

主讲人：张晓娜

日期：2020 年 2 月 11 日



华图在线 APP



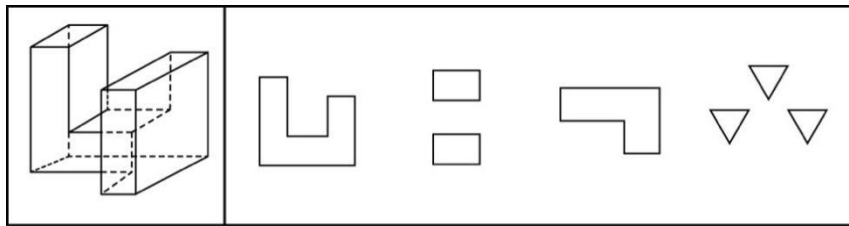
华图在线事考培训微博

华图在线 APP
随时来刷题

关注新浪微博
获取最新资讯

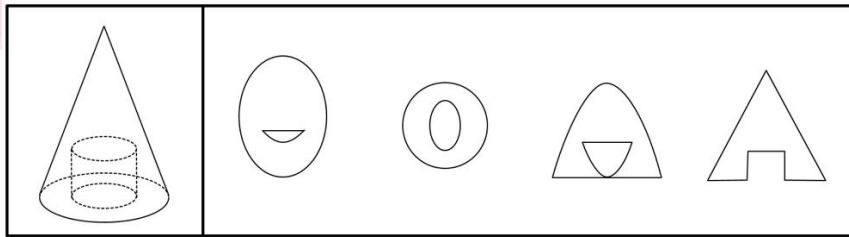
1. 左图是给定的多面体，将其从任一面剖开，下列哪一项不可能是该多面体的截面图
- 时间是世界上一切成就的土壤

面?



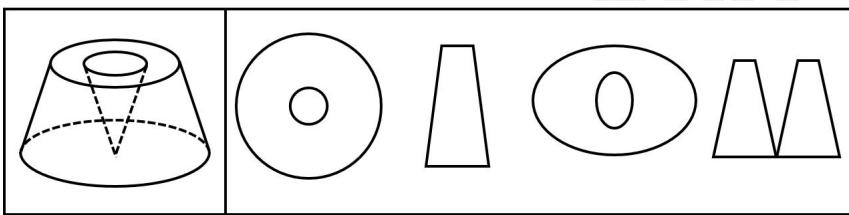
A B C D

2. 在一个圆锥中下方中间挖去一个圆柱体,从任意面剖开,下面哪一项不可能是该物体的截面图?



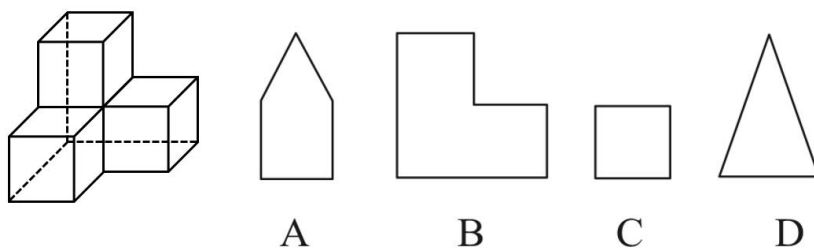
A B C D

3. 左图为给定的立体图形,将其从任一面剖开,下面哪一项不可能是该立体的截面?



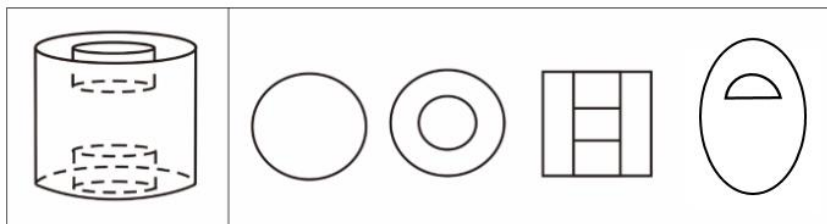
A B C D

4. 给定的是由4个相同正方体组合成的立体图形,将其从任一面剖开,下面哪一项不可能是该立体图形的截面?



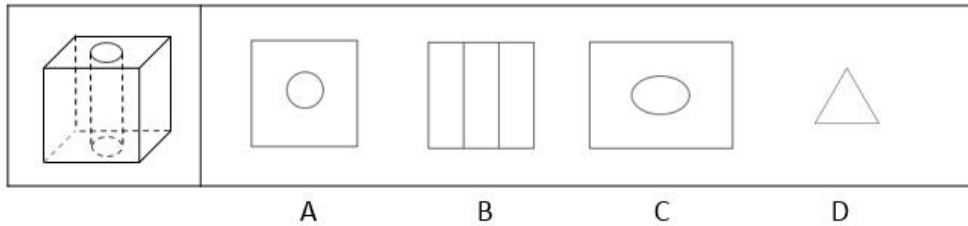
A B C D

5. 如图所示,以下哪项不可能是所给物体的截面图?

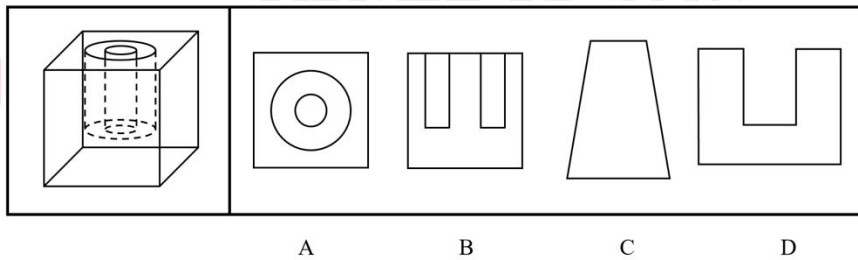


A B C D

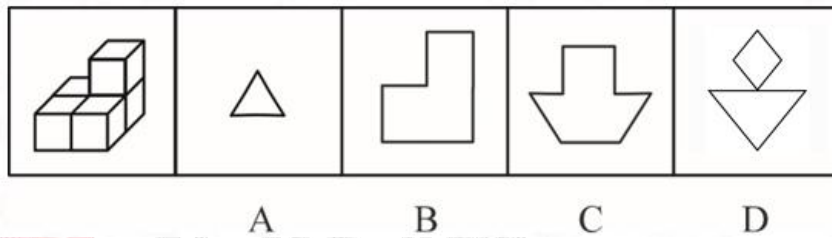
6. 左图为给定的立体,从任意角度剖开,右边哪一项不可能是它的截面图?



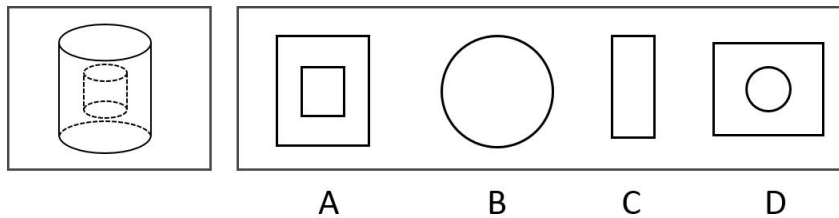
7. 如图所示，在一个正方体中切除了一个空心圆柱，则下列选项中，不可能是该多面体截面图的是：



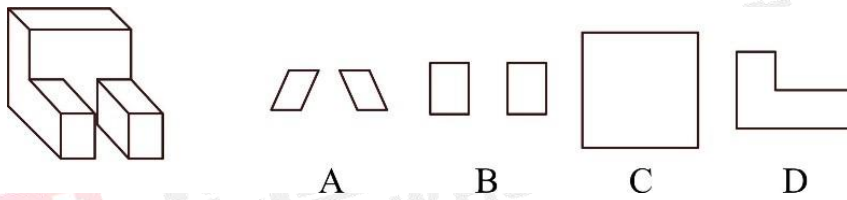
8. 左图为5个相同小正方体组合成的多面体，将其从任一面剖开，右边哪一项不可能是该多面体的截面？



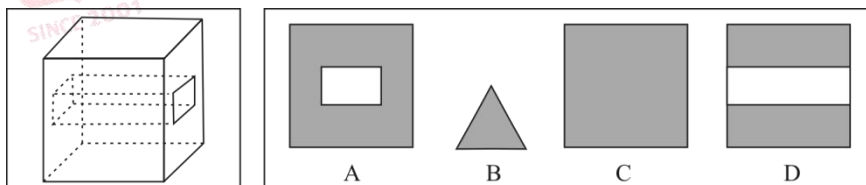
9. 左图为给定的立体图形，从任意角度剖开，右边哪一项不可能是它的截面图？



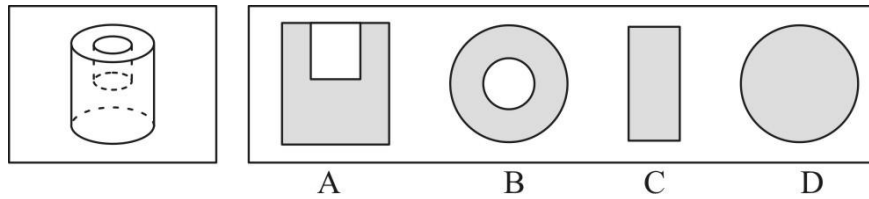
10. 左图为给定的立体图，下面哪一项不可能是该立体图的截面图？



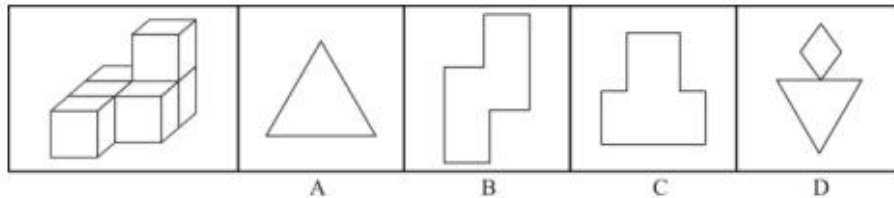
11. 左图为给定的立体，从任意角度剖开，右边哪一项不可能是它的截面图？



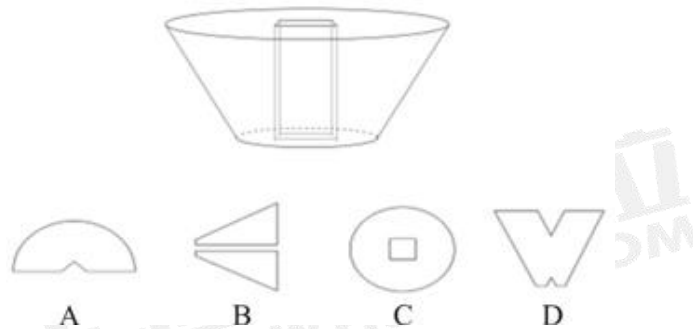
12. 左图为给定的立体，从任意角度剖开，右边哪一项不可能是它的截面图？



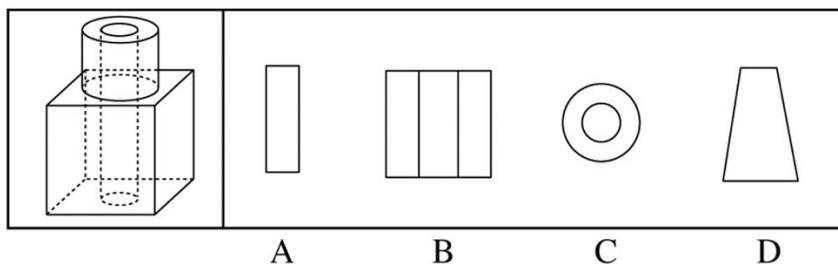
13. 左图为6个相同小正方体组合成的多面体，将其从任一面剖开，以下哪一项不可能是该多面体的截面？



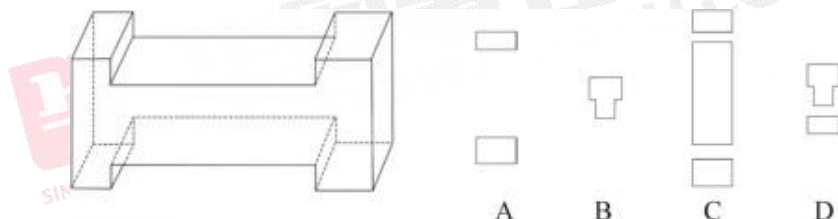
14. 左图是从圆台中挖出一个截面为正方形的长方体形成的立体图形。如果从任一面切开，以下哪一个不可能是该立体图形的截面？



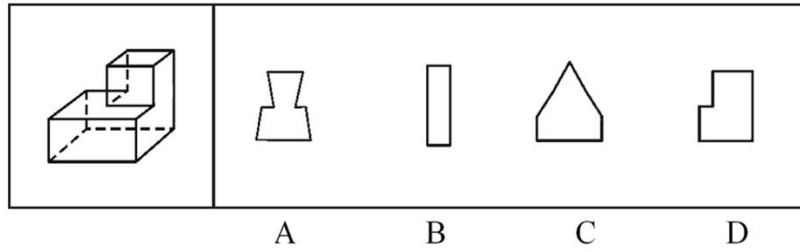
15. 如图所示，立方体上叠加圆柱体再打通一个圆柱孔，然后从任意面剖开，下面哪一项不可能是该立体的截面？



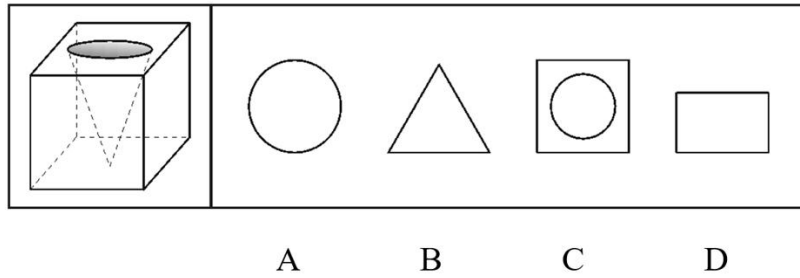
16. 下面的立体图形如果从任一面剖开，以下哪一项不可能是该立体图形的截面？



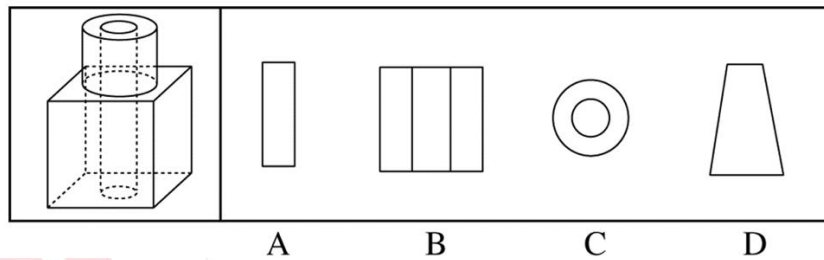
17. 一正方体如下图所示切掉了上半部分的3/4，现在从任意面剖开，下面哪一项不可能是该多面体的截面？



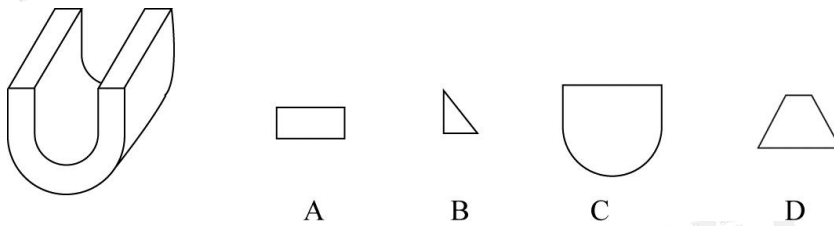
18. 一立方体如图所示从中挖掉一个圆锥体，然后从任意面剖开，下面哪一项不可能是该立方体的截面？



19. 如图所示，立方体上叠加圆柱体再打通一个圆柱孔，然后从任意面剖开，下面哪一项不可能是该立体的截面？



20. 左图是给定的立体图形，将其从任一面剖开，下面哪一项可能是该立体的截面？



华图教育
HUATU.COM

事业单位 备考图书集合

好老师·好课程·好服务



扫码购买备考图书