

# 2020 年事业单位笔试技巧提分班讲义

## 截面图之秒杀技

主讲人：张晓娜

日期：2020 年 2 月 11 日



华图在线 APP

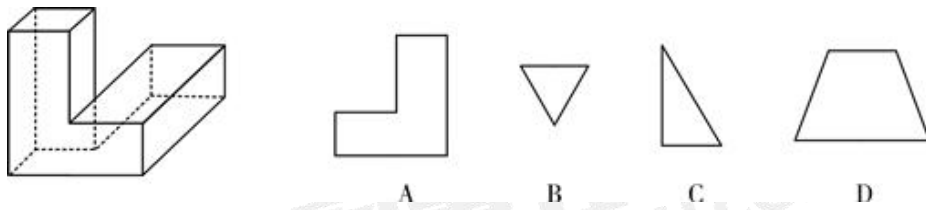


华图在线事考培训微博

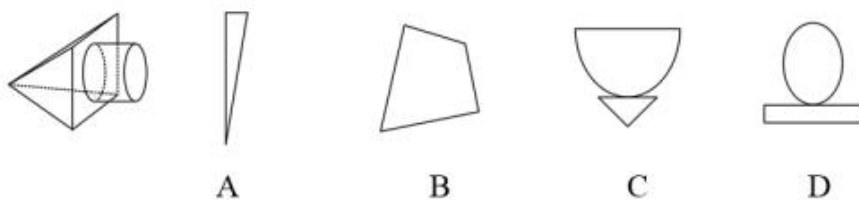
华图在线 APP  
随时来刷题

关注新浪微博  
获取最新资讯

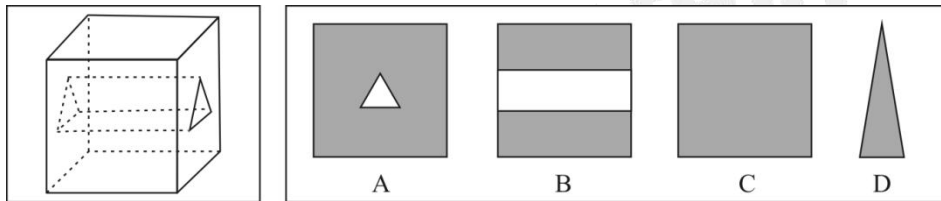
1.左图是给定的立体图形，将其从任一面剖开，下面哪一项不可能是该立体图形的截面？



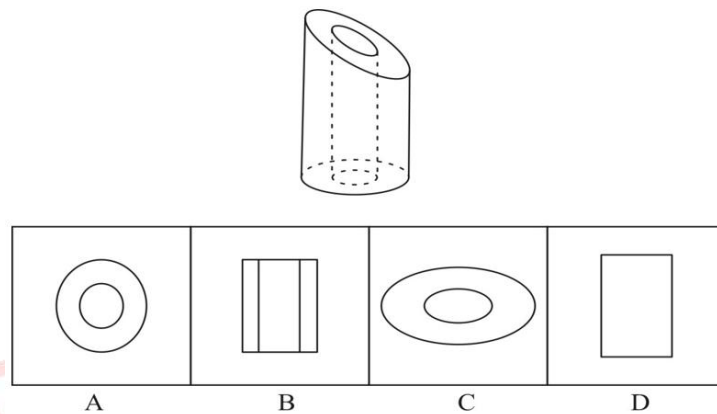
2.左边的图形是圆柱体和四棱锥体的组合，如果从任一面对剖开，以下哪一个不可能是该立体图形的截面？



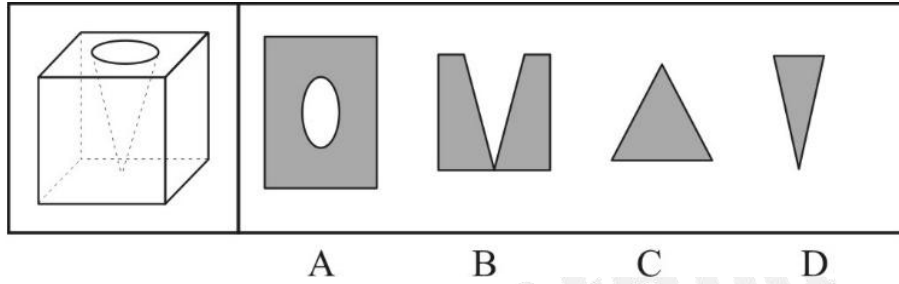
3.左图为给定的立体，从任意角度剖开，右边哪一项不可能是它的截面图？



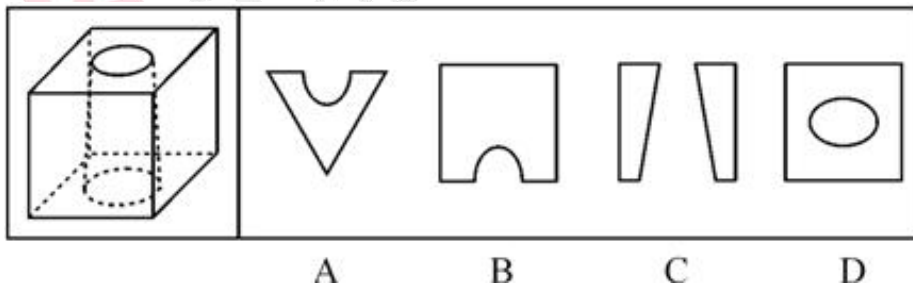
4.将一个空心圆柱体斜切，得到下图所示物体。不可能是这一物体截面的是：



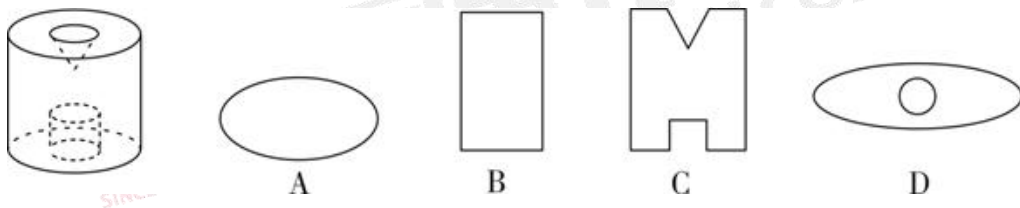
5.左图为给定的立方体，从任意角度剖开，右边哪一项不可能是它的截面图？



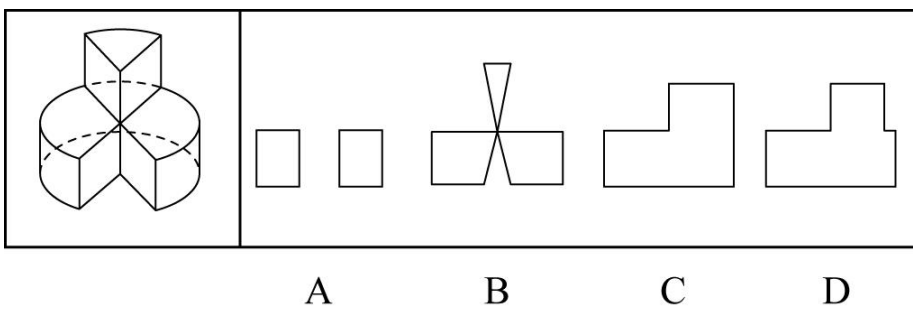
6. 下列的立体图形是正方体挖出一个圆锥台孔后形成的，如果从任意一面剖开，以下哪一个不可能是该立体图形的截面？



7. 从一个圆柱体中挖去一个圆柱体和一个圆锥体，得到的立体图形如左图所示，则以下不可能是它的截面的是：



8. 左图为给定的立体图形，将其从任一面剖开，以下哪个不可能是该立体图形的截面？



参考答案

1	2	3	4	5	6	7	9
C	D	B	B	A	D	D	B



# 事业单位 备考图书集合

好老师·好课程·好服务





扫码购买备考图书

