

《2020 年省考红领提分班》讲义

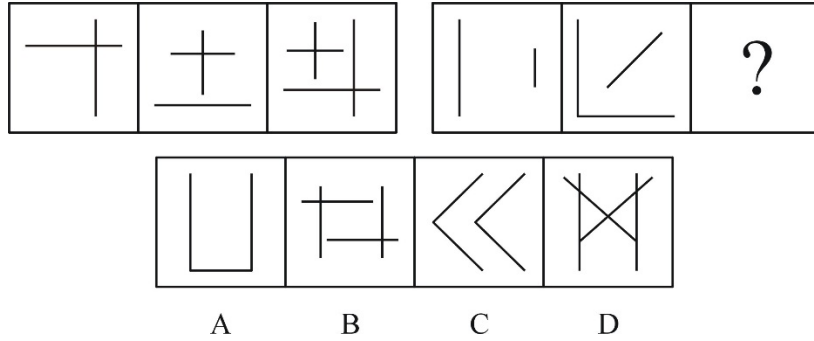
判断推理



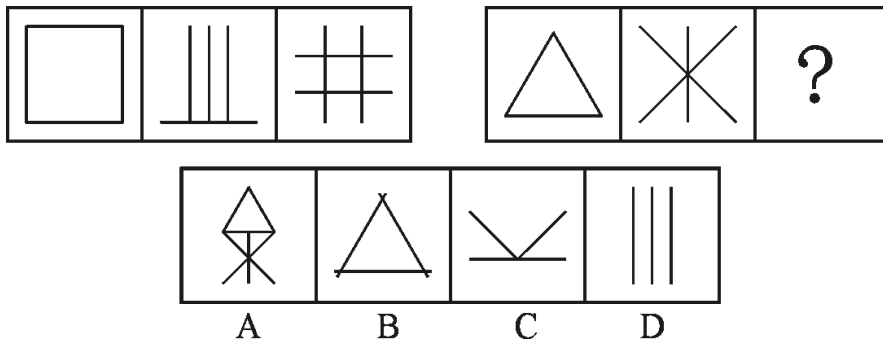
主讲人：李新

图形推理之属性类和数量类的联姻

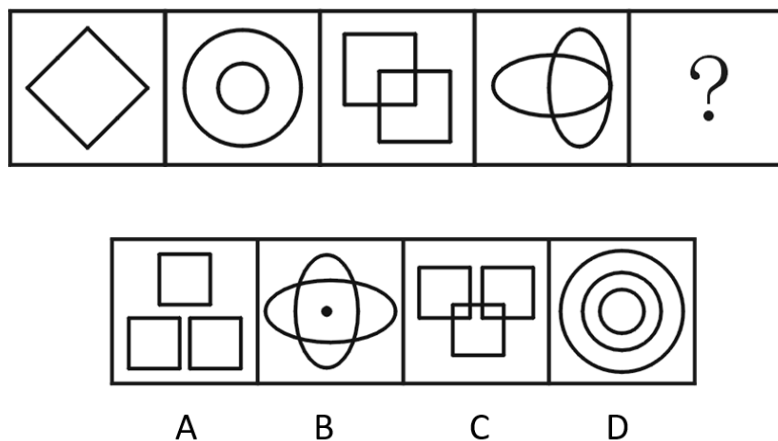
【例 1】从所给的四个选项中，选择最合适的一个填入问号处，使之呈现一定的规律性：



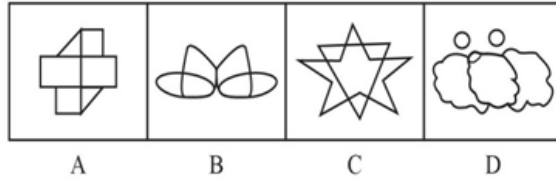
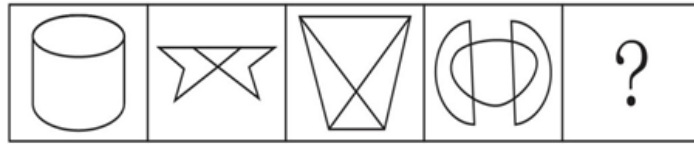
【例 2】从所给的四个选项中，选择最合适的一个填入问号处，使之呈现一定的规律性：



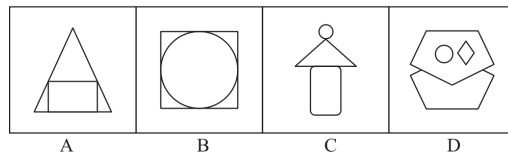

【例 3】从所给的四个选项中，选择最合适的一个填入问号处，使之呈现一定的规律性：



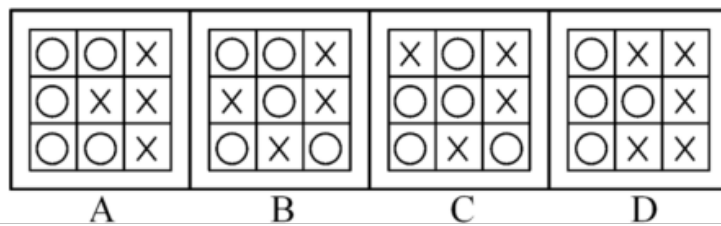
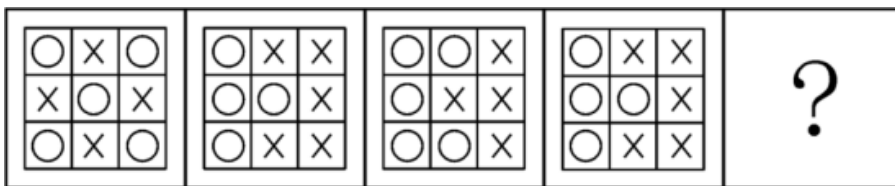
【例 4】从所给的四个选项中，选择最合适的一个填入问号处，使之呈现一定的规律性：



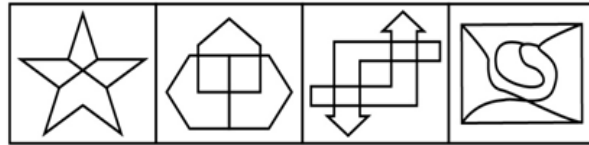
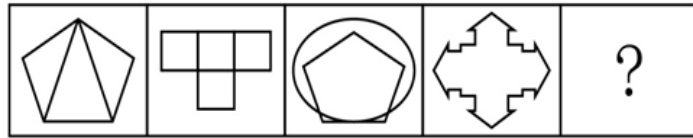
【例 5】从所给的四个选项中，选择最合适的一个填入问号处，使之呈现一定的规律性：



【例 6】从所给的四个选项中，选择最合适的一个填入问号处，使之呈现一定的规律性：



【例 7】从所给的四个选项中，选择最合适的一个填入问号处，使之呈现一定的规律性：



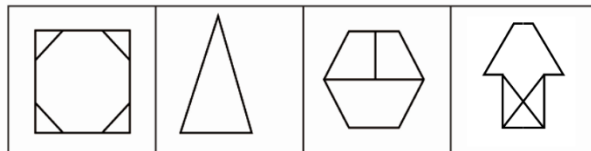
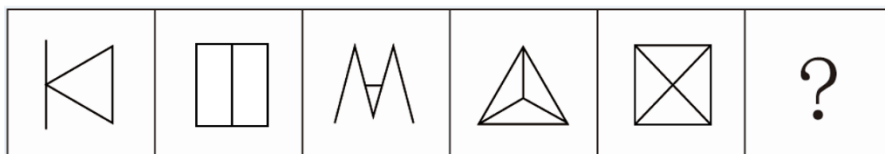
A B C D

【例 8】从所给的四个选项中，选择最合适的一个填入问号处，使之呈现一定的规律性：



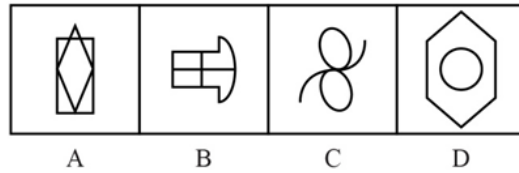

A B C D

【例 9】从所给的四个选项中，选择最合适的一个填入问号处，使之呈现一定的规律性：

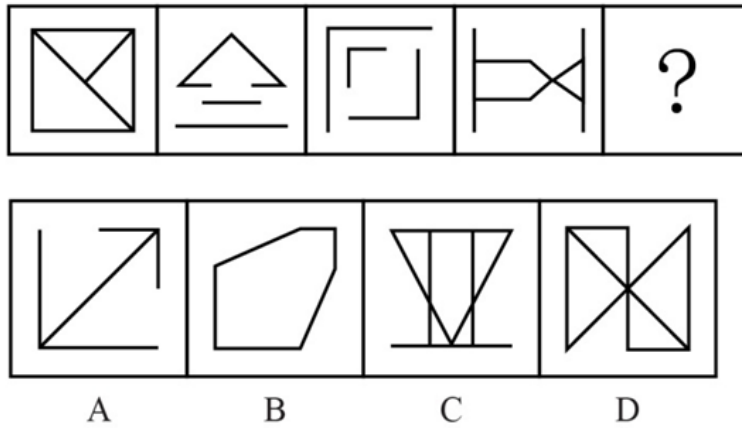


A B C D

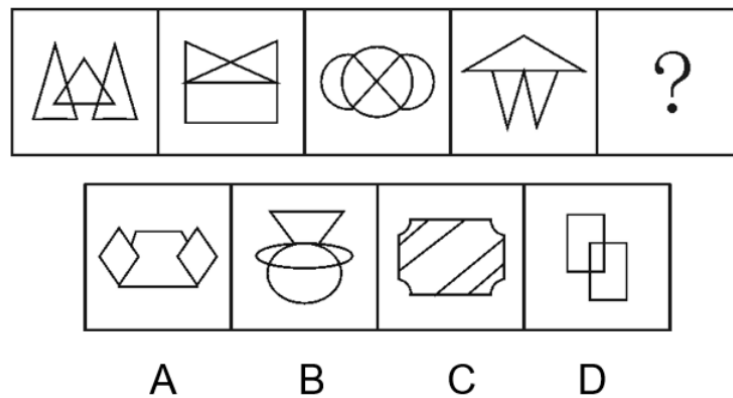
【例 10】从所给的四个选项中，选择最合适的一个填入问号处，使之呈现一定的规律性：



【练习 1】从所给的四个选项中，选择最合适的一个填入问号处，使之呈现一定的规律性：



【练习 2】从所给的四个选项中，选择最合适的一个填入问号处，使之呈现一定的规律性：



【练习 3】从所给的四个选项中，选择最合适的一个填入问号处，使之呈现一定的规律性：

土 口 中 ? 甲 富

粗 昌 省 冒

A B C D

答案：

例 1	例 2	例 3	例 4	例 5	例 6	例 7	例 8	例 9	例 10
D	B	C	B	D	A	B	C	B	B
练习 1	练习 2	练习 3							
B	B	D							

