

2020 年公安院校联考《行政职业能力测试》冲刺卷（二）

第一部分 常识判断

根据题目要求，在四个选项中选出一个最恰当的答案。

1. 坚持什么样的改革方向，决定着改革的性质和最终成败，坚持改革的正确方向。最核心的是在改革中（ ）。

- A. 坚持和发展马列主义、毛泽东思想
- B. 坚持和完善人民民主专政
- C. 坚持和完善社会主义市场经济体制
- D. 坚持和完善党的领导，坚持和发展中国特色社会主义

2. 全党必须牢记，（ ）的问题，是检验一个政党，一个政权性质的试金石。

- A. 为什么人
- B. 执政宗旨
- C. 建党宗旨
- D. 权力来源

3. 在一张科举考试的试卷上，考题的内容来自“四书”“五经”，答卷的文体格式和段落划分都很固定，由八个部分组成，每个部分有两股对仗的文字，这份考卷最有可能来自（ ）。

- A. 唐朝
- B. 隋朝
- C. 明朝
- D. 秦朝

4. 从效力层级看，下列法律中效力最高的是（ ）。

- A. 《中华人民共和国渔业法》
- B. 《中华人民共和国渔业船舶检验条例》
- C. 《中华人民共和国渔业行政执法船舶管理办法》
- D. 《长江渔业管理规定》

5. 某行政机关对公民 A 作出 2000 元罚款的处罚决定，A 不服，向上一级行政机关申请

复议，复议决定把罚款 2000 元改为 1000 元，A 仍不服，向人民法院起诉，这一行政诉讼的被告应为（ ）。

- A. 复议机关
- B. 作出原决定的机关
- C. 作出原决定的机关和复议机关
- D. 作出原决定的机关或复议机关

6. 甲在 2016 年 1 月 1 日当着两个儿子的面立了一份口头遗嘱，2016 年 2 月 18 日，大儿子为稳妥起见，将遗嘱内容以书面形式记录下来，后因大儿子不孝，老人欲将所有财产都留给小儿子，于 2016 年 7 月 9 日重新以书面的形式更改了遗嘱内容。试问，甲去世后，哪份遗嘱可以生效（ ）。

- A. 口头遗嘱
- B. 2016 年 7 月 9 日立的遗嘱
- C. 2016 年 2 月 18 日立的书面遗嘱
- D. 以上都无效，按法律规定继承

7. 一般来说，越是处于高层的管理人员，越需要更多地掌握（ ）。

- A. 技术技能
- B. 人际技能
- C. 概念技能
- D. 专业技能

8. 下列诗句中，出自杜甫笔下的是（ ）。

- A. 出师未捷身先死，长使英雄泪满襟
- B. 遥知兄弟登高处，遍插茱萸少一人
- C. 在天愿作比翼鸟，在地愿为连理枝
- D. 天生我材必有用，千金散尽还复来

9. 下列有关中国近代史上重要历史人物与其所做出的贡献，搭配不正确的是（ ）。

- A. 左宗棠—收复新疆
- B. 林则徐—虎门销烟
- C. 李鸿章—辛亥革命
- D. 冯子材—镇南关大捷

10. （ ）签订于八国联军侵华之后，这一条约使中国彻底沦为半殖民地半封建社会。

A. 《南京条约》

B. 《瑷珲条约》

C. 《马关条约》

D. 《辛丑条约》

11. 下列历史事件中，最接近“朱门酒肉臭，路有冻死骨”所描述的时期的是（ ）。

A. 玄武门之变

B. 永贞革新

C. 安史之乱

D. 黄巢起义

12. “赋比兴”是《诗经》的三种主要表现手法，朱熹《诗集传》说：“赋者，敷也，敷陈其事而之言之者也。比者，以彼物比此物也。兴者，先言他物引起所咏之词也。”下列诗句中使用了“赋”手法的是（ ）。

A. 关关雎鸠，在河之洲。窈窕淑女，君子好逑

B. 手如柔荑，肤如凝脂。领如蝤蛴，齿如瓠犀

C. 桃之夭夭，灼灼其华。之子于归，宜其室家

D. 七月在野，八月在宇。九月在户，十月蟋蟀，入我床下

13. 火山是一种常见的地质现象，分为“死火山”、“休眠火山”和“活火山”三类，主要分布在环太平洋、地中海、大西洋海岭、东非裂谷带等 4 个火山带上。其中，活火山数量最多的是（ ）火山带。

A. 环太平洋

B. 地中海

C. 大西洋海岭

D. 东非裂谷带

14. 下列关于生活中的化学常识，说法正确的是（ ）。

A. 现在，方便的小包装食品已被广泛接受，为了防止中秋月饼等高脂食品氧化变质，延长食品的保质期，在包装袋中常常放入生石灰

B. 现在用的清洁燃料主要有两类：一类是压缩天然气，另一类是液化石油气，它们属于碳氢化合物

C. 福尔马林是一种良好的杀毒剂，可用于消毒自来水

D. 为保证加酶洗衣粉的洗涤效果，应先在 60 摄氏度以上的热水中溶解洗衣粉

15. “上午忙麦茬，下午摘棉花”是民间描述寒露时节农事活动的谚语。在下列地区中，该谚语描述的农事活动场景最可能出现在（ ）。

- A. 珠江三角洲
- B. 柴达木盆地
- C. 藏南谷地
- D. 渭河平原

16. 调查研究发现，内蒙古东部某农牧交错区（ $43^{\circ}32'N$ — $44^{\circ}32'N$ ）居民点的密度，阴坡大于阳坡。其合理的解释是阴坡冬半年（ ）。

- A. 冻融作用影响小，房屋地基较稳定
- B. 正好地处背风坡，利于抵御强寒潮
- C. 积雪较厚，便于牲畜和冬小麦越冬
- D. 采光更为充分，利于居民照明取暖

17. 下列物理常识，以下说法错误的是（ ）。

- A. 在保温瓶灌水时不灌满能更好保温
- B. 高压锅是利用水的沸点随气压增大而升高的原理制成的
- C. 刀刃很薄是为了增大切菜时的压力
- D. 烧水或煮食时产生的水汽比热水、热汤烫伤更严重

18. 如果把一枚一角硬币轻轻放在平静的水面上，硬币有可能漂浮在水面。以下能合理解释这个现象的是（ ）。

- A. 硬币比水密度小，因此能浮在水面上
- B. 硬币和水之间存在引力，因此掉不下去
- C. 水的浮力克服了硬币受到的重力，使硬币浮在水面上
- D. 水的表面张力克服了硬币受到的重力，使硬币浮在水面上

19. 植物的器官可分为营养器官和生殖器官。其中，营养器官通常指（ ）等器官。其基本功能是维持植物生命。但在某些状况之下，这些营养器官可能成为繁衍的亲本。由这些器官生长出新的个体。

- A. 花
- B. 根
- C. 果实
- D. 种子

20. 在智能手机的配置中，“ROM”指的是（ ）。

- A. 闪存
- B. 运行内存
- C. 只读内存
- D. 随机存储内存

第一部分结束，请继续做第二部分!

第二部分 言语理解与表达

本部分包括表达与理解两方面的内容。请根据题目要求，在四个选项中选出一个最恰当的答案。

请开始答题：

21. 中国游客境内外消费热度的差异，是对不同消费环境综合评价后做出的自然选择。而在不同的消费环境的背后，_____出的是境内消费在各个链条存在的问题。

- A. 表现
- B. 演示
- C. 反射
- D. 折射

22. 当今世界科技突飞猛进，我们更要勇于开拓，不断进取，如果_____，就会落后甚至被时代潮流所淘汰。

填入划横线部分的词语最恰当的一项是：

- A. 革故鼎新
- B. 墨守成规
- C. 故步自封
- D. 抱残守缺

23. 回顾历史，_____东方文化与西方文化的渊源，打破西方文化等同于现代文化的逻辑，将西方文化_____为一个地域性文化，有助于我们今天确立文化自信。

依次填入划横线部分的词语最恰当的一项是：

- A. 明白 看作
- B. 了解 贬抑
- C. 熟悉 回归
- D. 明晰 还原

24. 家庭是社会生产和生活的一个基本单位，家庭收入和支出的_____，是反映家庭经济水平的一个重要_____。

依次填入划横线部分的词语最恰当的一项是：

- A. 数量 原则
- B. 模式 指标
- C. 渠道 尺度
- D. 状况 动向

25. 要最大程度地_____网络谣言，一方面要依赖法治力量，另一方面也需要网民尤

神经元之间的关系就会发生改变，这种关系的变化使得该系统对某些特定数据形成反应机制，从而让系统具备学习能力，并且能够在新输入的数据中找出与学到的概念相对应的部分，以达到识别的效果。

这段文字重在说明：

- A. 谷歌虚拟大脑与人脑的相似性
- B. 谷歌虚拟大脑具备学习能力的原理
- C. 谷歌虚拟大脑的内在构造极为复杂
- D. 谷歌虚拟大脑体现了高超的科技水平

32. 荆浩曾经在他的《笔记法》中记载了在太行洪谷（净影峡谷）之中写生的情形：太行山洪谷深处，风景引人入胜，古松“挂岸盘溪”，山崖“披苔裂石”，使他兴奋不已，忍不住每日携带纸笔置身其中，尽情地描摹写生，达到“凡数万本，方如其真”，可见：_____。

填在划线处衔接最恰当的是：

- A. 荆浩对大自然的感情和师法造化的态度
- B. 荆浩对这个仙境般的天然画廊的挚爱
- C. 太行洪谷是绘画写生的绝佳去处
- D. 太行洪谷自古风光迤邐、气韵雄浑

33. 山东聊城杨氏海源阁与江苏常熟瞿氏铁琴铜剑楼齐名，有“南瞿北杨”之誉。瞿氏世居江南人文荟萃之地，占尽地利，收聚满坑满谷，但其家仅是当地富户，子孙多未出仕；而杨家虽在北方，既富拥资财，父子又均为进士出身，跻身官宦，学邃见广，有眼光善鉴别，并利用为官之便，将各地收聚之书輦运回故里度藏。

这段文字旨在说明：

- A. 江南人文荟萃更适于藏书
- B. 山东聊城杨氏富甲一方甚于江苏常熟瞿氏
- C. 山东聊城杨氏海源阁藏书更优
- D. “南瞿北杨”藏书俱丰难分伯仲

34. 自 1655 年有数据记录以来，长城的国际知名度出现了 4 次峰值。第一次是在 1657 至 1662 年间，正值清顺治帝驾崩传位于年幼的康熙帝期间；第二次在 1735 至 1740 年，恰逢雍正辞世，乾隆继位期间；第三次出现在 1795 至 1800 年间，是嘉庆接替乾隆称帝期间；第四次在 20 世纪 30 年代，是日军侵华战争爆发时期。

由以上统计材料可推出中国文化遗产的国际知名度：

- A. 与各国文化交流有关
- B. 与皇族权利更替有关
- C. 与世界性的战争有关
- D. 与国家政治命运有关

35.经济持续快速发展，社会信任度却在下降，人们对衣食住行等各个环节的担忧也在增加。这样自然会产生一种不安全感，即使工资涨了，生活更富裕了，可能也不会感到幸福。而且，信任感的缺失，无疑会增加社会的运行成本和管理难度。何况，事事怀疑往往导致既不相信假的和片面的，也不会相信真的有时候还会出现不信真话而误信谣言的状况，引发不必要的恐慌。

这段文字最有可能选自下列哪种文稿？

- A. 新闻报道
- B. 时事评论
- C. 调查报告
- D. 工作总结

36.作为静态、共识、抽象化的符号系统，语言是公民之间交流的公共媒介，而语言主体对语言的自由组合和自主运用则显现着鲜明的动态性、具体性和个人性。语言是闪烁着个人无可复制的人文情采的，因此，活力汉语更关注语言主体的“言语个性”而不是“语言共性”。

上述文字的关键词是：

- A. 符号系统
- B. 人文情采
- C. 活力汉语
- D. 语言共性

37. 古人有忌在太岁头上动土的说法，由此看来，太岁似乎是一个不敢轻惹的凶神。其实，“太岁”源出古天文学，是为适应天干地支记时法的需要而假想出来的虚体，又称苍龙、太阴。它每 12 年一循环，与甲乙丙丁戊己庚辛壬癸相配。后来，道教吸收了太岁的概念，把 60 甲子神话化，变成 60 位太岁神每位各值一岁，由于迷信，人们在本命年特别小心，怕惹恼了该年的值年太岁。

最适于做上述材料标题的是：

- A. “太岁”的来历

- B. “太岁”的古称
- C. “太岁”的演化
- D. “太岁”的禁忌

38. 人们常常进行理性计算：我的钱有限，要么出去玩，要么买东西。如果出去玩，是很不错，但很快就结束了；如果买东西，却可以永远拥有它。这在事实上是正确的，但在心理层面却未必，因为东西一旦买到手，我们很快就会对自己拥有的物质财富习以为常。另一方面，旅行虽然很快结束了，却可以经常与他人共享这一经历。这种分享不但能与他人保持更广泛的联系，还有利于形成认同感，进而满足我们更多潜在的心理需求。

以上材料所要论述的观点是：

- A. 花钱买经历比花钱买物质产品能带来更持久的价值
- B. 满足心理需求比满足物质需要更重要
- C. 金钱买不来幸福
- D. 丰富的经历让我们的人生更充实

39. 木桶定律是讲一只水桶能装多少水取决于它最短的那块木板。一只木桶想盛满水，必须每块木板都一样平齐且无破损，如果这只桶的木板中有一块不齐或者某块木板下面有破洞，这只桶就无法盛油水。一只木桶能盛多少水，并不取决于最长的那块木板，而是取决于最短的那块木板。也可称为短板效应。

下列不属于木桶定律给我们的启示的是：

- A. 要扬长避短，而不是扬长补短
- B. 改变木桶结构可增加储水量
- C. 通过激励让“短木板”变长
- D. 别让“短板”葬送自己

40. 徽商，是指以乡族关系为纽带所结成的徽州商人群体，又称新安商人。徽州人经商的历史非常悠久，早在东晋时期就有新安商人活动的记载，此后代有发展，弦歌不绝。明朝成化、弘治年间，徽州商人的经济实力逐渐增强，规模日益庞大，形成徽州商帮，其商业资本之巨，从商人数之众、活动区域之广、经营行业之多、经营能力之强，都是其他商帮所无法匹敌的，其强盛势头一直持续到清朝中叶，引领中国商业发展潮流 300 余年，对当时的社会经济、政治、文化等方面产生了深远影响。

对这段文字理解最准确的是：

- A. 徽商又称新安商人

- B. 徽商历史悠久，影响深远
- C. 徽商产生于东晋时期
- D. 徽商引领中国商业发展潮流 300 余年

41.八公山豆腐开始于 2000 多年前，淮南王刘安是其创始人。刘安招养才俊之士云集古都寿春，在八公山上纵论天下兴亡，求治世良方和炼丹制药。刘安等在炼丹时，偶然将石膏点入丹母液即豆浆之中，经化学变化成了豆腐。豆腐从此问世。刘安使人成立豆腐生产作坊，培养豆腐专业生产人员，在生产操作的过程中，逐步完善生产设备，改进生产技术，提高豆腐质量。

对这段话，理解不准确的是：

- A. 刘安是豆腐的创始人
- B. 豆腐距今有 2000 多年的历史
- C. 研究表明，常食用豆腐有益于身体健康
- D. 八公山豆腐因刘安在八公山招养才俊炼丹制药而得名

42.调查结果显示，环保意识越高的地区的公众，环保行为的参与度也越积极，但环保意识满意度却呈相反关系，即环保意识越高，环保满意度却越低。

这段话主要支持了这样一种观点，即：

- A. 环保意识越高的公众看环保问题的眼光越强
- B. 环保意识越高的公众对环保质量要求也高
- C. 环保质量总是落后于公众的环保要求
- D. 环保质量是一个永不能得到公众满意的话题

43.“法之必行”的真正动力来自哪里?有人说靠监督，有人说靠激励，也有人寄希望于惩戒，这些都不无道理，但还有一点往往被人忽视，那就是法治精神的作用。常见媒体有这样的报道，一些考试尽管监考人员众多，监考规则严格，技术手段先进，却依然难以杜绝各种作弊行为。所谓“破山中贼易，破心中贼难”，如果规则活在心中，自然会有“不逾矩”的行动约束。

以上文字意在强调：

- A. “法之必行”可有多种动力来源
- B. 法治精神是民众守法的内在动力
- C. 规则本身并不能杜绝违规行为
- D. 法治精神是活在人们心中的规则

44.面对繁忙的交通，我们总觉得是无序的。一旦拨云见日，会发现在“混乱”之下依然存在着群体协作。每一辆车都有其目标，每一个驾驶员都努力避免交通事故，这是个体行为；在路上行驶时，汽车首尾相接，车距狭小但并不碰撞，车距加大时就加速，车距小时就减速，这就是群体协作。如果拒绝协作，马路将会成为废铜烂铁的堆积地。有趣的是，这并不是交警指挥的结果，而是每一位驾驶员追求自身目标后的无意结果。

这段文字意在强调：

- A. 个体行为是群体协作的基础
- B. 个体行为与群体协作并不矛盾
- C. 群体协作是人类社会生活中非常重要的因素
- D. 群体协作是个体实现目标时自然体现的结果

45. 冬日饮茶，自带几分禅意。窗外寒风呼啸，窗前水沸炉暖，茶香因为寒冷的映衬愈发清冽，直抵心源。有人说若要体会冬天的妙处，必经时间的淘洗与打磨，如同体会茶气一般，必要走过高山与峡谷，看尽湖泊与激流，从盼望“_____”到“快日明窗闲试墨，寒泉古鼎自煎茶”酒茶之间，岁月酿出的酒香，日子氤氲着茶气。平淡天真里，是静穆，是微笑，是禅意在吹拂。

填入画横线部分，最恰当的一项是：

- A. 寒夜客来茶当酒，竹炉汤沸火初红
- B. 晚来天欲雪，能饮一杯无
- C. 一曲新词一杯，去年天气旧亭台
- D. 东篱把酒黄昏后有暗香盈袖

46.在中国文化的剧烈冲击下，佛教如果不能适应现实情况，必然不能在中国立定脚跟，于是佛教只能做出某一些伪装，以求得生存。早期佛典中有些地方特别强调“孝”字，就是歪曲原文含义以适应中国具有浓厚纲纪色彩文化的要求。

对这段文字的主要意思概括最恰当的是：

- A. 佛教是一个适应性很强的宗教
- B. 孝是佛典发展过程中衍生出来的要义之一
- C. 佛学受中国传统文化传承中影响较深
- D. 传统文化的力量，迫使佛教在传播中采取了变通策略

47.煤炭是我国最丰富、最基础、最可靠的能源资源。通过技术进步提高煤炭的利用效率是实现煤炭清洁化利用的基本方法。我国很早就已经重视并开始研究煤炭的清洁利用，但

是效果却不尽如人意。二十年的洁净煤技术的应用，却并没有从根本上改变我国煤炭的粗放式开发和利用的总体局面。而其中的原因便在于各自为政，缺乏国家层面的煤炭清洁高效利用的协调机制。

这段文字意在强调：

A. 要实现煤炭资源的高效清洁利用，国家层面的煤炭清洁生产和高效利用协调机制必不可少

B. 我国应加大资金与人才的投入，提升煤炭科技的创新能力

C. 洁净煤技术对于我国煤炭的粗放式开发和利用没有发挥作用

D. 我国要实现煤炭清洁化利用仍存在许多困难

48. 中国制茶历史悠久，自发现野生茶树起，从生煮羹饮，到饼茶散茶，从绿茶到多茶类，从手工操作到机械化制茶，期间经历了复杂的变革。各种茶类的品质特征的形成，除了茶树品种和鲜叶原料的影响外，加工条件和制造方法是重要的决定因素。

根据上述文段，作者接下来最可能介绍的是：

A. 中国茶的饮法

B. 茶叶的贸易历史

C. 中国饮茶习俗的演变

D. 中国制茶史

49. ①因为这正是苍老的表现

②也可以解读为一种潜意识的自我催眠

③我们就是这样甘于幼稚、甘于小众、甘于非主流

④但这恰恰也是《小猪佩奇》的粉丝们所追求的效果

⑤小猪佩奇的流行可以解读为一种无意识的跟风

⑥在成年人的世界或者说在一个主流社会中，“小猪佩奇文身”“小猪佩奇手表”注定只能是朵小小的浪花

将上述句子组成语意连贯的语段排序最恰当的一项是：

A. ③①②⑥⑤④

B. ⑥④③①⑤②

C. ④③①②⑥⑤

D. ⑥④⑤①②③

50. 将以下 6 个句子重新排列，语序正确的是：

- ①在这里，人们已经从浮躁的、高速的城市发展中沉淀下来，希望获得内在的平衡
- ②二十多年以来，从外表上看，那里的变化并不是非常巨大
- ③整个城市显得平和恬静
- ④每年，我仍旧有机会飞往硅谷，参加各种年会
- ⑤包括节能减排的新举措
- ⑥但是生活在那里的人正在源源不断地为它注入各种生机

- A. ④②⑥⑤①③ B. ②④⑤⑥①③
- C. ④②①③⑤⑥ D. ②④①③⑥⑤

第二部分结束，请继续做第三部分!

第三部分 数量关系

在这部分试题中，每道题呈现一段表述数字关系的文字，要求你迅速、准确地计算出答案。

请开始答题：

51. 甲乙合作完成一项工作，由于配合得好，甲的工作效率比单独做时提高 $\frac{1}{10}$ ，乙的工作效率比单独做时提高 $\frac{1}{5}$ ，甲乙合作 6 小时完成了这项工作。如果甲单独做需要 11 小时，那么乙单独做需要几小时？（ ）

- A. 13
- B. 16
- C. 18
- D. 20

52. 某代表队参加文艺会演的共 78 人，其中女生人数的 $\frac{4}{5}$ 是男生人数的 $\frac{1}{2}$ ，那么参加演出的女生人数为多少人？（ ）

- A. 30
- B. 33
- C. 36
- D. 38

53. 某班有 50 人，其中有 42 人会打乒乓球，40 人会打篮球，38 人会打排球，35 人会

打羽毛球，则这个班至少有多少人这四项球类都会打？（ ）

- A. 2
- B. 3
- C. 4
- D. 5

54. 一个数的 20 倍减去 1 能被 153 整除，这样的自然数中最小的是：（ ）

- A. 31
- B. 29
- C. 23
- D. 18

55. 平面上有 99 条直线，这些直线最多有多少交点？（ ）

- A. 1198
- B. 2297
- C. 3596
- D. 4851

56. 甲乙在银行存款共 9600 元，如果两人取走各自存款的 40%，然后甲再从存款中转账 120 元给乙，这时两人存款数相等。那么甲的原存款为多少元？（ ）

- A. 3500
- B. 3900
- C. 4200
- D. 5000

57. 某单位准备在一条小路的两边栽树。已知该小路长 40 米，在路的两边每隔 4 米栽一棵树，那么小路的两边一共要栽树（ ）棵。

- A. 10
- B. 11
- C. 20
- D. 22

58. 小张因为太久没有登录某网站了，故忘记了该网站登录密码的最后两位数字，只记得其中有一位是 4，则他最多要试（ ）次才能保证把密码输入正确。

- A. 16

B. 17

C. 19

D. 21

59. 甲乙二人协商共同投资，甲从乙处取了 9000 元，并以两人名义进行了 15000 元的投资，但由于决策失误，只收回 6000 元。甲由于过失在己，愿意主动承担 $\frac{2}{3}$ 的损失。问收回的投资中，乙将分得多少钱？（ ）

A. 2000 元

B. 3000 元

C. 4000 元

D. 6000 元

60. 一个立方体随意翻动，每次翻动朝上一面的颜色与翻动前都不同，那么这个立方体的颜色至少有多少种？（ ）

A. 3

B. 4

C. 5

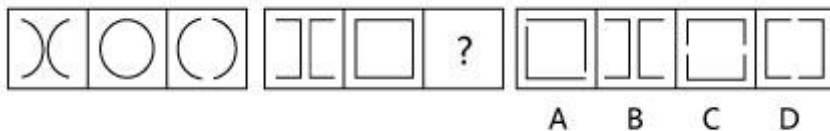
D. 6

第三部分结束，请继续做第四部分！

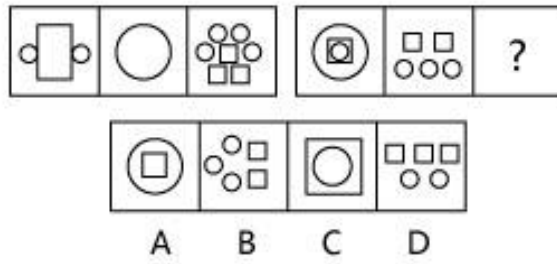
第四部分 判断推理

请按每道题的答题要求作答。

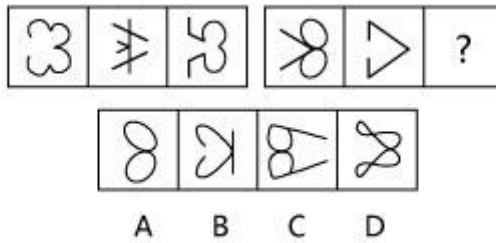
61. 从所给的四个选项，选择最合适的一个填在问号处，使之呈现一定的规律性（ ）。



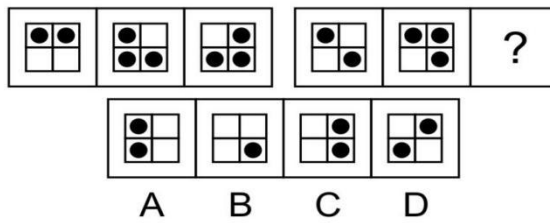
62. 从所给的四个选项，选择最合适的一个填在问号处，使之呈现一定的规律性（ ）。



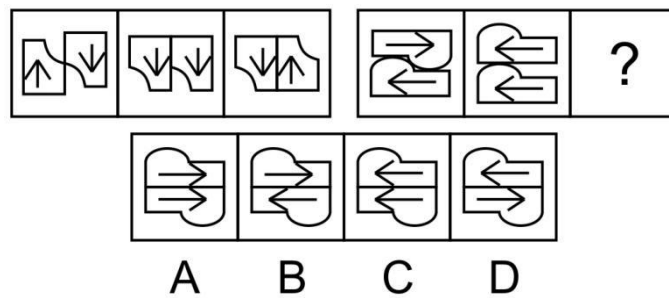
63. 从所给的四个选项, 选择最合适的一个填在问号处, 使之呈现一定的规律性()。



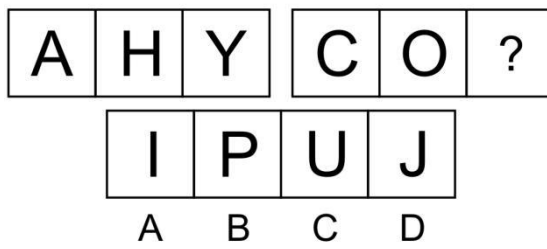
64. 从所给的四个选项, 选择最合适的一个填在问号处, 使之呈现一定的规律性()。



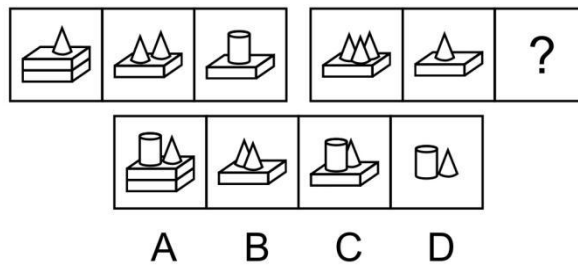
65. 从所给的四个选项, 选择最合适的一个填在问号处, 使之呈现一定的规律性()。



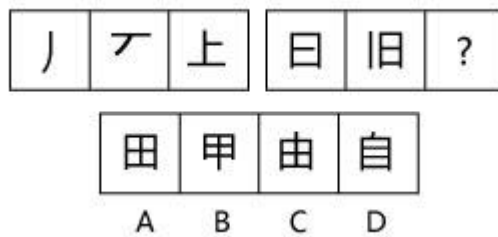
66. 从所给的四个选项, 选择最合适的一个填在问号处, 使之呈现一定的规律性()。



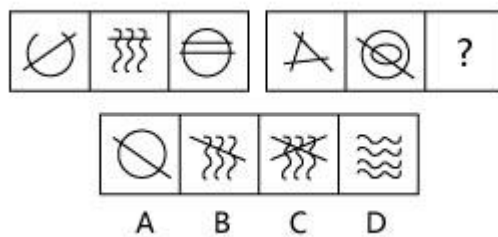
67. 从所给的四个选项, 选择最合适的一个填在问号处, 使之呈现一定的规律性 ()。



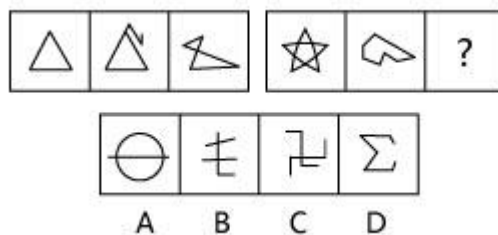
68. 从所给的四个选项, 选择最合适的一个填在问号处, 使之呈现一定的规律性 ()。




69. 从所给的四个选项, 选择最合适的一个填在问号处, 使之呈现一定的规律性 ()。



70. 从所给的四个选项, 选择最合适的一个填在问号处, 使之呈现一定的规律性 ()。



71. 从所给的四个选项, 选择最合适的一个填在问号处, 使之呈现一定的规律性 ()。



72. 眉清目秀: 明眸皓齿

- A. 江河日下: 如日方升 B. 对牛弹琴: 有的放矢
C. 螳臂当车: 高屋建瓴 D. 身先士卒: 一马当先

73. 青菜: 蔬菜: 绿色植物

- A. 空调: 电器: 电脑 B. 《送杨氏女》: 唐诗: 五律
C. 电动车: 自行车: 汽车 D. 曲艺: 豫剧: 杂技

74. 浅尝辄止: 追根究底

- A. 韬光养晦: 暗渡陈仓 B. 滥竽充数: 货真价实
C. 醍醐灌顶: 振聋发聩 D. 越俎代庖: 垂帘听政

75. 知识: 丰富

- A. 土地: 贫瘠 B. 战争: 死亡
C. 政策: 落实 D. 动听: 音乐

76. 推卸: 推脱

- A. 僭越: 覬觐 B. 巡礼: 巡视
C. 直观: 直觉 D. 卸任: 离任

77. 手机: 电脑: 电子产品

- A. 竹筒: 纸张: 书籍 B. 沙发: 电视: 家具
C. 钢琴: 琵琶: 乐器 D. 浮雕: 楼房: 建筑

78. 新闻对于()正如()对于素描

- A. 电视 展览馆 B. 时政播报 绘画
C. 网络 纸张 D. 传播 收藏

79. 从容对于() 正如坚韧对于()。

- A. 镇定自若: 百折不回 B. 措手不及: 千锤百炼

C. 平易近人：九死一生 D. 怡然自乐：一蹶不振

80. 游戏：听歌：娱乐

A. 跳绳：拔河：运动 B. 休息：工作：放松

C. 吃饭：喝酒：健康 D. 兜风：散步：旅行

81.“堪培拉”对于（ ）相当于（ ）对于“美国”。

A. 澳大利亚：华盛顿 B. 悉尼：纽约

C. 澳洲：拉丁美洲 D. 南半球：北半球

82. 货币性资产，是指持有的现金及将以固定或可确定金额的货币收取的资产，包括现金、应收账款和应收票据以及准备持有至到期的债券等。根据上述定义，下列属于货币性资产的是()。

A. 某服装厂的库存货物

B. 某汽车公司用于出租的车辆

C. 某通信企业旗下手机品牌的商标权

D. 某化工集团按照国家规定获得的技术补贴

83. 替代性攻击，是指遭受挫折后由于无法直接向制造挫折的源头表达愤怒或不满，而将怒气发泄到另外的“替罪羊”身上，“替罪羊”往往处于相对较弱的地位。

根据上述定义，下列不属于替代性攻击的是()。

A. 甲在工作中被老板责备，心怀不满，回家后因为一件小事责骂儿子

B. 乙和邻居发生冲突时被迫忍气吞声，后趁天黑将邻居家的汽车车胎扎漏

C. 丙从树下路过时被从天而降的鸟粪砸中，生气的他轰走了上来乞食的流浪猫

D. 丁上课时受到老师批评，心中憋闷，下课后在学校超市把货架上的方便面全部捏碎

84. 旁观者效应，是指在紧急情况时由于有他人在场而没有对受害者提供帮助的情况，在紧急事件中由于有他人在场而产生的对救助行为的抑制作用，旁观者人数越多，抑制程度越高。

根据上述定义，下列体现了旁观者效应的是()。

A. 某大楼不慎发生了火灾，附近的居民在拨打 119 报警后，都站在边上围观，无人上前灭

B. 老师在课堂上提了一个不算难的问题，但是所有同学都低着头，没有一个人举手回答问题

C. 一个很干净的地方，人们不好意思丢垃圾，但是一旦地上有垃圾出现之后，人们就会毫不犹豫地跟着往地上丢垃圾，丝毫不觉得羞愧

D. 某女子不慎被车撞倒了，肇事司机逃离了现场，很多路过的行人围观了这一事件的发生，但却无人送女子去医院，也无人报警

85. 乘人之危是指行为人利用对方当事人的急迫需要或为难处境，迫使其作出违背本意而接受对其非常不利的条件的意思表示。

根据上述定义，下列情形不属于乘人之危的是（ ）。

- A. 巩某母亲病重，向张某借款，张某便要巩某以嫁给他作为交换条件，巩某无奈答应
- B. 某公司经理得知秘书李某家人有困难，急需大笔资金，便慷慨解囊，以自己积蓄帮助李某家人渡过难关
- C. 徐某家境困难，妹妹病重无钱救治，向秦某借钱，秦某便以年利息 100%为条件，徐某无奈允诺
- D. 陈某在工作中被人陷害而遭众人误会，唯一证人要求陈某以付巨款及透露商业秘密作为帮他出庭作证的交换条件，陈某不得已答应

86. 歧视，指的是人对人就某个缺陷、缺点、能力、出身以不平等的眼光对待，使之得到不同程度的损失，多带贬义色彩，属于外界因素引发的一种人格扭曲，根据上述定义，下列不属于歧视的是（ ）。

- A. 钱某出身贫寒，被同事排挤
- B. 因为是残疾人，赵某经常被周围的同学笑话
- C. 张某总是欺负周围的孩子，他的父母被迫搬了几次家
- D. 由于李某是女性，其应聘多加 IT 企业被拒之门外

87. 鸡尾酒会效应是指人的一种听力选择能力，这种情况下，注意力集中在某一个人的谈话之中而忽略背景中其他的对话或噪音。

根据上述定义，下列属于鸡尾酒会效应的是（ ）。

- A. 某课堂上，虽然外面大雨瓢泼，打雷闪电，但所有学生都专注听讲，没有注意到天气情况变化
- B. 在一次聚会上，李浩对今年未见的朋友侃侃而谈，一个话题接一个话题
- C. 当婚礼进行曲响起来时，所有来宾的注意力都集中到红毯上的新郎和新娘身上
- D. 很少有人注意到某电视剧中孙俪是“依萍”的一个伴舞

88. 社交恐惧症以过分或不合理地惧怕外界某种客观事物或情境为主要表现，患者明知这种恐惧反应是过分的或不合理地，但仍反复出现，难以控制。

根据上述定义，下列属于社交恐惧症的是（ ）。

-
- A. 小花春节放假就一直宅在家里，父母叫他去走亲戚，她说觉得繁琐，一点都不想去
- B. 小红害怕与同学接触，觉得在别人眼中自己是一个“怪人”，尽管她也尝试用理智说服自己但依然无效
- C. 小明每到节假日就喜欢一个人呆在房间玩游戏，他觉得玩游戏比出去人挤人舒服多了
- D. 小李一直想买车，因为觉得地铁人太多了，每天挤地铁很累

89. 农产品补贴通常是指一国政府对本国的农业生产商或者经营者提供资金或财政上的支持，包括现金补贴、价格支持或其他政策优惠待遇，使其农产品在国际、国内市场上与未受补贴的同类产品相比获得竞争优势。

根据上述定义，下列属于农产品补贴的是（ ）。

- A. 某地由于过度放牧导致草场退化，当地政府因此给当地牧民发放补贴，并请他们减少牛羊的饲养量，这使得市场上的牛羊的价格上涨
- B. 某地农贸市场经营者的摊位租金过高，当地政府据此推出减免措施，并发放金额不等的补贴
- C. 某国政府先用高价格购买农民种植的水稻，再低价卖出，以此激励农民种植水稻，该国某企业将水稻作为主要饲料繁殖肉鸡，再大量出口到其他国家
- D. 某国政府为农民和小麦研究所牵线搭桥，使该国农民种植出了新品种的小麦，使小麦的质量产量上升到一个新台阶，出口价格得到了提高

90. 纯公共物品是具有完全的非竞争性和完全的非排他性的物品。而准公共物品是指具有有限的非竞争性和非排他性的物品。准公共物品具有一定程度的拥挤性，即当准公共物品的消费者人数增加到一定程度的时，会出现拥挤而产生的消费竞争。

根据上述定义，下列属于准公共物品的是（ ）。

- A. 太空探索 B. 警察 C. 供水系统 D. 外交

91. 内镜手术血肿清除效果好，爆发性脑损伤轻，有利于患者术后恢复，但其手术范围小，视野窄，只用一种器械在内镜通道下操作，无论对手术者，还是对医疗设备和器械都要求极高，若术中碰到太大出血则难以止血。尽管如此，某医院坚持使用该手术治疗高血压脑出血，以下能够解释该医院做法的是（ ）。

- A. 内镜手术治疗高血压脑出血是通过神经内窥镜结合导航和 B 超引导进行血肿清除
- B. 该医院的技术水平已经完全能够达到内镜手术的治疗要求
- C. 调查发现，在半年期间，内镜手术的死亡率为 40%

D. 内镜手术的费用昂贵，难以推广普及

92. 研究团队对位于高纬度和低纬度国家的果蝇在升温过程中的表现进行观察分析，结果发现，如果果蝇未成年阶段受到升温影响，它们成年后繁殖能力被削弱的可能性会显著增加，即使温度仅有缓和上升，也会影响它们的繁殖能力。研究人员还发现，升温对果蝇繁殖能力的影响程度还与它们所在地域相关。研究人员认为，上述结果有很高的概率也适用于其他其他昆虫，这意味着高纬度国家生活的昆虫在气候变化面前更加脆弱。它们的种群数量可能会下降。

如果以下哪个选项（ ）为真，最能削弱上述结论。

A. 生活在高纬度国家的果蝇比生活在低纬度国家的果蝇繁殖能力低

B. 赤道附近的昆虫繁殖能力要比两极附近的昆虫繁殖能力强

C. 生活在高纬度国家的果蝇与生活在低纬度国家的果蝇基因存在很大差异

D. 未成年的果蝇对外界环境的变化比较敏感

93. 一项对 3.7 万名年龄在 49 至 75 岁之间的某国男性进行的跟踪调查发现，10 年中，这些男性有近 2000 人得过中风，那些经常食用巧克力的受调查者与少量食用甚至不食用巧克力的人相比，患中风的风险要低不少。研究人员推测，经常食用巧克力可降低中风风险。以下哪项如果为真，最能支持研究人员的推测?()

A. 研究发现，经常食用巧克力可调节低糖患者体内的血糖含量

B. 研究人员对女性的类似调查结果与上述研究结果基本一致

C. 巧克力中含有黄酮类化合物，而黄酮类化合物具有预防中风的功效

D. 在此项调查中，得过中风的男性患者中部分人有经常食用巧克力的习惯

94. 全球气候变暖给人类带来诸多影响的同时也影响着地球上的其他生物，降水的增加可以改善植被，从而有利于鼠类的增长。研究表明，降水的增加使原本干旱的内蒙古地区植物更加丰富，也增加了鼠类的食物，长爪沙鼠数量随之增加。以下哪项如果为真，最能削弱上述论断? ()

A. 据统计，一些地区的植被覆盖率并没有增加

B. 据测算，全球沙漠化面积近年有所增加

C. 内蒙古地区植被的增加和近年的生态保护有很大关系

D. 植被的增加使各种动物包括鼠类的天敌都增加了

95. 考古人员在挖掘周口店“北京人”遗址时发现火塘、原地烧土等古人类用火遗物，故而推测“北京人”已经开始学会用火。对此，部分西方学者质疑称发现的用火区沉积物可能

是自然山火造成的。以下哪项如果为真，最能反驳上述质疑?()

- A. 发现的沉积物经历了再搬运，并非在原地用火区堆积
- B. 沉积物经历了 700°C 以上的加热，而自然山火一般无法达到如此高的温度
- C. 通过对沉积物进行检验，分析测试出灰烬中有硅质体存在
- D. 遗址出土的近 4000 件石制品中有少量燧石

96. 向河道内排放化学物质的许可证是以每天可向河道中排放多少磅各种化学物质的形式来颁发的。通过对各种化学物质单独计算来颁发许可证，这些许可证所需的数据是基于对化学物质的效果的估计。因此河道在许可证的保护之下，可以免受排放到它里面的化学物质所产生的不良影响。

以下哪项是上述结论所基于的假设?()

- A. 相对无害的化学物质在水中不相互反应形成有害的化合物
- B. 河道内的水流动得很快，能够保证排放到河道的化学物质快速地散开
- C. 没有完全禁止向河道内排放化学物质
- D. 那些持有许可证的人通常不会向河道内排放达到许可证所允许的最大量的化学物质

97. 大学生利用假期当保姆已不再是新鲜事。一项调查显示，63% 的被调查者赞成大学生当保姆，但是，当被问到自己家里是否会请大学生保姆时，却有近 60% 的人表示不会。

以下哪项如果为真，能够合理地解释上述看似矛盾的现象?()

- A. 调查中有 62% 的人表示只愿意付给大学生保姆 800-1000 元的月薪
- B. 不赞成大学生当保姆的人，大部分认为学生兼职应该选择和自己专业相关的工作
- C. 赞成大学生当保姆的人中，有 70% 的人愿意让大学生当家教，只有 30% 的人愿意让大学生从事家务劳动

D. 赞成大学生当保姆的人中，有 69% 的人认为做家政工作对大学生自身有益，只有 31% 的人认为大学生保姆能提供更好的家政服务

98. 中医认为，肝开窍于目，肝血不足会导致视物模糊甚至夜盲。因此，夜盲的人普遍肝血不足。上述文字推理形式相同的是()。

- A. 双语实验学校的毕业生口语能力很强，小王的口语能力很强，所以小王是双语实验学校毕业的
- B. 落后就要挨打，近代中国就是因为闭关锁国，综合国力落后于西方国家，才最终遭受了西方列强的炮火
- C. 中国公民有依照法律纳税的义务，未依法纳税的公民要接受法律的制裁

D. 真理掌握在少数人手中，因此，众所周知的道理不是真理

99. 村长在一次美丽乡村动员大会结束后宣布：“此次提出的关于村里垃圾处理的方案得到了认可，全体村民致通过了该方案。”会后，小张就此事进行了调查，发现村长说的并非事实。

如果小张的调查结果是真，以下哪项也必然为真？（ ）

- A. 全体村民都不同意通过该方案
- B. 部分村民同意通过该方案
- C. 有些村民同意通过该方案，有些村民反对通过该方案
- D. 有村民不同意通过该方案

100. 某年 A, B, C, D, E 城 5 座城市的游客量比往年偏多，这些城市分别有不同的地理环境和游客资源：险峻的高山、茂密的森林、平坦的草原、辽阔的大海和幽静的山谷。该年前往上述五座城市的游客量（人次/年）分别是：12 万、27 万、32 万、44 万、65 万。已知：

- (1) 草原中的城市对游客的吸引力最小，最受欢迎的旅游目的是森林、其次为大海
- (2) D 城在大山中，交通方便，但是来此旅游的人少
- (3) A 城的游客 D 城多
- (4) D 城的游客量是 44 万人次，创历史新高
- (5) 前往 B 城的游客比 E 城多但没有 C 城多

可以推出 E 城的特色旅游是（ ）

- A. 幽静的山谷
- B. 茂密的森林
- C. 平坦的草原
- D. 辽阔的大海

第四部分结束，请继续做第五部分！

第五部分 资料分析

所给出的图、表、文字或综合性资料均有若干个问题要你回答。你应根据资料提供的信息进行分析、比较、计算和判断处理。

请开始答题：

一、根据所给资料，回答下列问题。

根据国家统计局发布的相关数据显示，2018 年 1-10 月份，社会消费品零售总额 309834 亿元，同比增长 9.2%。其中，限额以上单位消费品零售额 117177 亿元，增长 6.6%。按经

营单位所在地分，10月份，城镇消费品零售额30601亿元，同比增长8.4%；乡村消费品零售额4934亿元，增长9.7%。1-10月份，城镇消费品零售额265318亿元，同比增长9.0%；乡村消费品零售额44516亿元，增长10.3%。

按消费类型分，10月份，餐饮收入4006亿元，同比增长8.8%；商品零售31528亿元，增长8.5%。1-10月份，餐饮收入33769亿元，同比增长9.6%；商品零售276064亿元，增长9.1%。

在商品零售中，10月份，限额以上单位商品零售11630亿元，同比增长3.6%。1-10月份，限额以上单位商品零售109637亿元，同比增长6.6%。2018年1-10月份，全国网上零售额70539亿元，同比增长25.5%。其中，实物商品网上零售额54141亿元，增长26.7%，占社会消费品零售总额的比重为17.5%；在实物商品网上零售额中，吃、穿和用类商品分别增长36.1%、22.5%和27.2%。

101.2017年1-10月份，我国社会消费品零售总额约为（ ）亿元。

- A.277578.8
- B.28145.3
- C.283730.8
- D.290211.3

102.2018年10月份，我国商品零售较餐饮收入（ ）亿元。

- A.多 27522
- B.少 27522
- C.多 27532
- D.少 27532

103.2018年10月份限额以上单位商品零售额约占同年1-10月份限额以上单位商品零售总额的（ ）。

- A.6.1%
- B.7.2%
- C.8.5%
- D.10.6%

104.2018年1-10月份，我国城镇消费品零售额约为乡村消费品零售额的（ ）倍。

- A.4
- B.5

C.6

D.7

105.根据材料，下列相关说法中不正确的一项是（ ）。

A.2018年1-10月份，限额以上单位消费品零售额的同比增长速度较社会消费品零售总额的同比增长速度慢

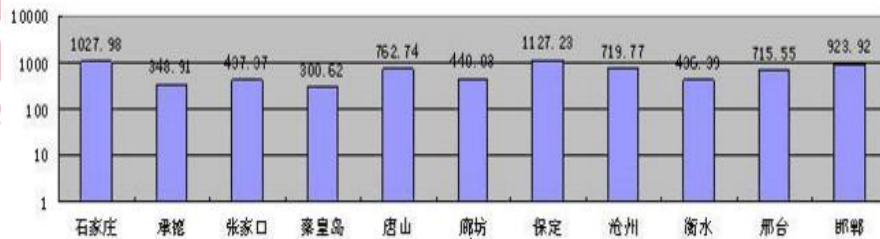
B.2018年10月份的城镇消费品零售额的同比增长速度较其1-10月的同比增长速度慢

C.2017年1-10月份，我国餐饮收入约为32811亿元

D.2018年1-10月份，在实物商品网上零售额中，吃、穿和用类商品均有不同程度的增长

二、根据所给资料，回答下列问题。

2015年河北省各市人口分布图（单位：万人）



| 城市 | 公共图书馆 (个) | 公共图书馆图书藏量 (千册) | 医院和卫生院 (个) | 医院和卫生院床位数 (张) | 医生数 (人) | 注册护士数 (人) |
|-----|-----------|----------------|------------|---------------|---------|-----------|
| 石家庄 | 8 | 3522 | 93 | 18640 | 12550 | 11079 |
| 承德 | 3 | 315 | 32 | 4470 | 2266 | 2254 |
| 张家口 | 2 | 754 | 40 | 5860 | 2817 | 2568 |
| 秦皇岛 | 2 | 605 | 55 | 6014 | 3642 | 3169 |
| 唐山 | 5 | 1235 | 144 | 17550 | 9309 | 10057 |
| 廊坊 | 2 | 1358 | 45 | 3813 | 2567 | 1953 |
| 保定 | 1 | 750 | 41 | 10385 | 4731 | 5131 |
| 沧州 | 1 | 270 | 14 | 5974 | 3281 | 3374 |
| 衡水 | 1 | 133 | 35 | 3575 | 2483 | 1623 |
| 邢台 | 1 | 365 | 52 | 6537 | 3387 | 3215 |
| 邯郸 | 4 | 615 | 92 | 12395 | 5759 | 5502 |

106. 2015年，石家庄市平均每人拥有公共图书馆图书多少册？

A. 0.3426

B. 3.426

C. 34.26

D. 342.6

107. 2015年，河北省各市的公共图书馆、注册护士、医院和卫生院数量均排在前五的市有几个？

A. 1

B. 2

C. 3

D. 4

108. 2015 年, 公共图书馆平均图书藏量大于 50 万册的城市有几个?

- A. 2
- B. 5
- C. 9
- D. 11

109. 2015 年, 河北省平均每个医院和卫生院的注册护士数量约为 ()

- A. 78 人
- B. 89 人
- C. 98 人
- D. 148 人

110. 2015 年, 河北省平均每个医院和卫生院医生数量约为 ()

- A. 64 人
- B. 82 人
- C. 97 人
- D. 148 人

三、根据所给资料, 回答下列问题。

2017 年 4 月份, 某省规模以上食品工业增加值同比增长 15.0%, 比全省规模工业平均水平高 9.4 个百分点。其中, 农副食品加工业增长 14.0%, 食品制造业增长 18.6%, 酒、饮料和精制茶制造业增长 13.9%。1—4 月, 规模以上食品工业产值累计增长 11.6%, 增幅比全省规模工业平均水平高 4.5 个百分点。

1—4 月, 该省规模以上食品工业主要产品有 52 种, 产量同比增加的有 41 种; 20 种产品产量增幅超过 10%。主要产品中, 果酒及配制酒同比增长 256.7%, 米制半成品增长 29.3%, 冷冻蔬菜增长 28.3%, 水产业增长 22.5%, 熟肉制品增长 20.3%, 酱油增长 17.9%, 成品糖增长 17.8%, 在减产的产品中, 汽水产量同比减少 73.1%, 冷冻水产品减少 47.3%, 饮料减少 6.0%。

1—3 月, 规模以上食品工业主营业务收入为 1070.37 亿元, 同比增长 13.8%, 实现利润总额 52.66 亿元, 增长 9.5%, 平均用工人数 39.7 万人, 增长 6.0%。资产总计 1836 亿元, 增长 7.2%。

111. 2017 年 4 月份, 该省规模工业产值平均水平同比增长: ()

- A. 5.6%
- B. 7.1%
- C. 16.1%
- D. 24.4%

112. 下列选项中, 2017 年 1-4 月该省产量增速最快的是: ()

- A. 熟肉制品
- B. 米制半成品
- C. 冷冻蔬菜
- D. 酱油

113. 2017 年 1-4 月, 该省规模以上食品工业主要产品品种中, 产量同比增加的品种约占: ()

- A. 38.5% B. 42.6%
C. 53.7% D. 78.8%

114. 2017年1-4月，该省规模以上食品工业主要产品中，果酒及配制酒业同比增速约为水产业的（ ）倍。

- A. 9.5 B. 10.2
C. 11.4 D. 12.6

115. 根据上述资料，下列说法中，正确的有（ ）个。

- (1) 2016年1-3月，该省规模以上食品工业主营业务收入约为940.57亿元
(2) 2017年1-4月，该省规模工业产值同比累计增长7.1%
(3) 2017年1-4月，该省规模以上食品工业主要产品中，冷冻水产品减产最多

- A. 0 B. 1
C. 2 D. 3

四、根据所给资料，回答下列问题。

| 2017年5月 邮电运输业主要业务量指标 | | | | |
|----------------------|-------------|---------------|--------------|--------------|
| 项 目 | 计量单位 | 2017年5月 | 同比增长 (%) | 增幅比上年同期提高 |
| 旅客运输总量 | 万人 | 5796.1 | -3.5 | 3.2 |
| 公路 | 万人 | 3916.1 | -8.4 | 1.4 |
| 铁路(旅客发送量) | 万人 | 1180.7 | 8.5 | 8.1 |
| 航空 | 万人 | 699.3 | 8.8 | 3.9 |
| 旅客周转量 | 亿人公里 | 165.3 | 9.7 | 6.1 |
| 公路 | 亿人公里 | 8.8 | -15.7 | -2.9 |
| 铁路 | 亿人公里 | 13.2 | 6.4 | 7.8 |
| 航空 | 亿人公里 | 143.3 | 12.1 | 6.3 |
| 货物运输总量 | 万吨 | 1873.1 | -10.8 | -10.4 |
| 公路 | 万吨 | 1801.1 | -11.1 | -12 |
| 铁路(货物发送量) | 万吨 | 57.3 | -4.7 | 26 |
| 航空 | 万吨 | 14.7 | 8.4 | 8.9 |
| 货物周转量 | 亿吨公里 | 38.9 | -1 | -3.5 |
| 公路 | 亿吨公里 | 14.2 | -6.3 | -6.8 |
| 铁路 | 亿吨公里 | 18.2 | -0.7 | -5.2 |
| 航空 | 亿吨公里 | 6.4 | 12.4 | 10.5 |

116. J省2016年5月旅客运输总量约为（ ）万人

- A. 5796.1 B. 6325.1
C. 6006.3 D. 5986.3

117. 2017年5月，J省航空货物周转量比上年同期约多（ ）亿吨公里。

- A. 0.64 B. 0.71
C. 1.28 D. 1.42

118.J 省 2017 年 5 月，航空旅客周转量约是公路旅客周转量的（ ）倍。

- A. 20.7 B. 10.9
C. 11.4 D. 16.3

119.J 省 2017 年 5 月铁路（旅客发送量）比 2015 年同期增长了约（ ）

- A.0.4% B.-0.4%
C.8.9% D.17.8%

120. 根据上述材料，下列说法正确的是（ ）

- A. J 省 2016 年 5 月公路、铁路（旅客发送量）、航空的旅客运输量中增速最快的为公路运输量
B. J 省 2017 年 5 月铁路货物周转量占全部货物周转量的比重比上年同期有所下降
C. J 省 2017 年 5 月航空货物运输总量占货物运输总量的比重比上年同期有所下降
D. J 省 2017 年 5 月公路旅客运输量约占旅客运输总量的六成以上

全部测验到此结束！



关注警校生小图，回复“密卷”获取试题解析