

2020年公安院校联考《行政职业能力测试》冲刺卷（一）

第一部分 常识判断

根据题目要求，在四个选项中选出一个最恰当的答案。

1. 价格变动会引起需求变动，在日常生活中，价格变动对需求影响较小的一组商品是：

- A. 蔬菜、米面、水果
- B. 电视机、食用油、冰箱
- C. 金银首饰，家用摄像机
- D. 电脑、轿车、新鲜海产品

2. 下列关于我国地方国家机关的说法中，正确的是：

- A. 县人民政府对县人民代表大会负责并报告工作
- B. 县政协是县人民政府的组成部门
- C. 县级人民政府可以制定地方行政规章
- D. 县民政局是县人民政府的直属机构

3. 下列历史人物与相关成语典故，对应正确的是：

- A. 魏征——兼听则明
- B. 项羽——一字千金
- C. 曹操——问鼎中原
- D. 赵高——纸上谈兵

4. 随着国家建设不断开创新高，一个个主题日出现在公众眼前。下列主题日按一年举办的先后顺序排列正确的一项是：

- ①中国品牌日
 - ②中国医师节
 - ③中国扶贫日
 - ④中国农民丰收节
- A. ②①④③
 - B. ②①③④
 - C. ①②④③
 - D. ①④②③

5. 交通运输部在收到某省交通运输厅询问公路养护部门性质的请示后，经与财政部，人力资源社会保障部，国家发展与改革委员会等部门研究，明确公路养护部门为事业单位性质，并正式答复该省交通运输厅，交通运输部应该采用的公文文种是：

- A. 批示
- B. 回复
- C. 通知
- D. 批复

6. 黄口、及笄、耄耋之年分别指的是：

- A. 十岁以下；女子十五岁；八九十岁
- B. 三四岁到八九岁；男子十五岁；六十岁
- C. 八九岁到十三四岁；男子十五岁；七十岁
- D. 三四岁到八九岁；女子十五岁；六十岁

7. 中科院国家天文台2019年3月底面向全球发布了郭守敬望远镜7年光谱巡天的成果,这也是目前世界上天区覆盖最完备、样本数量最多的天文数据集。下面关于郭守敬望远镜的表述错误的是:

- A. 郭守敬望远镜坐落于河北兴隆县观测站
 - B. 为研究银河系的形成与演化等提供了重要的基础数据
 - C. 中俄联合研发的第一台大规模光谱巡天望远镜
 - D. 目前世界上光谱获取效率最高的望远镜
8. 下列关于《中华人民共和国监察法》的表述中,正确的是:

- ① 监察机关既是行政机关又是司法机关
- ② 国家监察体制改革的根本目的是加强党对反腐败工作的统一领导
- ③ 各级监察委员会是党内监督专责机关
- ④ 实现对所有行使公权力的公职人员监察全覆盖

- A. ①② B. ②④ C. ①③ D. ③④

9. 1972年,联合国教科文组织在巴黎通过了《保护世界文化和自然遗产公约》,成立联合国教科文组织世界遗产委员会,其宗旨在于促进各国和各国人民之间的合作,为合理保护和恢复全人类共同的遗产做出积极的贡献。下列亚洲的世界文化和自然遗产与所在国家对应错误的是:

- A. 柬埔寨: 吴哥窟
- B. 中国: 三清山
- C. 泰国: 泰姬陵
- D. 尼泊尔: 佛祖诞生地兰毗尼

10. 孙中山领导同盟会先后发动过多次武装起义。下列属于同盟会领导的武装起义有:

- A. 武昌起义 B. 南昌起义 C. 金田起义 D. 秋收起义

11. 我国宪法规定,国家尊重和保障人权,_____是首要的基本人权。

- A. 生命权和健康权
- B. 政治权利和人生权利
- C. 生存权和发展权
- D. 生命权和平等权

12. 在民族的六要素中,起基础作用的要素是:

- A. 共同语言
- B. 共同文化
- C. 共同生产方式

D. 共同心理认可

13. 国家和社会通过立法，采取强制手段对国民收入进行再分配，形成社会消费基金，对由于年老、疾病、伤残、死亡、失业以及其他灾难发生而使生存出现困难的社会成员，给予物质上的帮助，以保证基本生活需要的一系列组织的措施，制度的总称是：

A. 社会福利

B. 社会保险

C. 社会保障

D. 社会救助

14. _____是改革开放以来党的全部理论和实践的主题，是党和人们历尽千辛万苦、付出巨大代价取得的根本成就。

A. 中国特色社会主义

B. 中国特色社会主义理论

C. 中国特色社会主义制度

D. 中国特色社会主义道路

15. 暴力恐怖犯罪活动挑战的是人类社会共同的秩序和人类文明共同的底线，充分暴露了暴恐分子反社会、反人类的丑恶面目，是任何法治国家都不能容忍的。这说明_____是国家的根本属性。

A. 社会性

B. 阶级性

C. 主权性

D. 公共性

16. 下列关于依法治国这一治国方略的理解，错误的是：

A. 依法行政是依法治国的关键

B. 依法审判是依法治国的保障

C. 依宪立法是依法治国的前提

D. 依法治理社会是依法治国的难点

17. _____是一个国家、一个民族发展中更基本、更深沉、更持久的力量。

A. 道路自信

B. 理论自信

C. 制度自信

D. 文化自信

18. 下列情形符合法律规定的是：

- A. 甲乙二人自由恋爱，因两人均年龄满 20 周岁，经双方父母同意，两人可以结婚
- B. 丙 12 岁，玩火酿成火灾，造成重大财产损失，但丙不承担失火罪的刑事责任
- C. 丁 6 岁，春节收到红包若干个，其母认为丁尚年幼，红包里的钱应归监护人所有
- D. 19 岁的大学生戊，认为父母有义务支付他的教育费及生活费至其独立工作为止

19. 抓住了民情、民意、民生、民力，就抓住了行政根本。这里“行政根本”主要指：

- A. 政府的行政职能
- B. 政府的依法行政水平
- C. 政府的为民宗旨
- D. 政府的行政执行能力

20. 关于公文的传阅方式，下列各项中不正确的是：

- A. 设阅文室供有关人员阅文
- B. 领导人之间自行横向传阅
- C. 以秘书人员为轴心进行直传
- D. 将文件送到有关部门组织传达

第一部分结束，请继续做第二部分！

第二部分 言语理解与表达

本部分包括表达与理解两方面的内容。请根据题目要求，在四个选项中选出一个最恰当的答案。

请开始答题：

21. 唐人在文化观上是汉民族的文化观，以天朝上国而自居，骄傲于自己的典章制度和浮华文采，但对外来文化从来不排斥和抵触，拿来主义，_____。在这个儒家文化还没有全面_____人们精神生活的“历史缝隙”里，唐朝人没有太多思想束缚，也许正因如此，唐的文学才如此快意恩仇，唐的精神气质才如此奔放飞扬。依次填入画横线部分最恰当的项是：

- A. 兼收并蓄 渗透
- B. 求同存异 融入
- C. 和而不同 浸透
- D. 包罗万象 深入

22. 体育在青少年成长的过程中应该处于什么位置，用什么样的形式去推进，最终达到什么样的目标，都需要仔细_____，并能从身心成长的规律、教育的规律、体育的规律等方面去叠加探讨，最终形成有效的路径和模式，而不是头疼医头脚疼医脚，甚至手段和目标依次填入画横线部分最恰当的一项是：

A. 思索 适得其反 B. 斟酌 事与愿违 C. 推敲 南辕北辙 D. 商量 东趋西步

23. 公开、公平、公正和诚实信用是招投标活动应_____的原则，也是招投标能否获得公信力的生命线。

A. 遵守 B. 尊重 C. 遵循 D. 遵从

24. 治理垃圾短信和骚扰电话，运营商也是在拿自己的利益开刀，动力不足自然_____所以过去有过多次的运动式治理，但治理完后经常会遭遇反弹。

A. 见怪不怪 B. 司空见惯 C. 屡见不鲜 D. 不足为奇

25. 人们在社会交往中难免出现碰撞摩擦，如果能够善于换位思考，设身处地理解他人，使用文明礼貌的言谈举止，常常会使矛盾_____。

A. 荡然无存 B. 烟消云散 C. 无影无踪 D. 冰释前嫌

26. 时下的带娃老人不仅要付出体力劳动，还可能_____，自然也就不愿意再_____这样的压力了。

A. 动辄得咎 承受

B. 求全责备 承受

C. 动辄得咎 承担

D. 求全责备 承担

27. 眼下，大家经常能从微信上刷到各种各样的保健品，这些“网红保健品”功效各异，从减肥到调节免疫力，从缓解疲劳到改善睡眠，功能_____，效果也被吹得_____。

A. 层出不穷 神乎其神

B. 层出不穷 妙不可言

C. 不一而足 妙不可言

D. 不一而足 神乎其神

28. 伴随着全国各地民俗活动_____展开，七夕这一中华传统节日以其古老的美好_____和现代_____，重新吸引众多民众的注意力

A. 陆续 趣味 意涵 B. 陆续 意涵 趣味

C. 持续 意涵 趣味 D. 持续 趣味 意涵

29. 日常生活中，不少语言大师_____、喜剧名家_____，他们让生活和艺术保持的距离，分清彼此，自由出入，这是极高的艺术境界。

- A. 风趣幽默 妙语连珠 恰到好处
- B. 妙语连珠 风趣幽默 恰如其分
- C. 沉默寡言 严肃谨慎 恰如其分
- D. 严肃谨慎 沉默寡言 恰到好处

30. 喜欢断壁残垣，喜欢古城遗址，喜欢历史留给我们的沧桑感，像长安，像洛阳，像楼兰，喜欢它们_____的篱墙、砖头枯死的瓦菲和风蚀的石块。

填入划横线部分最恰当的一项是：

- A. 倒塌
- B. 颓圮
- C. 破败
- D. 古老

31. 春雨啊，_____地下，雨珠落在湖面上，像珍珠落在玉盘里四面溅射；雨珠落在干土上，地皮上_____一个小坑，像草原姑娘脸上的笑靥。

依次填入划横线部分最恰当的一项是：。

- A. 潇潇 砸出
- B. 沙沙 隆起
- C. 哗哗 陷下
- D. 淅淅 凹下

32. 发展经济不能对资源和生态环境竭泽而渔，生态环境保护也不是舍弃经济发展而_____，而是坚持在发展中保护，在保护中发展，实现经济，社会发展与人口、资源、环境相协调，使绿水青山产生巨大生态效益，经济效益，社会效益，让绿水青山同时也成为金山银山。

填入划横线部分最恰当的一项是：

- A. 舍本逐末
- B. 缘木求鱼
- C. 因小失大
- D. 临渊羡鱼

33. 归根结底，考虑一些管理规划或措施的初衷，应该是增加游客的福祉，而不是相反，

这次翻包检查既输理又输人心的核心所在，我们期待上海迪士尼乐园拿出解决问题的勇气，从_____角度出发，充分释放规则的善意。

填入划横线部分最恰当的一项是：

- A. 以己度人
- B. 角色互换
- C. 以人为本
- D. 先人后己

34.“东北病夫”一词看似明讽中国人身衰体弱，却也暗刺中国人思想_____，封闭落后，1972年李小龙主演的电影《精武门》，剧中他饰演的陈真扛了一块“东亚病夫”的招牌到日本武道馆，并在日本人面前将其踢破栅栏的场景，成为后来人们接触到“东亚病夫”一次的经典画面。

填入划横线部分最恰当的一项是：

- A. 一蹶不振
- B. 日薄西山
- C. 夜郎自大
- D. 沉疴难起

35. 江河没有大海的汹涌澎湃，却有蜿蜒流转的_____；小草没有青松的高大挺拔，却有绿意勃勃的_____；星星没有月亮的皎洁明亮，却有熠熠生辉的_____；世间万物，各有千秋，不必慨叹自己的不足，发挥自己的长处，风景这边独好。

依次填入划横线部分最恰当的一项是：

- A. 气韵 柔韧 闪烁
- B. 神态 坚韧 闪耀
- C. 风韵 灵活 闪动
- D. 韵致 柔软 光辉

36.①即使前者需要借助很多后者发明的高科技手段才能完成场大型露天演唱会

②提到创新，学者们首先想到的肯定是科学和技术

③放眼望去，无论是深圳市中心高耸入云的摩天大楼还是周围人手一台无所不能的智能手机，似乎都在证明此话不假

④认为这两者带来了生产力的巨大飞跃，代表着人类和动物之间的本质区别

⑤但其实大多数老百姓更关心艺术，一个高有创造力的歌手往往要比名优秀的工程师更

能打动人心

将上面的句子组成语意连贯的语段，排序最恰当的一项是：

- A. ②④③⑤① B. ②③⑤①④ C. ③①②④⑤ D. ①④②③⑤

37. 时代和社会在发展，每代人的成长环境都不相同，立法层面规定在校园内禁止用手机，只是用一种法律强制手段保证了学校教育环境的秩序，给学校管理有法可依，但真正把孩子从手机上吸引到课堂之上，归根结底靠的是提高教学本身的吸引力。科技在进步，教学的方式方法也必须跟上时代的步伐，否则禁了手机，学生一样可以在下面聊天开小差。这段文字所要表达的主要意思是：

- A. 从立法层面规定校园禁止用手机是没有实际意义的
B. 要把孩子吸引到课堂上提高教学本身才是根本之道
C. 好的教学方法比在立法层面规定在校园内禁止用手机更有效果
D. 学生在课堂上注意力分散的最主要原因不是手机，而是教学本身

38. 有些人或许会认为：“保护伞”在违法犯罪活动中的作用是次要的，违法犯罪分子本身才是最大的问题。但是，究竟是先有违法犯罪团伙，还是先有这些团伙的“保护伞”本质上其实是一个“鸡生蛋、蛋生鸡”的问题。事实上，在违法犯罪活动的灰色链条之中，身居要职的“保护伞”们，从来都不只是被动接受贿赂、被动放任违法犯罪活动的“客体”，更是催生违法犯罪的“主体”。这段文字所要表达的主旨是：

- A. 在违法犯罪活动中，“保护伞”与犯罪分子之间的关系是难以界定的
B. 在违法犯罪活动中，“保护伞”带来的危害完全不亚于犯罪分子本身带来的危害
C. 在违反犯罪活动的灰色链条中，身居要职的“保护伞”已经成为违法犯罪的主体
D. 在违法犯罪活动的过程中，“保护伞”带来的问题比犯罪分子带来的问题更严重

39. 不可否认，尽管治理旅游顽疾中乱扔垃圾的“药方”有多种，但“游客黑名单”惩戒制度或许才是最能收到疗效的一剂药方。一旦“游客黑名单”惩戒制度长出“钢牙利齿”，那么“文明旅游走遍天下，不文明旅游寸步难行”的旅游氛围必然蔚然成风。如此，游客必然就会自觉地把讲文明视为价值追求，把守规矩当成行为准则。这段文字所要表达的主要观点是：

- A. 形成文明旅游的氛围才是治理旅游顽疾的根本之道
B. “游客黑名单”惩戒制度能否长出“钢牙利齿”，才是治理旅游顽疾的关键
C. 只有当游客自觉地讲文明、守规矩时，旅游顽疾才能得到根本的治理
D. “游客黑名单”惩戒制度是规范游客文明旅游的有效手段

40. 意大利文艺复兴时期，科学技术和生产力的发展使人的自我意识开始觉醒，人们开始厌弃神权时代那种表现追慕上帝的峭拔的建筑风格，怀念起古希腊、罗马时代的建筑于是人们拾回那种规整，稳重的“十字”平面造型原则和柱式的根本形制，以圆拱代替尖拱，吸收力学上的新成就以及绘画中的透视原理，强调秩序和比例，以均衡端庄，典雅精致为美学追求，从而创造出多种空间效果，来标示属于自己时代的崭新风格。

这段文字主要介绍：

- A. 古希腊与文艺复兴时期建筑的传承关系
- B. 文艺复兴时期的建筑风格及形成背景
- C. 西方人的思想意识在建筑领域的表现
- D. 意大利文艺复兴在建筑方面的主要成就

41. 素食在中国有深厚的传统，《墨子》记载：“古之民未知为饮食时，素食分处”，清人孙诒让注：“素食，谓食草木”，素食又称“蔬食”，《礼记》曰“山林薮泽，有能取蔬食”，东汉郑玄注：“草木之实为蔬食”。素食自古以来是中华文明的饮食传统，中国以及整个东亚，饮食皆以谷物和蔬菜为主与西方以肉为主的饮食习惯是不同的。舌尖之上是对美的品味，舌尖之下是文化精神的倾向。

作者接下来最可能讲述的是：

- A. 素食文化在现代生活中的表现
- B. 中国古代与素食有关的典故
- C. 素食文化对中国饮食文化的影响
- D. 中国素食传统中蕴含的文化内涵

42. 中西古建筑最显著的差别体现在材料的选取上，中国用土木，西方用砖石。乍看之下，木质建筑简朴、扁平、易朽，似乎很难与巍峨高耸的石头教堂一争高下。有人把这归咎于古人的技术局限或材料短缺，但事实上，中华大地并不缺石材，古代冶金技术世界领先，石料开采加工的器具也更先进。同时，老祖宗们并非完全不用石料，譬如陵墓，在他们看来，才是该用石头建筑的。而从秦汉陵墓的空间布局和工程结构来看，早在那个时代，砖石建筑就已经达到了相当高的水准。

作者意在强调：

- A. 中西方砖石建筑在功能设计方面存在本质差别
- B. 中国古代的砖石建筑水平事实上遥遥领先于西方
- C. 是观念而非技术影响了中国古人对砖石材料的使用

D. 秦汉时期的陵墓建筑是中国古代砖石建筑的杰出代表

43. 研究人员认为, 年轻动物脑中有“胆碱能”水平更高的神经递质, 这让大脑变得更具可塑性, 也更容易接受改变。而年长动物脑中则会产生抑制胆碱能作用的化学物质, 来积极保持大脑稳定不变。这个过程也在某种程度上反映了不同年龄层要面对的课题: 儿童要探索, 成年人要应用。从进化角度来看, 童年是最适合学习的时期, 在受保护的这段时间内, 儿童只需要学习, 不用担心实际发生的事情, 成年人则需要运用所知一切, 有效且快速地行动。抑制胆碱能作用的化学物质, 可能就是在帮助这个过程进行。根据这段文字, 以下说法正确的是:

- A. 儿童对外在世界的敏感程度不如成年人
- B. 胆碱能高抑制了成年人的学习能力
- C. 年轻动物的大脑结构有利于专心学习
- D. 成年人大脑具有稳定性有进化论依据

44. 研究发现, 人们所受压力会增加血液中糖皮质激素的含量, 而糖皮质激素可将前体细胞变成脂肪细胞, 所以压力与肥胖有联系。人们过去不清楚, 为什么白天压力大不一定会胖, 而上夜班之类的压力则与肥胖相联系。

这段文段接下来最可能讲述:

- A. 压力与肥胖的作用机理
- B. 时间段与血液中糖皮质激素的关系
- C. 血液中糖皮质激素与肥胖的关系
- D. 不同时间段下压力与糖皮质激素的关系

45. 我们一定要找到自己的长处, 并把这个长处发挥到最佳。长处这块板越长越好, 如果打破吉尼斯世界纪录, 那就更好了。这样, 你就做到了卓越, 而在这一个点上的超越, 会给你带来更多的资源和更多的成功, 乔布斯是个完人吗? 苹果公司是面面俱到吗? 他们每一块木板都比竞争对手长吗? 当他们能把产品做到人人喜欢, 就几乎一切都有了, 我们为什么没有苹果, 没有乔布斯, 正因为我们总是样样追求不落人后, 努力活在别人描绘的理想模式之中。

对这段文字主要意思提炼最准确的一项是:

- A. 长处这块板越长越好, 能打破吉尼斯世界纪录就更好
- B. 我们需要找出自己的优势, 且其发挥到极致
- C. 我们总是追求样样不落人后, 努力活在别人的模式中

D. 无论是人还是公司，都要靠自己最长的那块板成功

46. 随着城乡融合发展，原本封闭的乡村全面走向开放，乡村治理对象从单一的农民主体转向开放的城乡公民混合体，可以预测，乡村需要现代化的治理体系，城乡在部分治理手段上会逐渐趋同，但与城市社会不同，乡村社会是熟人社会，乡村治理要充分尊重农村的特点，多种治理方式相结合，要以自治激发民主活力，以法治推进现代治理，以德治引导文明乡风。

作者通过这段文字最主要想说明的是：

- A. 乡村的治理要充分尊重农村的特点
- B. 当前社会治理的薄弱环节在乡村
- C. 乡村治理对象的转变
- D. 乡村治理手段转变

47. 科学家推断，琥珀毛环口螺已经逐步适应了白垩纪中期这个以被子植物为主导的世界，壳体上的毛首先起到让掠食者望而却步的作用，功能上则有助于它更好的附在被子植物的叶子上，降低意外掉落的风险，以及掉落重新爬回到高处的大量消耗，万一跌落到森林地面上，毛结构还可能会减轻冲击力而降低对壳体造成的潜在损害。

对这段文字主要意思提炼最准确的一项是：

- A. 琥珀毛环螺壳体上的毛的作用与功能
- B. 琥珀毛环螺适应白垩纪中期环境的系列表现
- C. 琥珀毛环口螺进化出壳体上的毛的原因
- D. 琥珀毛环口螺促进了生物的演化

48 把下面几个句子组成语义连贯的一项是：

①于个人，能用钱解决烦心事，就像有了代驾，开车去吃饭也可以放开喝而不担心酒驾判刑

②对于几个外卖平台创造数以百万个就业岗位，就像托了“代经济”的福

③而且借助便捷的移动互联网技术，“代经济”这一更加专业和本土的姿态出现在人们生活的每一个细节中

④于社会，专业的事由专业的人来干，分工精细化有助于增加就业机会，提高效率，从而促进经济增长

⑤可以说“代经济”在为美好生活加分

- A. ①④②③⑤ B. ①④③②⑤ C. ⑤①④②③ D. ⑤①④③②

49.“外部性”是经济学上的一个重要概念，分享经济作为一种新形式的经济活动，至少存在两种“外部性”。一种是基于技术创新的“科技外部性”，目前主要是增强就业灵活性、盘活闲散资源等能使社会或他人获益的正外部性。另一种是产权变化所带来的“制度外部性”，分享经济主要以“分享使用权”为特征，弱化了所有权，盗窃、破坏等“控制权”缺失所带来的问题也是难免的。分享经济的制度外部性，无法简单地靠经济激励或惩戒等市场化行为来加以矫正，必须借助于法律和制度的力量。

下列说法与原文相符的是：

- A. 科技外部性和制度外部性都存在产权变化
- B. 外部性特征是分享经济最显著的特征
- C. 分享经济中的乱象源于国民素质问题
- D. 解决外部性带来的困境需法律制度的保障

50. “黑马”一词其实是从英语舶来的，原指体育界一鸣惊人的后起之秀，后指实力难测的竞争者或在某一领域独树一帜的人，无贬义或政治含义。首先在英文中使用“黑马”的人，是英国前首相狄斯累利，他在一本小说中这样描写赛马的场面：“两匹公认拔尖的赛马竟然落后了，一匹‘黑马’，以压倒性优势飞奔。看台上的观众惊呼：‘黑马！黑马！’”从此，“黑马”便成了一个有特殊意义的名词。

这段文字的主要意思是：

- A. 论证“黑马”词义的起源
- B. 阐释“黑马”一词的内涵
- C. 分析“黑马”词义的演变
- D. 介绍“黑马”的感情色彩

第二部分结束，请继续做第三部分！

第三部分 数量关系

在这部分试题中，每道题呈现一段表述数字关系的文字，要求你迅速、准确地计算出答案。

51. 某玩具店同时卖出一个拼装玩具和一架遥控飞机，已知拼装玩具售价为66元/个，盈利10%；遥控飞机售价为120元/架，亏损20%。那么商家该次销售的总体盈亏情况如何？

- A. 盈利 17.4 元
- B. 亏损 17.4 元
- C. 盈利 24 元
- D. 亏损 24 元

52. 甲、乙、丙三位选手参加抢答竞赛，答对一题得一分，答错既不得分也不扣分。在竞赛过程中的某一时刻，甲得到 17 分，乙得到 16 分，丙得到 11 分。那么在剩下的 8 道题中，甲至少还要答对几道题才能确保胜出？

- A. 1
- B. 2
- C. 3
- D. 4

53. 一个水箱有 1 个进水口和 10 个出水速度相同的出水口，当水箱盛满水后同时打开进水口和 10 个出水口 3 小时流完，若打开进水口和 5 个出水口 8 小时流完，若打开进水口和 8 个出水口，水箱的水多少小时流完？

- A. 4
- B. 5
- C. 6
- D. 7

54. 有 6 个分别装满汽油、柴油、机油的油桶其容量分别为 31 升、20 升、19 升、16 升、15 升。已知 6 桶油中只有一桶是汽油，且柴油总容量比机油多一倍。请问柴油共有多少升？ A. 49

- B. 50
- C. 66
- D. 68

55. 某高校艺术学院分音乐系和美术系两个系别，已知学院男生人数占总人数的 30%，且音乐系男女生人数之比为 1:3，美术系男女生人数之比为 2:3，问音乐系和美术系的总人数之比是多少？

- A. 5: 2
- B. 5: 1
- C. 3: 1

D. 2: 1

56. 有 6 种颜色的小球，数量分别为 4, 6, 8, 9, 11, 10, 将它们放在一个盒子里，那么，拿到相同颜色的球最多需要的次数为？

A. 6

B. 12

C. 11

D. 7

57. 有 135 人参加某单位的招聘，31 人有英语证书和普通话证书，37 人有英语证书和计算机证书，16 人有普通话证书和计算机证书，其中一部分人有三种证书，而一部分人则只有一种证书。该单位要求必须至少有两种上述证书的应聘者才有资格参加面试。问至少有多少人不能参加面试？

A. 51

B. 50

C. 53

D. 52

58. 女儿今年的年龄是母亲年龄的 $\frac{1}{4}$ ，40 年后女儿的是母亲的 $\frac{2}{3}$ 。问当女儿年龄是母亲年龄的 $\frac{1}{2}$ 时是公元多少年（假设今年是 2013 年）？

A. 2021

B. 2022

C. 2026

D. 2029

59. 某单位有职工 15 人，其中业务人员 9 人，现要从整个单位选出 3 人参加培训，要求其中业务人员的人数不高于非业务人员的人数。问有多少种不同的选人方法？

A. 156

B. 216

C. 240

D. 300

60. 2016 年 5 月 1 日是星期日，请推算 2015 年 6 月 1 日是星期几？

A. 星期一

B. 星期二

C. 星期三

D. 星期四

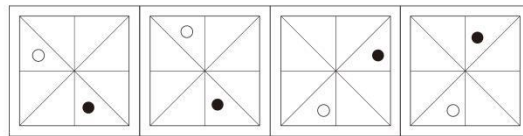
第三部分结束，请继续做第四部分!

第四部分 判断推理

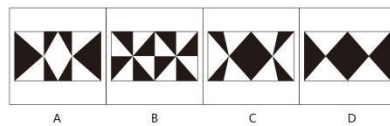

本部分包括图形推理，时间排序，定义判断，类比推理和逻辑判断五种题型

一、图形推理，请按每道题的答题要求作答

61. 填入问号处最恰当的是：

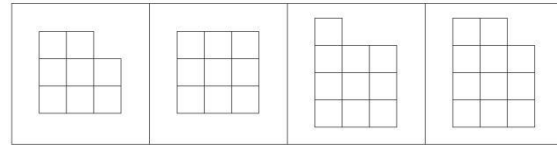
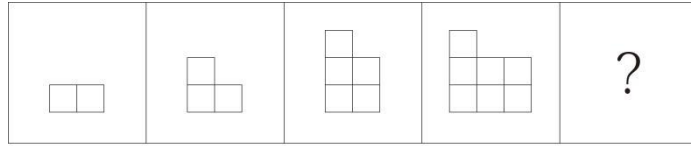


62. 填入问号处最恰当的是：



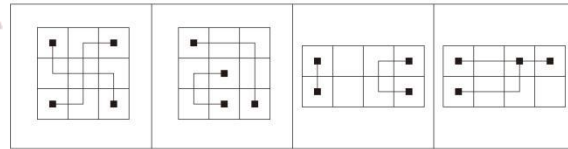
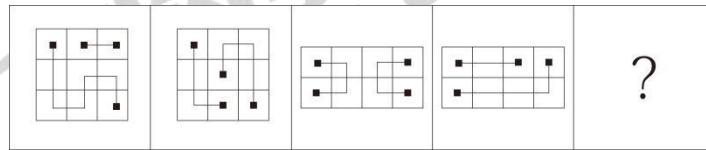
63. 填入问号处最恰当的是：

SINCE 2001



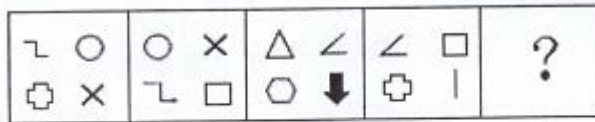
A B C D

64. 填入问号处最恰当的是:



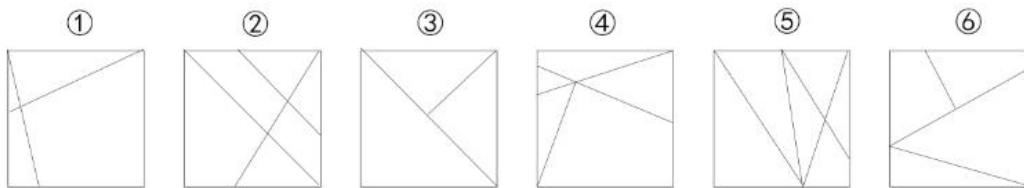
A B C D

65. 从所给的四个选项中, 选择最合适的一个填入问号处, 使之呈现一定的规律性:



A B C D

66. 把下面的六个图形分为两类, 使每一类都有各自的共同特征或规律, 分类正确的一项是:




A. ①②③, ④⑤⑥

B. ①②⑤, ③④⑥

C. ①②④, ③⑤⑥

D. ①③⑥, ②④⑤

67. 从所给的四个选项中，选择最合适的一个填入问号处，使之呈现一定的规律性：

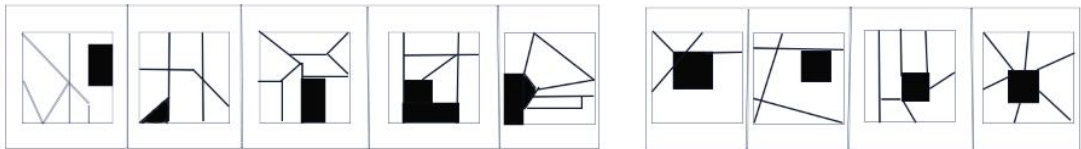


68. 把下面的六个图形分为两类，使每一类都有各自的共同特征或规律，分类正确的一项是：



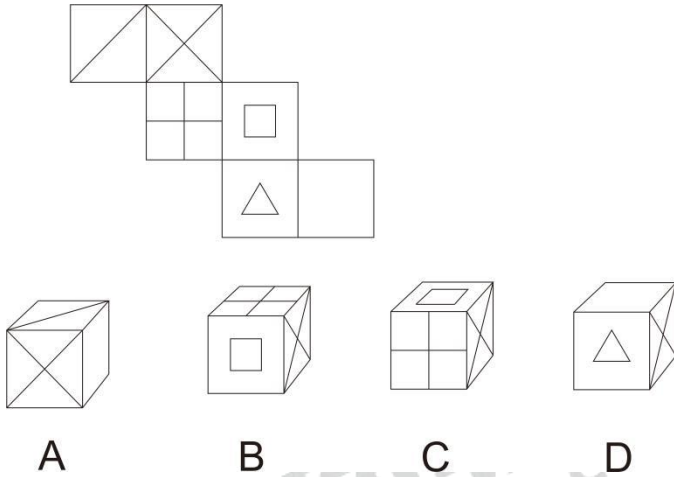
- A. ①③④，②⑤⑥ B. ①③⑤，②④⑥
 C. ①②⑥，③④⑤ D. ①④⑥，②③⑤

69. 从所给的四个选项中，选择最合适的一个填入问号处，使之呈现一定的规律性：



70. 上边是给定的六面体外表面展开图，下边哪一项能由它折叠而成的：





二、类比推理。每道题给出一对相关的词，然后请在备选答案中找出一对与之在逻辑关系上最为贴近、相似或匹配的词。

71. 红糖：甘蔗

A. 香茗：茶水 B. 豆浆：豆汁

C. 糍粑：糯米 D. 汤圆：元宵

72. 记挂：挂记

A. 喜欢：欢喜 B. 责问：问责

C. 巴结：结巴 D. 外校：校外

73. 黄梅戏：黄梅雨

A. 主席团：主席台 B. 打官司：打官腔

C. 绍兴戏：绍兴酒 D. 圣诞节：圣诞树

74. 前车之覆：后车之鉴

A. 前事不忘：后事之师 B. 兼听则明：偏信则暗

C. 不经一事：不长一智 D. 失之东隅：收之桑榆

75. 复赛：预赛：半决赛

A. 斜眼：对眼：斗鸡眼 B. 茅屋：草堂：四合院

C. 原油：石油：润滑油 D. 仰泳：蛙泳：自由泳

76. 罗汉：罗汉果

A. 桥头：桥头堡 B. 冰川：冰川期

C. 金龟：金龟子 D. 考古：考古学

77. 繁荣：萧条

A. 接受：心领 B. 高尚：庸俗

C. 约束：制止 D. 肝胆：脾胃

78. 报刊：杂志

A. 墨宝：策论 B. 皮影：年画

C. 债券：合同 D. 经书：史籍

79. 寒来：暑往

A. 价廉：物美 B. 妙手：回春

C. 唇亡：齿寒 D. 唇枪：舌剑

80. 叹为观止：拍案叫绝

A. 茅塞顿开：豁然贯通 B. 春风化雨：口诛笔伐

C. 老蚌生珠：生不逢时 D. 眼冒金星：色厉内荏

三、定义判断。每道题先给一个概念的定义，然后分别列出四种情况，请严格依据定义，从中选出一个最符合或最不符合该定义的答案。注意：假设这个定义是正确的，不容置疑的。

81. 防御商标，是指较为知名的商标，所有人在该注册商标核定使用的商品（服务）或类似商品（服务）以外的其他不同类别的商品或服务上注册的若干相同商标，为防止他人在这些类别的商品或服务上注册使用相同的商标。原商标为主商标，其余为防御商标。

根据上述定义，下列属于防御商标的是：

A. 娃哈哈集团公司为防止娃哈哈商标被他人仿冒，先后注册了哈哈娃、哈娃娃、娃娃哈等商标

B. 日本电器制造商索尼公司，在服装、食品等商品上注册索尼商标

C. 上海避风塘公司先后注册了避风塘图形商标、BI FENG TANG 英文商标、避风塘图文组合商标

D. 美国柯达（KODAK）公司在照相机、胶卷和摄影器材上注册“柯达”商标后，印度一公司以柯达自行车为名称从事经营活动，并申请将“柯达”商标注册在自行车上

82. 住房反向抵押保险，又称“以房养老保险”，是一种将住房抵押与终身年金相结合的新型商业养老保险。即拥有房屋完全产权的产权人，将其房屋抵押给保险公司，继续拥有房屋居住权，并按照约定条件领取养老金直至身故；产权人身故后，保险公司获得抵押房屋处置权，将处置所得优先用于偿付养老保险相关费用。

根据上述定义，下列属于住房反向抵押保险的是：

A. 李某将其父母的房子抵押给银行，获得银行 200 万元贷款

B. 甲公司将公司所有一栋写字楼抵押给乙银行，向乙银行贷款 1000 万元，甲公司向丙财产保险公司投保了房屋抵押贷款保证保险

C. 林某将自有一套房屋抵押给某保险公司，该保险公司按保险合同约定每月向林某支付 5000 元生活费

D. 王某向某银行贷款 150 万元，以按揭方式向开发商购买一套商品房，王某向某财产保险公司投保个人购置房屋抵押贷款保证保险

83. 股权众筹，是指企业将其持有的一定比例股份转让给投资者，投资者通过出资直接或间接（成立专项投资该公司的有限合伙企业）入股公司，分享未来收益。股权众筹通过互联网渠道融资，又被称为“私募股权互联网化”。

根据上述定义，下列不属于股权众筹的是：

A. 某私募基金公司通过网络以股权认筹方式向公众融资从事股票投资

B. 甲物流公司通过贷帮网将公司持有的一定比例的股份，以每股 3000 元转让给投资者

C. 乙公司通过爱合投网站将公司电玩项目的 20% 股份转让给投资者，最低认购金额以 3 万元为起点

D. 丙与丁以股东身份各自出资 500 万元设立某网络公司

84. 展望理论，是指人在不确定条件下的决策选择，取决于结果与展望（预期、设想）的差距而非单一的结果本身。人在面临获利时，不愿冒风险，而在面临损失时，人人都成了冒险家。

根据上述定义，下列符合展望理论的定义的是：

A. 股市红火，甲将银行存款全部取出用于炒股以获取高额回报

B. 乙通过债基定投的方式获取稳定的投资收益

C. 公司产品严重滞销，丙孤注一掷，将公司所有资金投入新产品研发

D. 得陇望蜀

85. 格式塔疗法，是自己对自己疾病觉察、体会和醒悟的一种修心养性的自我治疗方法。这种疗法主张通过增加对自己此时此地躯体状况的知觉，认识被压抑的情绪和需求，整合人格的分裂部分，从而改善不良的适应。被治疗者的基本目标是去察觉自己正体验到什么及自己做些什么，通过这种察觉达成自我了解，并得到足以修正自我的知识，从而学到如何对自己的情感、思维和行为负责。

根据上述定义，下列不属于格式塔疗法的是：

A. 通过团体成员的沟通，分享各自内心预演各自社会角色的情境，使得被治疗者能察

觉自己对他人的期望并帮助他人实现其期望

B. 要求被治疗者坐在一张椅子上扮演胜利者，然后再坐到另一张椅子上扮演失败者，并让其扮演的两方角色持续对话，使其情感外显化

C. 要求被治疗者在团体中扮演一个与自己以往风格相反的角色，从而与自己已经埋没和否认的部分接触，并学会逐渐接纳之

D. 要求被治疗者回忆梦境里的每个人、事、物及心情，然后将自己变成梦中的每一部分，尽量去表现梦境，并引出对话，发现人格的缺失

86. 角色冲突 (Role Conflict) 是当一个人扮演一个角色或同时扮演几个不同的角色时，由于不能胜任，造成不合时宜而产生的矛盾和冲突。

根据上述定义，下列不属于角色冲突的是：

A. 刘某毕业上班后，学生气十足的他一时难以适应公司层级分明的岗位工作

B. 王某是一名公务员，父母希望其利用工作之便，多为家人办事，可单位严禁走后门，王某感到很为难

C. 研究生李某兼职大一新生辅导员，时而忙于论文写作，时而忙于学生事务处理，难以兼顾，经常出现论文迟交或被批“办事不力”

D. 张某与丈夫离婚了，恢复单身状态，常以“明天会更好”自我安慰

87. 风险厌恶是个人面对生活中充满的风险而秉持的一种行为选择心态。个人对风险的理性反应不一定是惜一切代价去回避它，而是在作出决策时要考虑可能面临的风险。绝大多数人不喜欢坏事发生在自己身上，人们对坏事的厌恶往往更甚于对好事的喜欢，即人们排斥不确定性。

根据上述定义，下列不属于“风险厌恶”的是：

A. 车主为了分担驾车风险购买汽车盗抢险、车损险、第三者责任险等商业保险

B. 股市振荡，股民退出股市转而购买国债

C. 居民为了应对通货膨胀而囤积、购买实物黄金

D. 彩民为了中大奖而大量购买体育彩票

88. 社会主义的产业结构采用三次产业分类法，将产业划分为第一次、第二次、第三次产业。其中第一次产业指用自然界本来就存在着的劳动对象进行生产的初级产品的生产部门；第二次产业是指对初级产品进一步加工的生产部门；第三次产业是指不生产物质产品而只提供服务的部门。

根据上述定义，下列选项属于第一次产业的是：

- A. 某水产养殖户购入 10 万尾鱼苗开展网箱养殖
- B. 某鞋业公司买入 5000 吨塑料颗粒用于塑胶运动鞋生产
- C. 投资者通过证券公司交易平台从事股票、债券交易
- D. 某高校为扩大国际生招生规模，招收多名外国留学生

89. 犯罪中止，是指在犯罪的实施过程中，犯罪分子自动放弃犯罪或者自动有效地防止犯罪结果发生的一种犯罪停止形态。相比犯罪未遂，犯罪中止的本质特征在于犯罪分子主观认识发生了变化，并在行动上有效阻止了原先犯罪行为的后果。对于犯罪构成要件已经全部具备的行为，犯罪分子的后续行为，不能认定为犯罪中止，但可以作为量刑情节予以考虑。

根据上述定义，下列情形属于犯罪中止的是：

- A. 甲某因恋人乙某移情别恋，心生报复。某日，甲某将安放有自制定时炸弹的“礼物”（三天后爆炸）送给乙某，第二天甲某因看电影回忆起两人原先的美好时光，心生不忍，便冲到乙某住处将“礼物”抢回
- B. 丙某被乙公司以连续旷工为由在解除劳动合同后怀恨在心。某日，丙某携带工具前往实施破坏活动，到达 A 公司后发现工具落在公共汽车上，只能转身回家
- C. 丁某深夜尾随一位“长发女子”实施强奸，实施过程中发现该“长发女子”是男的，丁某对该男子大骂一声“变态”后离去
- D. 戊某欲将拐骗来的男孩（4 岁）当成自己的孩子来养，后来发现电视、广播等媒体上正在发布家属寻找该男孩的启事，深受感动，最终将该男孩偷偷送到派出所门口后溜走

90. 彼得原理是美国学者劳伦斯·彼得在对组织中人员晋升的相关现象研究后得出一个结论，即在各种组织中，由于雇主单位习惯上对在某个层级上称职的雇员予以晋升提拔，因而雇员总是趋向于晋升到其本人不称职的地位。彼得原理有时也被称为“向上爬”原理。

根据上述定义，下列现象中符合彼得原理的是：

- A. 小李工作业绩突出，被提升为区域经理后，在新的岗位上表现依然出色
- B. 小王原任生产部经理，业绩十分稳定，升任公司副总裁后，却深感力不从心
- C. 小张曾是优秀的足球运动员，退役后供职于某网络游戏公司，工作备感吃力
- D. 小林无真才实干，因家人任公司领导职务，很快从底层提升为公司高管，上任后致使公司连连遭受重大损失

四、逻辑判断。每题给出一段陈述，这段陈述被假设是正确的，不容置疑的。请根据这段陈述，选择一个答案。注意，正确的答案应与所给的陈述相符合，

不需要任何附加说明即可从陈述中直接推出。

91. 某师范大学只设文科和理科，文科生多于理科生，女生多于男生。

上述断定如果为真，则下列哪项关于该大学学生的断定也一定为真：

- I. 文科的女生多于文科的男生
 - II. 理科的男生多于文科的男生
 - III. 文科的女生多于理科的男生
- A. 只有I和II
 - B. 只有II和III
 - C. 只有III
 - D. I、II和III都不一定是真的

92. 关于小明的饮食偏好，小明妈妈很头疼，与鱼类食物和蛋类食物比起来，小明更喜欢大米类食物；事实上在所有的食物中，他最喜欢肉类食物；而和蛋类食物比起来，他更不喜欢蔬菜类食物。

下列除了哪项外，其余各项都能从上述信息推出：

- A. 比起蛋类食物，小明更喜欢肉类食物
- B. 比起蔬菜类食物，小明更喜欢鱼类食物
- C. 比起大米类食物，小明更喜欢肉类食物
- D. 比起蔬菜类食物，小明更喜欢大米类食物

93. 某高校的有关负责人说：“总的来说，现在大学生的家庭困难情况比以前有了很大的改观。这种现象十分明显，因为现在课余时间要求学校安排勤工俭学工作岗位的学生越来越少了。”

上述的论断是建立在下列哪项假设的基础上：

- A. 现在大学生的家庭收入有了很大的提高
- B. 大学生把更多的时间用在学习方面，要求勤工俭学的越来越少
- C. 课余时间要求学校安排勤工俭学工作岗位是学生家庭是否困难的一个重要标志
- D. 现在学校给学生的各种奖学金不断增多，学生可以不需要勤工俭学

94. 学生上完体育课后回到教室，有 23 人喝了饮水机里的纯净水，其中 8 人很快产生了腹泻。饮水机里的水马上被送去检验，检验的结果不能肯定其中是否有造成腹泻的有害物质。因此，喝了饮水机里的纯净水不是造成腹泻的原因。

如果上述检验过程没有问题，则下列哪项对上述论证的评价最为恰当：

A. 题干的论证有漏洞，因为它没有考虑到另一个事实：那些没有喝饮水机里的水的同学都没有腹泻

B. 题干的论证有漏洞，因为它把缺少证据证明某种情况存在，当作有充分证据证明某种情况不存在

C. 题干的论证有漏洞，因为它没有利用一个有力的证据：为什么有更多的人喝了饮水机里的水却没有腹泻

D. 题干的论证有漏洞，因为它没有指出造成腹泻的真正原因

95. 某市的新法规要求那里的企业制定 5 年期的节能规划。法规要求每家企业制定一个至少能节能 30% 的详细计划。然而很清楚，法规将不会导致能耗的显著减少，因为法规并没有强制要求企业实施他们的计划。

下列哪项最能削弱上述论证：

A. 节能改造所需要提升的设备，市场供应充足

B. 详细计划显示，节能改造措施能降低企业成本

C. 节能改造计划将受到社会欢迎

D. 节能改造计划将需要政府某部门的备案

96. 这次湖人队不可能取得联赛冠军。如果湖人队夺得冠军，太阳就打西边出来了。

下列哪项在论证方式上与上述论证最相似？：

A. 人在自己的生活中不能不尊重规律，如果违背规律，就会受到规律的无情惩罚

B. 加强税法宣传十分重要，这样做可以增强人们的纳税意识，增加国家财政收入

C. 风水先生惯说空，指南指北指西东，倘若真有龙虎地，何不当年葬乃翁

D. 有些近体诗是要求对仗的，因为有些近体诗是律诗，而所有的律诗都要求对仗

97. 近年来，越来越多的人参加国家司法考试，可以说，所有想从事律师职业的人都想要获得国家法律职业资格证书。小陈也想获得国家法律职业资格证书，所以，小陈一定是想从事律师职业了。

下列哪项如果为真，最能加强上述断定：

A. 只有获得国家法律职业资格证书的人，才有资格从事律师职业

B. 目前越来越多学习法律的人具有国家法律职业资格证书

C. 国家司法考试号称“国考”，许多法律工作岗位把获得国家法律职业资格证书作为人才招聘的前提条件

D. 只有想从事律师工作的人，才想获得国家法律职业资格证书

98. 前不久，山东大学对 368 名在校本科生提出成绩警告，并对其中 97 名学生作出退学处理，理由是“警告甚至多次警告，成绩依然很差”。有媒体对此提出质疑，呼吁大学的校长、老师自己先扪心自问：“我们尽职了吗”

下列哪项如果正确，最能对于媒体的质疑进行反驳：

- A. 被劝退的学生绝大多数是因沉湎于游戏或厌学而无法完成学业
- B. 大学生作为成年人，应该为自身行为承担相应责任
- C. 中西方的成功经验均昭示，在大学入学门槛不断降低的今天，淘汰机制显得更加重要
- D. 美国的兰德公司的调查报告指出，美国几乎有 50% 的本科生会从学校流失

99. 因在与苹果手机的官司中败诉，三星有八款手机在美国遭到禁售。因此有人担心三星手机在美国的销售量会大幅下滑。

下列各项说明这种担心是不必要的，除了：

- A. 在美国销售的三星手机中，这八款手机只占很少的比例
- B. 这八款手机是比较老式的机型，在美国使用的人并不多
- C. 凡是在使用这几款手机的用户，手机坏了可以置换其他的类型
- D. 美国民众现在普遍表现出一种更加偏爱使用苹果手机的倾向

100. 三个男孩 K、L、M，以及三个女孩 R、S、T，举办一场舞会。他们要跳三场舞：第一、第二、第三场。每场舞由三对孩子参加，在每对孩子中要有一个男孩和一个女孩为伴，且遵循以下原则：

- (1) K 和 S 为伴，且不在第一场就在第二场；
- (2) R 在第二场为伴的人一定在第三场和 S 为伴；
- (3) 两个小孩不能结伴超过 1 场。

若 L 和 S 在第二场中为伴，则下面哪一对孩子必须在第一场中为伴：

- A. K 和 R
- B. K 和 T
- C. L 和 R
- D. L 和 T

第四部分结束，请继续做第五部分！

第五部分 资料分析

所给出的图、表、文字或综合性资料均有若干个问题要你回答。你应根据资料提供的信息进行分析、比较、计算和判断处理。

请开始回答：

一、根据所给资料，回答下列问题。

2018年1-11月，广东规模以上工业企业累计完成增加值28994.65亿元，同比增长6.2%。

1-11月，全省规模以上国有控股企业累计完成增加值5162.03亿元，同比增长8.1%，增幅高于1-10月0.2个百分点，高于全省规模以上工业平均水平1.9个百分点，对全省规模以上工业增加值增速的贡献率为22.4%，比1-10月提高0.2个百分点，拉动全省规模以上工业增长1.4个百分点，与1-10月持平；规模以上民营工业企业累计完成增加值14459.59亿元，增长8.9%，增幅低于1-10月0.1个百分点，高于全省规模以上工业平均水平2.7个百分点，对全省规模以上工业增长的贡献率为69.8%，拉动全省规模以上工业增长4.3个百分点；规模以上外商及港澳台商投资企业累计完成增加值10761.31亿元，增长1.8%，增幅与1-10月持平，低于全省规模以上工业平均水平4.4个百分点。

1-11月，全省规模以上制造业累计完成增加值26324.75亿元，同比增长6.2%，增幅比1-10月提高0.1个百分点。三大支柱行业累计增速均比1-10月有所提高，其中：计算机、通信和其他电子设备制造业增长10.2%，增幅比1-10月提高0.1个百分点；电气机械和器材制造业增长6.7%，增幅比1-10月提高0.2个百分点；汽车制造业增长8.7%，增幅比1-10月提高0.1个百分点。三大行业合计对全省规模以上工业增长的贡献率61.1%，比1-10月提高0.7个百分点，合计拉动全省规模以上工业增长3.8个百分点，比1-10月累计提高0.1个百分点。

1-11月，全省规模以上工业企业实现出口交货值32172.95亿元，同比增长8.3%，增幅比1-10月提高0.2个百分点。

101. 2017年1-11月，广东规模以上工业企业累计完成增加值约（ ）亿元。

- A、27301.93
- B、26301.25
- C、22095.33
- D、20105.41

102. 2018年1-10月，全省规模以上国有控股企业累计完成增加值的同比增速为（ ）

A. 6.3%

B. 7.3%

C. 7.9%

D. 8.9%

103. 2018年1-11月，规模以上民营工业企业累计完成增加值比规模以上外商及港澳台商投资企业（ ）

A. 多 2798.62 亿元

B. 少 2798.62 亿元

C. 多 3698.28 亿元

D. 少 3698.28 亿元

104. 2018年1-10月，三大支柱产业增速最快的行业比最慢的行业高（ ）个百分点

A. 2.6

B. 2.1

C. 3.5

D. 3.6

105. 根据材料，下列相关说法不正确的是（ ）

A. 与上年相比，2018年1-11月全省规模以上国有控股企业累计完成增加值占全省规模以上工业增加值的比重有所上升

B. 2018年1-11月，全省规模以上制造业累计完成增加值的同比增量多于全省规模以上工业企业

C. 2017年1-11月，全省规模以上工业企业实现出口交货值约为29707.25亿元

D. 2018年1-10月，规模以上民营工业企业累计完成增加值同比增速为9%

二、根据所给资料，回答下列问题。

某地区的全年财政收入完成6.97亿元，完成年度计划的110.6%，按可比口径计算比上年增长20.6%。其中营业税2.89亿元，增长18.9%，占全区财政收入的41.5%，拉动财政收入增长8个百分点；房产税1.2亿元，增长32.3%，占全区财政收入的17.2%，拉动财政收入增长5.1个百分点；增值税0.75亿元，增长3.2%，占全区财政收入的10.8%，拉动财政收入增长0.4个百分点；企业所得税0.71亿元，增长15.1%，占全区财政收入的10.2%，拉动财政收入增长1.6个百分点；其它科目合计1.42亿元，增长29.6%，占全区财政收入的20.3%，拉动财政收入增长5.5个百分点。

106. 该地区去年的增值税为多少亿元:

- A. 0.774
- B. 0.727
- C. 0.726
- D. 0.775

107. 营业税和企业所得税一共拉动财政收入增长了多少个百分点:

- A. 9.6
- B. 8
- C. 13.1
- D. 8.4

108. 房产税占全区财政收入的比例增加了多少:

- A. 2.0%
- B. 1.8%
- C. 1.6%
- D. 1.5%

109. 全年财政收入的计划是多少亿元:

- A. 5.78
- B. 6.03
- C. 6.30
- D. 6.45

110. 其他科目的财政收入增长了多少亿元:

- A. 0.420
- B. 0.324
- C. 0.36
- D. 0.402

三、根据所给资料, 回答下列问题。

2011 年第一季度我国建筑业产值为 16096.4 亿元。其中, 建筑工程产值 14220.0 亿元, 安装工程产值 1405.2 亿元, 其他 471.2 亿元。华东六省一市数据如下表。

2011年第一季度我国华东六省一市建筑产值统计

单位：亿元

省(市)	合计	建筑工程	安装工程	其他
上海市	739.2	610.4	104.5	24.3
江苏省	1773.2	1621.2	139.4	12.6
浙江省	2381.2	2134.1	171.8	75.3
安徽省	625.7	544.9	53.1	27.7
福建省	583.9	534.3	42.7	6.9
江西省	334.2	301.9	19.3	12.4
山东	838.5	682.7	129.1	26.7

111. 2011年一季，华东六省一市建筑业产值的平均值是：

- A. 1437.8 亿元
- B. 1367.3 亿元
- C. 1039.4 亿元
- D. 872.7 亿元

112. 2011年一季，江苏省建筑业产值占我国建筑业产值的比重是：

- A. 8.76%
- B. 10.01%
- C. 11.02%
- D. 17.25%

113. 2011年一季，华东六省一市安装工程产值高于其平均产值的省(市)有：

- A. 1 个
- B. 2 个
- C. 3 个
- D. 4 个

114. 2011年一季，华东六省一市建筑工程产值与安装工程产值之比最大的三个省(市)是：

- A. 浙江省、福建省、江西省
- B. 江苏省、上海市、江西省
- C. 福建省、安徽省、江西省
- D. 浙江省、福建省、山东省

115. 下列判断不正确的有：

- (1) 2011 年一季度，江西省建筑业每项产值在华东六省一市中都是最低。
- (2) 2011 年一季度，江苏省建筑业产值比上海市高出 139.9%。
- (3) 2011 年一季度，华东六省一市建筑工程产值占其建筑业产值的比重均超过 80%。

- A. 0 个
- B. 1 个
- C. 2 个
- D. 3 个

四、根据所给资料，回答下列问题。

2016 年全国一般公共预算收入 159552 亿元，比上年增长 4.5%。其中，中央一般公共预算收入 72357 亿元，同比增长 4.7%；地方一般公共预算本级收入 87195 亿元，同比增长 4.2%。全国一般公共预算收入中的税收收入 130354 亿元，同比增长 4.3%；非税收入 29198 亿元，同比增长 5%。国内增值税 40712 亿元，同比增长 30.9%，其中改征增值税增长 2.7 倍；营业税 11502 亿元，同比下降 40.4%。国内消费税 10217 亿元，同比下降 3.1%。企业所得税 28850 亿元，同比增长 6.3%。其中，金融业企业所得税 8802 亿元，增长 2.7%；工业企业所得税 7329 亿元，下降 1.3%；房地产企业所得税 3641 亿元，增长 26.8%。个人所得税 10089 亿元，同比增长 17.1%。其中，受二手房交易活跃等带动，财产转让所得税增长 30.7%。进口货物增值税、消费税 12781 亿元，同比增长 2%；关税 2603 亿元，同比增长 1.7%。

116. 2015 年，全国一般公共预算收入约为_____亿元。

- A. 149552
- B. 152681
- C. 151663
- D. 150084

117. 2015 年，地方一般公共预算本级收入约比中央一般公共预算收入：

- A. 多 14835 亿元
- B. 少 14835 亿元
- C. 多 14572 亿元
- D. 少 14572 亿元

118. 2016 年非税收入占全国一般公共预算收入的比重约为：

- A. 16.2%

B. 17.3%

C. 18.3%

D. 18.8%

119. 2016 年，下列各项税收收入中与去年同比有所下降的是：

A. 国内增值税

B. 企业所得税

C. 个人所得税

D. 国内消费税

120. 根据上述材料，下列说法正确的是：

A. 2015 年，全国一般公共预算收入中的税收收入约是非税收收入的 4.8 倍

B. 2015 年，全国工业企业所得税约为 7329 亿元

C. 2016 年，房地产企业所得税占企业所得税的比重最大

D. 2016 年，关税收入同比增长额约为 43.5 亿元

第五部分结束!



关注警校生小图，回复“密卷”获取试题解析